

# Multi Tasking Non Technical Staff Havaladar CBIC and CBN Examination 2021

Roll Number	
Candidate Name	
Venue Name	
Exam Date	08/07/2022
Exam Time	1:00 PM - 2:30 PM
Subject	MTS Non technical and Havaladar Examination 2021

Section : **General English**

**Q.1** The following sentence has been split into four segments. Identify the segment that contains a grammatical error.

Rivers / has being of primary / importance throughout / human history.

- Ans
- 1. importance throughout
  - 2. Rivers
  - 3. human history
  - 4. has being of primary

Question ID : **26433051496**  
Status : **Answered**  
Chosen Option : **4**

**Q.2** Select the most appropriate option to fill in the blank.

The Mid-Day Meal Programme has been running \_\_\_\_\_ 21 years.

- Ans
- 1. of
  - 2. for
  - 3. since
  - 4. off

Question ID : **26433050849**  
Status : **Answered**  
Chosen Option : **2**

**Q.3** Parts of the following sentence have been given as options. One of them may contain an error. Select the part that contains the error from the given options. If you don't find any error, mark 'No error' as your answer.

The use of calculators is prohibited in the examination.

- Ans
- 1. The use of calculators
  - 2. is prohibited in
  - 3. the examination
  - 4. No error

Question ID : **26433051131**  
Status : **Answered**  
Chosen Option : **4**

**Q.4** Select the most appropriate **ANTONYM** of the underlined word in the given sentence.

Many died in captivity and many suffered appalling brutality.

- Ans
- 1. cruelty
  - 2. ferocity
  - 3. gentleness
  - 4. sensuality

Question ID : **26433050695**  
Status : **Answered**  
Chosen Option : **3**

**Q.5** Select the option that rectifies the incorrectly spelt words in the given sentence.

They have legitimete grounds to engage users.

- Ans
- 1. They have legitimete grounds to engaega users.
  - 2. They have legitamate grounds to engage users.
  - 3. They have legitimate grounds to engage users.
  - 4. They have legetimate grounds to engag users.

Question ID : **26433050920**  
Status : **Answered**  
Chosen Option : **3**

**Q.6** Select the most appropriate meaning of the given idiom.

**Water under the bridge**

- Ans
- 1. Anything from the past that is not significant or important anymore
  - 2. Something that does not affect the past
  - 3. Something which happens all the time
  - 4. A problem which has been existing and will continue to exist in the future

Question ID : **26433051464**  
Status : **Answered**  
Chosen Option : **3**

**Q.7** Select the option that can be used as a one-word substitute for the given group of words.

**Animals that live in water**

- Ans
- 1. Terrestrial
  - 2. Aerial
  - 3. Aquatic
  - 4. Nocturnal

Question ID : **26433050761**  
Status : **Answered**  
Chosen Option : **3**

**Q.8 Select the correctly spelt word.**

- Ans  1. Inoculate  
 2. Innoculate  
 3. Innoculete  
 4. Inocculate

Question ID : 26433051639  
Status : Answered  
Chosen Option : 2

**Q.9 Select the option that will improve the underlined part of the given sentence. In case no improvement is needed, select 'No improvement required'.**

In my experience, the press gallery are more concern to public affairs than private ones.

- Ans  1. No improvement required  
 2. are much concern for  
 3. is much more concerned of  
 4. is more concerned with

Question ID : 26433051266  
Status : Answered  
Chosen Option : 1

**Q.10 The following sentence has been divided into parts. One of them may contain an error. Select the part that contains the error from the given options. If you don't find any error, mark 'No error' as your answer.**

In spite of hardly work / she was not able / to pass the exam.

- Ans  1. In spite of hardly work  
 2. to pass the exam  
 3. No error  
 4. she was not able

Question ID : 26433050898  
Status : Answered  
Chosen Option : 4

**Q.11 Select the most appropriate option to fill in the blank.**

He came back from the game, took a \_\_\_\_\_ shower and was ready for the evening.

- Ans  1. quick  
 2. clean  
 3. fast  
 4. heavy

Question ID : 26433051641  
Status : Answered  
Chosen Option : 1

**Q.12** Select the most appropriate meaning of the underlined idiom.

Ron added a feather in his cap by winning that international tournament.

- Ans  1. An achievement to be proud of  
 2. An expression of extreme annoyance  
 3. To take advantage of one's position  
 4. To feel well and healthy

Question ID : 26433050994  
Status : Answered  
Chosen Option : 1

**Q.13** Select the option that will improve the underlined part of the given sentence. In case no improvement is needed, select 'No improvement required'.

Despite not getting approval from the leader, we decided to carry out the plan.

- Ans  1. carry off  
 2. No improvement required  
 3. carry away  
 4. carry over

Question ID : 26433051474  
Status : Answered  
Chosen Option : 2

**Q.14** Select the option that can be used as a one-word substitute for the given group of words.

An action of making amends for a wrong or injury

- Ans  1. Perjury  
 2. Atonement  
 3. Rite  
 4. Redemption

Question ID : 26433051658  
Status : Answered  
Chosen Option : 4

**Q.15** Select the most appropriate synonym of the given word.

Intervene

- Ans  1. Embody  
 2. Coalesce  
 3. Arbitrate  
 4. Combine

Question ID : 26433051634  
Status : Answered  
Chosen Option : 3

**Q.16** Select the most appropriate synonym of the given word.

**Sinister**

- Ans  1. Sainly  
 2. Evil  
 3. Pertinent  
 4. Pleasant

Question ID : 26433051148  
Status : Answered  
Chosen Option : 2

**Q.17** Select the option that can be used as a one-word substitute for the given group of words.

**A large group of people, especially the nomadic**

- Ans  1. Horde  
 2. Hamlet  
 3. Cavalry  
 4. Urban

Question ID : 26433051380  
Status : Not Answered  
Chosen Option : --

**Q.18** Select the most appropriate ANTONYM of the given word.

**Obvious**

- Ans  1. Plain  
 2. Active  
 3. Hidden  
 4. Vapid

Question ID : 26433051635  
Status : Answered  
Chosen Option : 1

**Q.19** Select the option that can be used as a one-word substitute for the given group of words.

**Not fit to eat**

- Ans  1. Inedible  
 2. Fragile  
 3. Potable  
 4. Sullen

Question ID : 26433050917  
Status : Answered  
Chosen Option : 1

**Q.20** Select the most appropriate **ANTONYM** of the given word.

**Abate**

- Ans**  1. Moderate  
 2. Aggravate  
 3. Decrease  
 4. Observe

Question ID : **26433051694**  
Status : **Answered**  
Chosen Option : **2**

**Comprehension:**

In the following passage, some words have been deleted. Read the passage carefully and select the most appropriate option to fill in each blank.

Endurance was the three-masted ship in (1) \_\_\_\_\_ Sir Ernest Shackleton and a (2) \_\_\_\_\_ of 27 men sailed for the Antarctic on the 1914–1917 Imperial Trans-Antarctic Expedition. The ship, originally named Polaris, was built at Framnæs shipyard and (3) \_\_\_\_\_ in 1912 from Sandefjord in Norway. After her commissioners could no longer pay the shipyard, the ship (4) \_\_\_\_\_ bought by Shackleton in January 1914 for the expedition, which would be her first (5) \_\_\_\_\_.

**SubQuestion No : 21**

**Q.21** Select the most appropriate option to fill in blank number 1.

- Ans**  1. who  
 2. that  
 3. where  
 4. which

Question ID : **26433051626**  
Status : **Answered**  
Chosen Option : **4**

**Comprehension:**

In the following passage, some words have been deleted. Read the passage carefully and select the most appropriate option to fill in each blank.

Endurance was the three-masted ship in (1) \_\_\_\_\_ Sir Ernest Shackleton and a (2) \_\_\_\_\_ of 27 men sailed for the Antarctic on the 1914–1917 Imperial Trans-Antarctic Expedition. The ship, originally named Polaris, was built at Framnæs shipyard and (3) \_\_\_\_\_ in 1912 from Sandefjord in Norway. After her commissioners could no longer pay the shipyard, the ship (4) \_\_\_\_\_ bought by Shackleton in January 1914 for the expedition, which would be her first (5) \_\_\_\_\_.

**SubQuestion No : 22**

**Q.22** Select the most appropriate option to fill in blank number 2.

- Ans**  1. group  
 2. watch  
 3. team  
 4. crew

Question ID : **26433051627**  
Status : **Answered**  
Chosen Option : **1**

**Comprehension:**

In the following passage, some words have been deleted. Read the passage carefully and select the most appropriate option to fill in each blank.

Endurance was the three-masted ship in (1) \_\_\_\_\_ Sir Ernest Shackleton and a (2) \_\_\_\_\_ of 27 men sailed for the Antarctic on the 1914–1917 Imperial Trans-Antarctic Expedition. The ship, originally named Polaris, was built at Framnæs shipyard and (3) \_\_\_\_\_ in 1912 from Sandefjord in Norway. After her commissioners could no longer pay the shipyard, the ship (4) \_\_\_\_\_ bought by Shackleton in January 1914 for the expedition, which would be her first (5) \_\_\_\_\_.

**SubQuestion No : 23**

**Q.23 Select the most appropriate option to fill in blank number 3.**

- Ans  1. recovered  
 2. released  
 3. launched  
 4. started

Question ID : 26433051628

Status : Answered

Chosen Option : 4

**Comprehension:**

In the following passage, some words have been deleted. Read the passage carefully and select the most appropriate option to fill in each blank.

Endurance was the three-masted ship in (1) \_\_\_\_\_ Sir Ernest Shackleton and a (2) \_\_\_\_\_ of 27 men sailed for the Antarctic on the 1914–1917 Imperial Trans-Antarctic Expedition. The ship, originally named Polaris, was built at Framnæs shipyard and (3) \_\_\_\_\_ in 1912 from Sandefjord in Norway. After her commissioners could no longer pay the shipyard, the ship (4) \_\_\_\_\_ bought by Shackleton in January 1914 for the expedition, which would be her first (5) \_\_\_\_\_.

**SubQuestion No : 24**

**Q.24 Select the most appropriate option to fill in blank number 4.**

- Ans  1. is  
 2. was  
 3. were  
 4. are

Question ID : 26433051629

Status : Answered

Chosen Option : 2

**Comprehension:**

In the following passage, some words have been deleted. Read the passage carefully and select the most appropriate option to fill in each blank.

Endurance was the three-masted ship in (1) \_\_\_\_\_ Sir Ernest Shackleton and a (2) \_\_\_\_\_ of 27 men sailed for the Antarctic on the 1914–1917 Imperial Trans-Antarctic Expedition. The ship, originally named Polaris, was built at Framnæs shipyard and (3) \_\_\_\_\_ in 1912 from Sandefjord in Norway. After her commissioners could no longer pay the shipyard, the ship (4) \_\_\_\_\_ bought by Shackleton in January 1914 for the expedition, which would be her first (5) \_\_\_\_\_.

SubQuestion No : 25

Q.25 Select the most appropriate option to fill in blank number 5.

- Ans  1. drive  
 2. voyage  
 3. route  
 4. hike

Question ID : 26433051630  
Status : Answered  
Chosen Option : 2

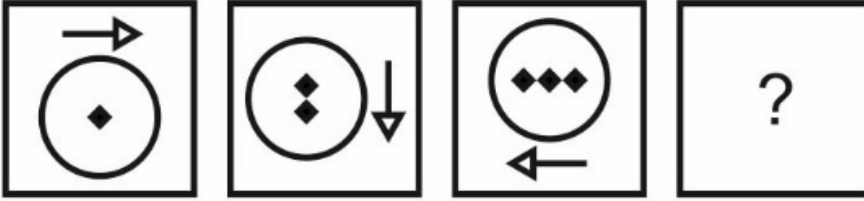
Section : General Intelligence and Reasoning

Q.1 एक निश्चित कूट भाषा में, 'HAIR' को 'SJBH' के रूप में लिखा जाता है, और 'POLE' को 'FMPQ' के रूप में लिखा जाता है। उसी भाषा में 'MANY' को किस रूप में लिखा जाएगा?

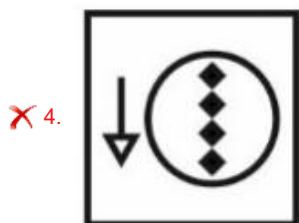
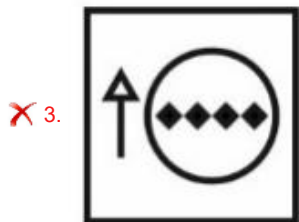
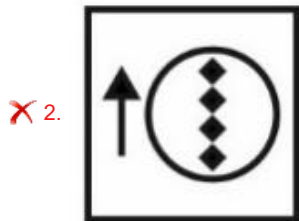
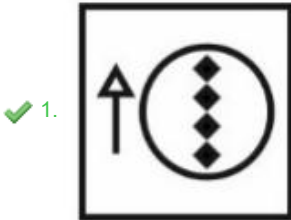
- Ans  1. ZPBN  
 2. ZOBH  
 3. ZOBM  
 4. ZOCN

Question ID : 26433049045  
Status : Answered  
Chosen Option : 2

Q.2 दिए गए विकल्पों में से उस आकृति का चयन करें, जो निम्नलिखित शृंखला में प्रश्न चिह्न (?) के स्थान पर आ सकती है।



Ans

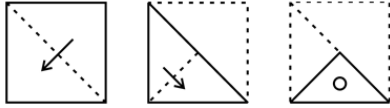


Question ID : 26433048958

Status : Answered

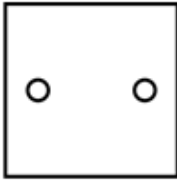
Chosen Option : 1

Q.3 कागज के एक टुकड़े को मोड़ने का क्रम और जिस तरीके से मुड़े हुए कागज को काटा गया है, उसे निम्नलिखित आकृतियों में दिखाया गया है। खोलने पर यह कागज कैसा दिखेगा?

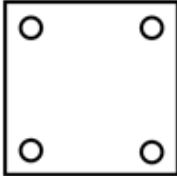


Ans

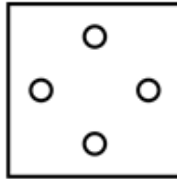
✗ 1.



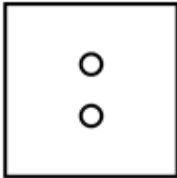
✗ 2.



✓ 3.



✗ 4.



Question ID : 26433048016

Status : Answered

Chosen Option : 3

Q.4 उस विकल्प का चयन करें जिसमें संख्याएँ उसी प्रकार संबंधित हैं, जिस प्रकार संख्याएँ दिए गए समुच्चय में संबंधित हैं।

(18, 400, 484)

Ans ✗ 1. (20, 400, 576)

✓ 2. (24, 676, 784)

✗ 3. (14, 256, 400)

✗ 4. (22, 400, 324)

Question ID : 26433048942

Status : Answered

Chosen Option : 2

Q.5 दिए गए कथनों और निष्कर्षों को ध्यानपूर्वक पढ़ें। यह मानते हुए कि कथनों में दी गई जानकारी सत्य है, भले ही वह सामान्य रूप से ज्ञात तथ्यों से भिन्न प्रतीत होती हो, तय करें कि दिए गए निष्कर्षों में से कौन सा/से निष्कर्ष तार्किक रूप से कथनों का अनुसरण करता/ते है/हैं।

कथन:

- I. कोई भी कार बेंच नहीं है।
- II. सभी मेज़ें कारें हैं।

निष्कर्ष:

- I. कुछ कारें मेज़ें हैं।
- II. कुछ कारें बेंचें हैं।
- III. कोई भी बेंच मेज़ नहीं है।

- Ans
- 1. सभी निष्कर्ष अनुसरण करते हैं
  - 2. केवल निष्कर्ष I और II अनुसरण करते हैं
  - 3. केवल निष्कर्ष I और III अनुसरण करते हैं
  - 4. केवल निष्कर्ष II अनुसरण करता है

Question ID : 26433048954

Status : Answered

Chosen Option : 3

Q.6 दिए गए समीकरण को सही बनाने के लिए किन दो संख्याओं (अंकों को नहीं) और दो चिह्नों को परस्पर बदलना चाहिए?

$$28 \times 4 + 15 \div 8 - 34 = 388$$

- Ans
- 1. + और ÷; 4 और 34
  - 2. × और ÷; 28 और 8
  - 3. - और ×; 15 और 28
  - 4. + और ×; 15 और 8

Question ID : 26433048515

Status : Answered

Chosen Option : 2

Q.7 दिए गए दो चिह्नों + और -, और दो संख्याओं 6 और 25 को आपस में बदलने पर दिए गए व्यंजक का मान क्या होगा?

$$4 - 6 \div 5 \times 25 + 14$$

- Ans
- 1. 5
  - 2. 20
  - 3. 15
  - 4. 10

Question ID : 26433048864

Status : Answered

Chosen Option : 2

Q.8 दिए गए विकल्पों में से उस अक्षर-समूह का चयन कीजिए जो निम्नलिखित श्रृंखला में प्रश्नवाचक चिह्न (?) के स्थान पर आ सकता है।

XJ, AG, DD, GA, ?

Ans  1. KY

 2. KX

 3. JY

 4. JX

Question ID : 26433048527

Status : Answered

Chosen Option : 4

Q.9 उस विकल्प का चयन करें, जिसमें दी गई आकृति अंतर्निहित है (घुमाने की अनुमति नहीं है)

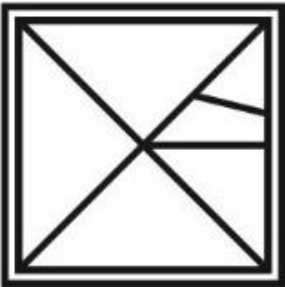


Ans

✓ 1.




✗ 2.



✗ 3.



✗ 4.



Question ID : 26433048960  
Status : Answered  
Chosen Option : 1

Q.10 एक निश्चित कूट भाषा में, 'TORQ' को '210' के रूप में कोडित किया जाता है, और 'HARN' को '123' के रूप में कोडित किया जाता है। उसी कूट भाषा में 'PADM' का कूट क्या होगा?

- Ans  1. 102  
 2. 94  
 3. 86  
 4. 112

Question ID : 26433048722  
Status : Answered  
Chosen Option : 1

Q.11 विकल्पों में से उस आकृति का चयन करें जो प्रश्न-चिह्न (?) के स्थान पर आ सकती है और पैटर्न को पूर्ण करती है।



- Ans  1.
- 2.
- 3.
- 4.

Question ID : 26433048638  
Status : Answered  
Chosen Option : 2

Q.12 उस विकल्प का चयन करें जो तीसरे अक्षर-समूह से उसी प्रकार संबंधित है, जिस प्रकार दूसरा अक्षर-समूह पहले अक्षर-समूह से संबंधित है।

KING : HFKD :: FRKM : ?

- Ans  1. CLHJ  
 2. COHK  
 3. CLHK  
 4. COHJ

Question ID : 26433049049  
Status : Answered  
Chosen Option : 4

Q.13 एक विशिष्ट कूट भाषा में, 'nu vu du' को 'Time and Money' के रूप में लिखा जाता है, 'hu du ru' को 'Manage Money Judiciously' के रूप में लिखा जाता है, और 'tu vu lu' को 'Save More Time' लिखा जाता है। उसी कूट भाषा में 'Save More Money' को क्या लिखा जाएगा?

Ans  1. du nu lu

2. tu lu du

3. nu tu du

4. tu vu du

Question ID : 26433048419

Status : Answered

Chosen Option : 2

Q.14 उस संख्या का चयन करें, जो निम्नलिखित श्रृंखला में प्रश्न चिह्न (?) के स्थान पर आ सकती है।

42, 38, 80, 118, 198, 316, ?

Ans  1. 494

2. 506

3. 486

4. 514

Question ID : 26433048869

Status : Answered

Chosen Option : 4

Q.15 उस विकल्प का चयन कीजिए जो दी गई श्रृंखला में प्रश्नवाचक चिह्न (?) के स्थान पर आएगा।

11, 16, 26, 41, 61, ?

Ans  1. 91

2. 86

3. 81

4. 76

Question ID : 26433048282

Status : Answered

Chosen Option : 2

Q.16 सात लड़कों B1, B2, B3, B4, B5, B6 और B7 के भारों की तुलना की गई है। किन्हीं भी दो लड़कों का भार समान नहीं है। B4 का भार केवल तीन लड़कों से कम है। B1 का भार B7 से अधिक है। B2 का भार सबसे अधिक है। B5 और B6, दोनों का भार B1 से अधिक है। B3 का भार B7 से कम है।

कितने लड़कों का भार B1 से कम है?

Ans  1. 4

2. 3

3. 2

4. 1

Question ID : 26433048882

Status : Answered

Chosen Option : 3

Q.17 एक निश्चित कूट भाषा में, 'MISTER' को '925301' के रूप में कूटबद्ध किया जाता है, 'UNCLE' को '84670' के रूप में कूटबद्ध किया जाता है, और 'SEN' को '504' के रूप में कूटबद्ध किया जाता है। उसी भाषा में 'MISTIC' को किस रूप में कूटबद्ध किया जाएगा?

- Ans
- 1. 876523
  - 2. 936571
  - 3. 925326
  - 4. 367829

Question ID : 26433048175  
Status : Answered  
Chosen Option : 3

Q.18 दिए गए कथनों और निष्कर्षों को ध्यानपूर्वक पढ़ें। यह मानते हुए कि कथनों में दी गई जानकारी सत्य है, भले ही वह सामान्य रूप से ज्ञात तथ्यों से भिन्न प्रतीत होती हो, तय करें कि दिए गए निष्कर्षों में से कौन सा/से निष्कर्ष तार्किक रूप से कथनों का अनुसरण करता/ते है/हैं।

कथन:

- I. सभी क्रैक्स चिप्स हैं।
- II. सभी पेय चिप्स हैं।

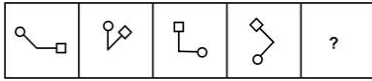
निष्कर्ष:

- I. कुछ पेय क्रैक्स नहीं हैं।
- II. सभी चिप्स क्रैक्स हैं।

- Ans
- 1. निष्कर्ष I और II दोनों अनुसरण करते हैं
  - 2. केवल निष्कर्ष II अनुसरण करता है
  - 3. न तो निष्कर्ष I और न ही निष्कर्ष II अनुसरण करता है
  - 4. केवल निष्कर्ष I अनुसरण करता है

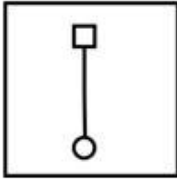
Question ID : 26433048953  
Status : Answered  
Chosen Option : 3

Q.19 दिए गए विकल्पों में से उस आकृति का चयन कीजिए, जो निम्नलिखित श्रृंखला में प्रश्नवाचक चिह्न (?) के स्थान पर आ सकती है।

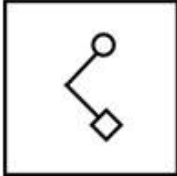


Ans

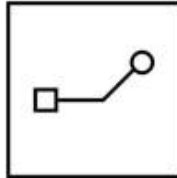
✗ 1.



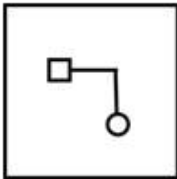
✗ 2.



✓ 3.



✗ 4.

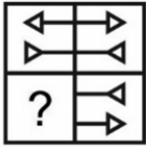


Question ID : 26433048288

Status : Answered

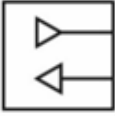
Chosen Option : 4

Q.20 विकल्पों में से उस आकृति का चयन करें, जो प्रश्न चिह्न (?) के स्थान पर आ सकती है और पैटर्न को पूर्ण कर सकती है। (घुमाने की अनुमति नहीं है)

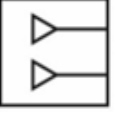


Ans

✓ 1.



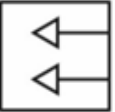
✗ 2.



✗ 3.



✗ 4.



Question ID : 26433048938

Status : Answered

Chosen Option : 1

Q.21 उस विकल्प का चयन करें, जो तीसरे अक्षर-समूह से उसी प्रकार संबंधित है, जिस प्रकार दूसरा अक्षर-समूह पहले अक्षर-समूह से संबंधित है।

TRO : QMN :: BLA : ?

Ans ✗ 1. YHZ

✓ 2. YGZ

✗ 3. XHG

✗ 4. XGZ

Question ID : 26433048951

Status : Answered

Chosen Option : 4

Q.22 उस विकल्प का चयन कीजिए जिसका पांचवें पद के साथ वही संबंध है, जो दूसरे पद का पहले पद के साथ है, और चौथे पद का तीसरे पद के साथ है।

U144 : S121 :: N100 : L81 :: G64 : ?

Ans ✗ 1. F36

✗ 2. D30

✓ 3. E49

✗ 4. G49

Question ID : 26433048171

Status : Answered

Chosen Option : 3

Q.23 आठ लड़के A, B, C, D, E, F, G और H एक वर्गाकार मेज़ के चारों ओर, मेज़ के केंद्र की ओर मुख करके बैठे हैं, (किंतु आवश्यक नहीं है कि इसी क्रम में हों)। मेज़ की प्रत्येक भुजा पर दो लड़के बैठे हैं। G और C एक ही भुजा पर बैठे हैं। E, G के सामने बैठा है और E, B के सन्निकट दाईं ओर बैठा है। F और H, G और C की आसन्न भुजा पर बैठे हैं। F और H एक ही भुजा पर बैठे हैं। H, B के बाईं ओर चौथे स्थान पर बैठा है। D, G का सन्निकट पड़ोसी नहीं है। लड़कों के निम्नलिखित युग्मों में से कौन सा युग्म वर्गाकार मेज़ की एक ही भुजा पर बैठे लड़कों को दर्शाता है?

- Ans  1. AC  
 2. BD  
 3. BA  
 4. HD

Question ID : 26433048881

Status : Answered

Chosen Option : 3

Q.24 उस विकल्प का चयन करें, जिसमें संख्याएँ वही संबंध साझा करती हैं, जो संबंध दिए गए समुच्चय में संख्याओं द्वारा साझा किया जाता है।

(टिप्पणी: संख्याओं को उसके घटक अंकों में विभाजित किए बिना पूर्ण संख्याओं पर संक्रियाएँ की जानी चाहिए। उदाहरण के लिए 13 - 13 पर संक्रियाएँ जैसे कि जोड़ने / घटाने / गुणा करने आदि को 13 पर किया जा सकता है। 13 को 1 और 3 में विभाजित करने और फिर 1 और 3 पर गणितीय संक्रियाएँ करने की अनुमति नहीं है)  
(46, 138, 414)

- Ans  1. (52, 156, 624)  
 2. (38, 114, 342)  
 3. (42, 126, 504)  
 4. (56, 224, 896)

Question ID : 26433048941

Status : Answered

Chosen Option : 2

Q.25 पाँच व्यक्ति, J, N, P, R और S एक सीधी पंक्ति में उत्तर की ओर मुँह करके बैठे हैं, लेकिन आवश्यक नहीं कि इसी क्रम में हों। केवल N, J और S के बीच में बैठा है। S, P के ठीक बाएँ बैठा है। J, R के ठीक दाएँ बैठा है। बाएँ छोर से दूसरे स्थान पर कौन बैठा है?

- Ans  1. J  
 2. P  
 3. R  
 4. S

Question ID : 26433048276

Status : Answered

Chosen Option : 1

Section : Numerical Aptitude

Q.1 10 वर्षों की अवधि के लिए निवेश की गई धनराशि पर साधारण ब्याज निवेश की गई धनराशि के 4/5 के बराबर है।  
वार्षिक साधारण ब्याज की दर क्या दी जा रही है?

- Ans
- 1. 9%
  - 2. 10%
  - 3. 8%
  - 4. 8.5%

Question ID : 26433049857  
Status : Answered  
Chosen Option : 3

Q.2 एक लैपटॉप का अंकित मूल्य ₹65,000 है। लैपटॉप को 20% की छूट पर बेचा जाता है। यदि विक्री से 30% का लाभ होता है, तो लैपटॉप का क्रय मूल्य क्या है?

- Ans
- 1. ₹50,000
  - 2. ₹48,000
  - 3. ₹40,000
  - 4. ₹45,000

Question ID : 26433049849  
Status : Answered  
Chosen Option : 3

Q.3 बिंदु A और B, एक दूसरे से 200 km दूर हैं। एक व्यक्ति A से B की ओर 10 a.m. पर 10 km/h की चाल से चलना शुरू करता है। दूसरा व्यक्ति B से A की ओर 11 a.m. पर 20 km/h की चाल से चलना शुरू करता है। वे किस समय मिलेंगे?

- Ans
- 1. 5:20 p.m.
  - 2. 4:40 p.m.
  - 3. 5:10 p.m.
  - 4. 5:40 p.m.

Question ID : 26433049620  
Status : Answered  
Chosen Option : 1

Q.4 एक नाव शांत जल में 7 km/h की चाल से यात्रा कर सकती है और धारा की चाल 3 km/h है। नाव द्वारा धारा की विपरीत दिशा में 60 km जाने और आरंभिक स्थान पर वापस आने में लगने वाला कुल समय (घंटे में) ज्ञात कीजिए।

- Ans
- 1. 15
  - 2. 16
  - 3. 21
  - 4. 20

Question ID : 26433050209  
Status : Answered  
Chosen Option : 3

Q.5 दी गई तालिका का अध्ययन करें और उसके आधार पर नीचे दिए गए प्रश्न का उत्तर दें।  
तालिका में किसी सप्ताह के छः दिनों में पांच श्रमिकों द्वारा बनाए गए क्रिकेट बैट्स की संख्या को दर्शाया गया है।

श्रमिक \ दिन	सोमवार	मंगलवार	बुधवार	गुरुवार	शुक्रवार	शनिवार
A	90	70	110	85	75	60
B	40	65	70	82	90	95
C	100	95	74	80	63	60
D	40	40	50	45	60	30
E	54	65	32	48	85	96

C द्वारा बनाए गए बैट्स की संख्या, A द्वारा प्रतिदिन बनाए गए बैट्स की औसत संख्या से कितने दिनों में अधिक है?

- Ans
- ✓ 1. 2
  - ✗ 2. 1
  - ✗ 3. 4
  - ✗ 4. 3

Question ID : 26433050212

Status : Answered

Chosen Option : 1

Q.6 एक कक्षा के 17 छात्रों का औसत भार 56 kg है। 3 नए छात्र जिनके भार क्रमशः 57, 62 और 68 kg हैं, कक्षा में शामिल होते हैं। कक्षा के छात्रों का नया औसत भार ज्ञात कीजिए।

- Ans
- ✓ 1. 56.95 kg
  - ✗ 2. 58.05 kg
  - ✗ 3. 56.45 kg
  - ✗ 4. 57.65 kg

Question ID : 26433050323

Status : Answered

Chosen Option : 1

Q.7 शुभम ने मीशो से ₹500 में एक किताब खरीदी। मीशो ने पैकेजिंग के लिए ₹25 और किताब की डिलीवरी के लिए ₹50 का अतिरिक्त शुल्क भी लिया। 16% का लाभ प्राप्त करने के लिए शुभम को अपनी पुस्तक किस मूल्य पर बेचनी चाहिए?

- Ans
- ✗ 1. ₹783
  - ✓ 2. ₹667
  - ✗ 3. ₹612
  - ✗ 4. ₹458

Question ID : 26433050277

Status : Answered


Chosen Option : 2

Q.8 एक राशि को 6% की वार्षिक साधारण ब्याज दर से 8 महीने के लिए निवेश करने पर उस पर ₹250 का ब्याज प्राप्त होता है। वह राशि ज्ञात कीजिए।

- Ans
- ✓ 1. ₹6,250
  - ✗ 2. ₹6,225
  - ✗ 3. ₹6,550
  - ✗ 4. ₹7,250

Question ID : 26433050282  
Status : Answered  
Chosen Option : 1

Q.9 निम्न पाई-चार्ट का अध्ययन करें और उसके आधार पर दिए गए प्रश्न का उत्तर दें। पाई-चार्ट एक जिले में छः अलग-अलग विषयों को पढ़ाने वाले शिक्षकों के प्रतिशत-वार वितरण को सभी विषयों के शिक्षकों की कुल संख्या के प्रतिशत के रूप में दर्शाता है।



अंग्रेजी (English) पढ़ाने वाले शिक्षकों की संख्या और रसायन विज्ञान (Chemistry) पढ़ाने वाले शिक्षकों की संख्या का अनुपात ज्ञात कीजिए।

- Ans
- ✗ 1. 13 : 20
  - ✗ 2. 3 : 2
  - ✓ 3. 24 : 23
  - ✗ 4. 23 : 18

Question ID : 26433050289  
Status : Answered  
Chosen Option : 3

Q.10 J एक कार्य को 21 दिनों में पूरा कर सकता है, K उसे 42 दिनों में पूरा कर सकता है और L उसे 63 दिनों में पूरा कर सकता है। यदि J, K और L एक साथ मिलकर कार्य करते हैं, तो वे उस कार्य को कितने दिनों में पूरा कर सकते हैं?

- Ans
- ✗ 1.  $11\frac{3}{11}$
  - ✗ 2.  $11\frac{6}{11}$
  - ✗ 3.  $11\frac{4}{11}$
  - ✓ 4.  $11\frac{5}{11}$

Question ID : 26433050385  
Status : Answered  
Chosen Option : 4

Q.11 एक आयत की लंबाई में  $16\frac{2}{3}\%$  की वृद्धि की जाती है। इसकी चौड़ाई में कितने प्रतिशत की कमी की जानी चाहिए ताकि आयत का क्षेत्रफल अपरिवर्तित रहे?

- Ans
- 1. 17.5%
  - 2. 14.29%
  - 3. 12.5%
  - 4. 10%

Question ID : 26433049701  
Status : Answered  
Chosen Option : 2

Q.12 एक आयताकार कार्ड-बोर्ड की लंबाई और चौड़ाई क्रमशः 40 cm और 35 cm है। यदि इस कार्ड-बोर्ड से सबसे बड़ा संभव वर्ग काट दिया जाए, तो कार्ड-बोर्ड के शेष भाग का क्षेत्रफल क्या होगा?

- Ans
- 1.  $175 \text{ cm}^2$
  - 2.  $275 \text{ cm}^2$
  - 3.  $425 \text{ cm}^2$
  - 4.  $325 \text{ cm}^2$

Question ID : 26433050290  
Status : Answered  
Chosen Option : 1

Q.13 रवि ₹150 प्रत्येक पर 5 पेन, ₹100 प्रत्येक पर 2 पेंसिलें और ₹250 प्रत्येक पर 3 नोटबुक खरीदता है। रवि द्वारा प्रति वस्तु का औसत व्यय कितना है?

- Ans
- 1. ₹165
  - 2. ₹160
  - 3. ₹180
  - 4. ₹170

Question ID : 26433049854  
Status : Answered  
Chosen Option : 4

Q.14 यदि  $A = \frac{3 \times 4 + 2}{6 \div 3 + 2}$  और  $B = \frac{12 \div 6 \times 2}{8 \div 4 - 3}$  है, तो  $A^2 + B^2 - 2AB$  का मान क्या होगा?

- Ans
- 1. 42.25
  - 2. 56.25
  - 3. 52.25
  - 4. 72.25

Question ID : 26433049639  
Status : Answered  
Chosen Option : 2

Q.15 निम्न समीकरण में प्रश्न चिह्न (?) के स्थान पर कौन-सी संख्या आ सकती है?

$$(0.064)^{123} \div 0.16^{47} \times 0.4^{34} \times 0.4^{29} = (0.4)^?$$

- Ans
- 1. 320
  - 2. 341
  - 3. 338
  - 4. 350

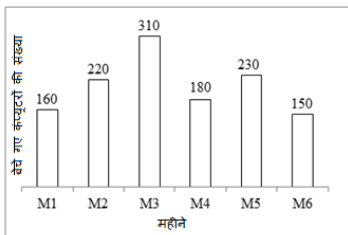
Question ID : 26433050268  
Status : Answered  
Chosen Option : 3

Q.16 यदि  $m : n = 5 : 4$  है, तो  $(m^2 + n^2) : (m^2 - n^2)$  का मान क्या होगा?

- Ans
- 1. 32 : 5
  - 2. 25 : 9
  - 3. 41 : 9
  - 4. 16 : 9

Question ID : 26433049630  
Status : Answered  
Chosen Option : 3

Q.17 निम्न बार चार्ट एक दुकान द्वारा 6 क्रमिक महीनों में बेचे गए कंप्यूटरों की संख्या दर्शाता है।



इस अवधि के दौरान प्रति माह बेचे गए कंप्यूटरों की औसत संख्या कितनी है? [उत्तर निकटतम पूर्णांक मान में दीजिए।]

- Ans
- 1. 212
  - 2. 219
  - 3. 204
  - 4. 208

Question ID : 26433049641  
Status : Answered  
Chosen Option : 4

Q.18 एक शहर की कुल जनसंख्या में 60% पुरुष और शेष महिलाएं हैं। यदि विवाहित पुरुषों और अविवाहित पुरुषों की संख्या का अनुपात 5 : 7 है तथा विवाहित महिलाओं और अविवाहित महिलाओं की संख्या का अनुपात 2 : 3 है, तो कुल जनसंख्या का कितना प्रतिशत विवाहित है?

- Ans
- 1. 51%
  - 2. 59%
  - 3. 49%
  - 4. 41%

Question ID : 26433050150  
Status : Answered  
Chosen Option : 4

Q.19 28 cm त्रिज्या के एक बड़े गोले को पिघलाकर निश्चित संख्या में समान आकार के गोले बनाए जाते हैं। यदि प्रत्येक छोटे गोले का पृष्ठीय क्षेत्रफल  $2464 \text{ cm}^2$  है, तो निर्मित छोटे गोलों की संख्या कितनी है? [ $\pi = \frac{22}{7}$  मानिए]

- Ans
- 1. 8
  - 2. 9
  - 3. 7
  - 4. 6

Question ID : 26433049441  
Status : Answered  
Chosen Option : 3

Q.20  $A_1$  अकेले एक काम को 14 दिनों में पूरा कर सकता है,  $A_2$  अकेले उसी काम को 21 दिनों में पूरा कर सकता है, जबकि  $A_3$  अकेले उसी काम को 28 दिनों में पूरा कर सकता है। तीनों ने एक साथ काम पूरा किया और काम पूरा करने के लिए उन्हें कुल ₹1,040 का भुगतान किया गया। प्राप्त कुल भुगतान में से  $A_2$  का हिस्सा कितना होगा?

- Ans
- 1. ₹400
  - 2. ₹240
  - 3. ₹480
  - 4. ₹320

Question ID : 26433049743  
Status : Answered  
Chosen Option : 4

Q.21 एक वस्तु के 8% के लाभ और 4% की हानि पर विक्रय मूल्यों का अंतर ₹54 है। वस्तु का क्रय मूल्य ज्ञात कीजिए।

- Ans
- 1. ₹540
  - 2. ₹720
  - 3. ₹450
  - 4. ₹480

Question ID : 26433050276  
Status : Answered  
Chosen Option : 3

**Q.22** एक धनराशि A, B और C के बीच 8:4:3 के अनुपात में बांटी जाती है। यदि A अपने हिस्से को D और E के बीच 9:7 के अनुपात में बांट देता है, तो C और D के हिस्से का अनुपात ज्ञात कीजिए।

- Ans
- ✓ 1. 2:3
  - ✗ 2. 6:7
  - ✗ 3. 4:5
  - ✗ 4. 3:4

Question ID : 26433050205  
Status : Answered  
Chosen Option : 1

**Q.23** 3 लड़कियों की औसत आयु 24 वर्ष है और उनकी आयुओं का अनुपात 7 : 8 : 9 है। सबसे बड़ी लड़की की आयु कितनी है?

- Ans
- ✗ 1. 24 वर्ष
  - ✓ 2. 27 वर्ष
  - ✗ 3. 21 वर्ष
  - ✗ 4. 25 वर्ष

Question ID : 26433049421  
Status : Answered  
Chosen Option : 2

**Q.24** यदि दो संख्याओं (प्रत्येक 17 से बड़ी) का महत्तम समापवर्तक (HCF) 17 और लघुत्तम समापवर्त्य (LCM) 561 है, तो उन दोनों संख्याओं का योग ज्ञात कीजिए।

- Ans
- ✗ 1. 340
  - ✗ 2. 268
  - ✓ 3. 238
  - ✗ 4. 387

Question ID : 26433050270  
Status : Answered  
Chosen Option : 1

**Q.25** 18 cm और 16 cm त्रिज्याओं वाले दो वृत्तों की उभयनिष्ठ जीवा की लंबाई 19.2 cm है। दोनों वृत्तों के केंद्रों के बीच की दूरी ज्ञात कीजिए। [अपना उत्तर निकटतम पूर्णांक में दें]

- Ans
- ✗ 1. 35 cm
  - ✗ 2. 23 cm
  - ✗ 3. 20 cm
  - ✓ 4. 28 cm

Question ID : 26433050342  
Status : Answered  
Chosen Option : 4

Q.1 प्रधानमंत्री नरेंद्र मोदी ने किस शहर में आयुष्मान भारत स्वास्थ्य अवसरचना मिशन का शुभारंभ किया?

- Ans
- 1. लखनऊ
  - 2. कानपुर
  - 3. वाराणसी
  - 4. नोएडा

Question ID : 26433047668  
Status : Answered  
Chosen Option : 1

Q.2 क्रोमियम का परमाणु क्रमांक कितना होता है?

- Ans
- 1. 19
  - 2. 24
  - 3. 21
  - 4. 18

Question ID : 26433047598  
Status : Answered  
Chosen Option : 2

Q.3 सराय नूरमहल भारत का एक केंद्रीय संरक्षित स्मारक है। यह भारत के किस राज्य में स्थित है?

- Ans
- 1. हिमाचल प्रदेश
  - 2. उत्तर प्रदेश
  - 3. पंजाब
  - 4. पश्चिम बंगाल

Question ID : 26433047672  
Status : Answered  
Chosen Option : 2

Q.4 मुगल बादशाह औरंगजेब की मृत्यु किस वर्ष हुई थी?

- Ans
- 1. 1707
  - 2. 1701
  - 3. 1703
  - 4. 1705

Question ID : 26433047683  
Status : Answered  
Chosen Option : 1

Q.5 'रोड्स टू मसूरी' ('Roads to Mussoorie') पुस्तक के लेखक कौन हैं?

- Ans
- 1. अमीश त्रिपाठी
  - 2. किरण देसाई
  - 3. अश्विन सांधी
  - 4. रस्किन बांड

Question ID : 26433047260  
Status : Answered  
Chosen Option : 3

Q.6 'कालबेलिया' नृत्य शैली निम्नलिखित में से किस राज्य से संबंधित है?

- Ans  1. राजस्थान  
 2. उत्तराखंड  
 3. ओड़िशा  
 4. पंजाब

Question ID : 26433047020  
Status : Answered  
Chosen Option : 1

Q.7 हाइड्रोजन का परमाणु द्रव्यमान (u) लगभग कितना होता है?

- Ans  1. 4  
 2. 1  
 3. 14  
 4. 12

Question ID : 26433047676  
Status : Answered  
Chosen Option : 2

Q.8 डेविड वार्नर IPL 2022 में किस टीम के लिए खेले?

- Ans  1. सनराइजर्स हैदराबाद  
 2. रॉयल चैलेंजर्स बैंगलोर  
 3. दिल्ली कैपिटल्स  
 4. पंजाब किंग्स

Question ID : 26433047566  
Status : Marked For Review  
Chosen Option : 1

Q.9 रविकीर्ति किस चालुक्य शासक के दरबारी कवि थे?

- Ans  1. भीम द्वितीय  
 2. कीर्तिवर्मन द्वितीय  
 3. पुलकेशिन द्वितीय  
 4. विक्रमादित्य द्वितीय

Question ID : 26433047682  
Status : Answered  
Chosen Option : 3

Q.10 जनवरी 2022 में भारत सरकार के मुख्य आर्थिक सलाहकार के रूप में किसे नियुक्त किया गया?

- Ans  1. रघुराम राजन  
 2. एस. रामकृष्णन  
 3. कृष्णमूर्ति सुब्रमण्यम  
 4. वी. अनंत नागेश्वरन

Question ID : 26433047244  
Status : Answered  
Chosen Option : 4

Q.11 Open Market Operations conducted by the Reserve Bank of India (RBI) are of \_\_\_\_\_ types.

- Ans
- 1. four
  - 2. five
  - 3. three
  - 4. two

Question ID : 26433047267  
Status : Answered  
Chosen Option : 3

Q.12 2011 की जनगणना के अनुसार, निम्नलिखित में से भारत की सबसे अधिक बोली जाने वाली भाषा कौन सी है?

- Ans
- 1. तेलुगू
  - 2. हिन्दी
  - 3. अंग्रेज़ी
  - 4. मराठी

Question ID : 26433046829  
Status : Answered  
Chosen Option : 2

Q.13 राधा श्रीधर को भारत के किस शास्त्रीय नृत्य में उत्कृष्ट योगदान के लिए वर्ष 2018 का संगीत नाटक अकादमी पुरस्कार मिला?

- Ans
- 1. कथक नृत्य
  - 2. कुचिपुड़ी
  - 3. सत्रीया
  - 4. भरतनाट्यम

Question ID : 26433047687  
Status : Not Answered  
Chosen Option : --

Q.14 भारतीय संविधान के किस अनुच्छेद में कहा गया है कि 'किसी भी व्यक्ति को एक ही अपराध के लिए एक बार से ज्यादा सजा नहीं मिलेगी'?

- Ans
- 1. अनुच्छेद 28
  - 2. अनुच्छेद 21A
  - 3. अनुच्छेद 20
  - 4. अनुच्छेद 18

Question ID : 26433047688  
Status : Answered  
Chosen Option : 3

Q.15 \_\_\_\_\_ भारत में स्थल से घिरा सबसे गहरा और अच्छी तरह से संरक्षित बंदरगाह है।

- Ans
- 1. मुंबई बंदरगाह
  - 2. कांडला बंदरगाह
  - 3. तूतीकोरिन बंदरगाह
  - 4. विशाखापत्तनम बंदरगाह

Question ID : 26433047677  
Status : Answered  
Chosen Option : 4

Q.16 विंडो क्लीनर में निम्न में से कौन सा क्षार पाया जाता है?

- Ans
- 1. अमोनियम हाइड्रॉक्साइड
  - 2. मैग्नेशियम हाइड्रॉक्साइड
  - 3. सोडियम हाइड्रॉक्साइड
  - 4. कैल्शियम हाइड्रॉक्साइड

Question ID : 26433047674  
Status : Answered  
Chosen Option : 1

Q.17 2011 की जनगणना के अनुसार, भारत के निम्नलिखित में से किस राज्य का लिंगानुपात सबसे अधिक के क्रम में दूसरे स्थान पर था?

- Ans
- 1. पुदुचेरी
  - 2. महाराष्ट्र
  - 3. केरल
  - 4. तमिलनाडु

Question ID : 26433047730  
Status : Answered  
Chosen Option : 1

Q.18 दक्कन का पठार निम्नलिखित में से किस नदी के दक्षिण में स्थित है?

- Ans
- 1. पेन्ना
  - 2. नर्मदा
  - 3. कृष्णा
  - 4. कावेरी

Question ID : 26433047678  
Status : Not Answered  
Chosen Option : --

Q.19 हॉकी के खेल में, मैदान पर कितने खिलाड़ी टीम में सम्मिलित होते हैं?

- Ans
- 1. 16
  - 2. 10
  - 3. 11
  - 4. 12

Question ID : 26433047116  
Status : Answered  
Chosen Option : 3

Q.20 याओशांग उत्सव भारत के किस राज्य में मनाया जाता है?

- Ans
- 1. राजस्थान
  - 2. मणिपुर
  - 3. उत्तर प्रदेश
  - 4. तमिलनाडु

Question ID : 26433047596  
Status : Answered  
Chosen Option : 2

Q.21 पंडित किशन महाराज का संबंध किस वाद्य से था?

- Ans
- 1. सितार
  - 2. संतूर
  - 3. तबला
  - 4. ढोलक

Question ID : 26433047261  
Status : Answered  
Chosen Option : 3

Q.22 भारतीय संविधान की किस अनुसूची में संघ सूची से संबंधित प्रावधान हैं?

- Ans
- 1. दसवीं अनुसूची
  - 2. नौवीं अनुसूची
  - 3. चौथी अनुसूची
  - 4. सातवीं अनुसूची

Question ID : 26433047689  
Status : Answered  
Chosen Option : 4

Q.23 विटामिन D की लंबे समय तक कमी के कारण निम्नलिखित में से कौन सा रोग होता है?

- Ans
- 1. शीताद (स्कर्वी)
  - 2. बालास्थिविकार (रिकेट्स)
  - 3. लघु मसूरिका (चिकेन पॉक्स)
  - 4. सूखा रोग (मरास्मस)

Question ID : 26433047024  
Status : Answered  
Chosen Option : 4

Q.24 जलियांवाला बाग हत्याकांड (13 अप्रैल 1919) के उत्तर-प्रभाव के रूप में निम्नलिखित में से कौन सी घटना घटित हुई?

- Ans
- 1. मिल मालिकों और मजदूरों के बीच विवाद को निपटाने के लिए भूख हड़ताल
  - 2. कोई भी राजा व्यक्तिगत रूप से अंग्रेजों के साथ एक अलग समझौते पर हस्ताक्षर कर सकता था
  - 3. कांग्रेस के स्वयंसेवकों द्वारा चरखा और खादी को लोकप्रिय बनाना तथा जेल भरो
  - 4. ब्रिटिश सरकार द्वारा हंटर आयोग की नियुक्ति

Question ID : 26433047034

Status : Answered

Chosen Option : 4

Q.25 नीचे दिये गये कथनों में से कौन सा सही है?

- I. अशोक के अधिकांश शिलालेख ब्राह्मी लिपि में लिखे गए थे।
- II. चाणक्य के कई विचार अर्थशास्त्र नामक पुस्तक में लिखे गए थे।

- Ans
- 1. न तो I और न ही II
  - 2. केवल II
  - 3. केवल I
  - 4. I और II दोनों

Question ID : 26433047256

Status : Answered

Chosen Option : 4