

# Multi Tasking Non Technical Staff Havaladar CBIC and CBN Examination 2021

Roll Number	
Candidate Name	
Venue Name	
Exam Date	08/07/2022
Exam Time	5:00 PM - 6:30 PM
Subject	MTS Non technical and Havaladar Examination 2021

Section : General English

**Q.1** Select the most appropriate **ANTONYM** of the given word.

**Cowardly**

- Ans  1. Fleeting  
 2. Valiant  
 3. Spineless  
 4. Integral

Question ID : 26433051410  
Status : Answered  
Chosen Option : 2

**Q.2** The following sentence has been divided into parts. One of them may contain an error.  
Select the part that contains the error from the given options. If you don't find any error, mark 'No error' as your answer.

She say that she feels very / lonely and depressed / living in a big house.

- Ans  1. She say that she feels very  
 2. lonely and depressed  
 3. No error  
 4. living in a big house

Question ID : 26433051288  
Status : Answered  
Chosen Option : 1

**Q.3** Select the most appropriate **ANTONYM** of the underlined word in the given sentence.

I believe in having a clear and lucid conversation.

- Ans  1. Blazing  
 2. Ambiguous  
 3. Coherent  
 4. Tangible

Question ID : 26433050860  
Status : Answered  
Chosen Option : 4

**Q.4** Select the **INCORRECTLY** spelt word.

- Ans
- 1. Assertion
  - 2. Agravate
  - 3. Admonish
  - 4. Accumulate

Question ID : 26433051413  
Status : Answered  
Chosen Option : 2

**Q.5** Select the most appropriate synonym of the underlined word in the given sentence.

We need to protest against this policy.

- Ans
- 1. assent
  - 2. validate
  - 3. resist
  - 4. perk

Question ID : 26433050541  
Status : Answered  
Chosen Option : 3

**Q.6** Select the option that can be used as a one-word substitute for the given group of words.

Weakness and poor health

- Ans
- 1. Geniality
  - 2. Obscurity
  - 3. hospitality
  - 4. Frailty

Question ID : 26433051631  
Status : Answered  
Chosen Option : 4

**Q.7** Select the most appropriate word for the given group of words.

A person incapable of making mistakes

- Ans
- 1. Infallible
  - 2. Pure
  - 3. Naive
  - 4. Optimist

Question ID : 26433050493  
Status : Answered  
Chosen Option : 1

**Q.8** Parts of the following sentence have been given as options. One of them contains an error. Select the part that contains the error from the given options.

The jute plant is usual harvested when it is at the flowering stage.

- Ans
- 1. when it is
  - 2. is usual harvested
  - 3. The jute plant
  - 4. at the flowering stage

Question ID : 26433051211  
Status : Answered  
Chosen Option : 2

**Q.9** Select the most appropriate option to fill in the blank.

I signed this science project \_\_\_\_\_ London.

- Ans
- 1. beneath
  - 2. by
  - 3. in
  - 4. into

Question ID : 26433050527  
Status : Answered  
Chosen Option : 3

**Q.10** Select the option that can be used as a one-word substitute for the given group of words.

To own up to something as true

- Ans
- 1. Redress
  - 2. Assess
  - 3. Confess
  - 4. Suppress

Question ID : 26433051483  
Status : Answered  
Chosen Option : 3

**Q.11** Select the most appropriate synonym of the given word.

Deficient

- Ans
- 1. Integral
  - 2. Whole
  - 3. Incomplete
  - 4. Sleek

Question ID : 26433050592  
Status : Answered  
Chosen Option : 3

**Q.12 Select the most appropriate meaning of the given idiom.**

**Set the wheels in motion**

- Ans  1. To end a discussion  
 2. To drive very fast  
 3. To end a journey  
 4. To initiate a chain of events

Question ID : 26433051203  
Status : Answered  
Chosen Option : 4

**Q.13 Select the most appropriate option to substitute the underlined segment in the given sentence. If there is no need to substitute it, select 'No substitution required.'**

The missing child was discovered in lower Maryland a few days later.

- Ans  1. little days later  
 2. No substitution required  
 3. a lot of days later  
 4. few day later

Question ID : 26433051213  
Status : Answered  
Chosen Option : 2

**Q.14 The following sentence has been divided into parts. One of them may contain an error. Select the part that contains the error from the given options. If you don't find any error, mark 'No error' as your answer.**

I am currently worked / with a newly / set up marketing company.

- Ans  1. I am currently worked  
 2. No error  
 3. set up marketing company  
 4. with a newly

Question ID : 26433050576  
Status : Answered  
Chosen Option : 1

**Q.15 Select the correctly spelt word.**

- Ans  1. Habichual  
 2. Adventurious  
 3. Credintial  
 4. Lopsided

Question ID : 26433051232  
Status : Answered  
Chosen Option : 2

**Q.16** Select the option that can be used as a one-word substitute for the given group of words.

That which can be easily broken

- Ans  1. Fragile  
 2. Portable  
 3. Durable  
 4. Stern

Question ID : 26433050995  
Status : Answered  
Chosen Option : 1

**Q.17** Select the most appropriate meaning of the underlined idiom.

My cousin's office is at a stone's throw from my house.

- Ans  1. Near the forest  
 2. In a dangerous situation  
 3. A long route  
 4. A short distance

Question ID : 26433050890  
Status : Answered  
Chosen Option : 4

**Q.18** Select the option that can be used as a one-word substitute for the given group of words.

A sound that is pleasing to hear

- Ans  1. Harsh  
 2. Inspired  
 3. Melodious  
 4. Audible

Question ID : 26433051328  
Status : Answered  
Chosen Option : 3

**Q.19** Select the most appropriate synonym of the given word.

Concede

- Ans  1. Fascinate  
 2. Reject  
 3. Deny  
 4. Permit

Question ID : 26433051590  
Status : Answered  
Chosen Option : 4

**Q.20** Select the most appropriate option to fill in the blank.

Danny lay on his back staring at the \_\_\_\_\_ of his room.

- Ans  1. seeding  
 2. ceiling  
 3. syringe  
 4. sealing

Question ID : 26433050704  
Status : Answered  
Chosen Option : 4

**Comprehension:**

In the following passage, some words have been deleted. Read the passage carefully and select the most appropriate option to fill in each blank.

With over 49,000 plant species (1) \_\_\_\_\_ as of 2018, India holds (2) \_\_\_\_\_ 11.5% of all the flora in the world. Now, a new fossil record has (3) \_\_\_\_\_ that India is the birthplace of Asian bamboo, and they (4) \_\_\_\_\_ formed about 25 million years ago in the north-eastern (5) \_\_\_\_\_ of the country.

**SubQuestion No : 21**

**Q.21** Select the most appropriate option to fill in blank number 1.

- Ans  1. deserved  
 2. assigned  
 3. reported  
 4. signed

Question ID : 26433050530  
Status : Answered  
Chosen Option : 3

**Comprehension:**

In the following passage, some words have been deleted. Read the passage carefully and select the most appropriate option to fill in each blank.

With over 49,000 plant species (1) \_\_\_\_\_ as of 2018, India holds (2) \_\_\_\_\_ 11.5% of all the flora in the world. Now, a new fossil record has (3) \_\_\_\_\_ that India is the birthplace of Asian bamboo, and they (4) \_\_\_\_\_ formed about 25 million years ago in the north-eastern (5) \_\_\_\_\_ of the country.

**SubQuestion No : 22**

**Q.22** Select the most appropriate option to fill in blank number 2.

- Ans  1. on  
 2. upon  
 3. off  
 4. about

Question ID : 26433050531  
Status : Answered  
Chosen Option : 4

**Comprehension:**

In the following passage, some words have been deleted. Read the passage carefully and select the most appropriate option to fill in each blank.

With over 49,000 plant species (1) \_\_\_\_\_ as of 2018, India holds (2) \_\_\_\_\_ 11.5% of all the flora in the world. Now, a new fossil record has (3) \_\_\_\_\_ that India is the birthplace of Asian bamboo, and they (4) \_\_\_\_\_ formed about 25 million years ago in the north-eastern (5) \_\_\_\_\_ of the country.

**SubQuestion No : 23**

**Q.23 Select the most appropriate option to fill in blank number 3.**

- Ans  1. limited  
 2. arranged  
 3. shown  
 4. known

Question ID : **26433050532**  
Status : **Answered**  
Chosen Option : **3**

**Comprehension:**

In the following passage, some words have been deleted. Read the passage carefully and select the most appropriate option to fill in each blank.

With over 49,000 plant species (1) \_\_\_\_\_ as of 2018, India holds (2) \_\_\_\_\_ 11.5% of all the flora in the world. Now, a new fossil record has (3) \_\_\_\_\_ that India is the birthplace of Asian bamboo, and they (4) \_\_\_\_\_ formed about 25 million years ago in the north-eastern (5) \_\_\_\_\_ of the country.

**SubQuestion No : 24**

**Q.24 Select the most appropriate option to fill in blank number 4.**

- Ans  1. were  
 2. was  
 3. are  
 4. has

Question ID : **26433050533**  
Status : **Answered**  
Chosen Option : **1**

**Comprehension:**

In the following passage, some words have been deleted. Read the passage carefully and select the most appropriate option to fill in each blank.

With over 49,000 plant species (1) \_\_\_\_\_ as of 2018, India holds (2) \_\_\_\_\_ 11.5% of all the flora in the world. Now, a new fossil record has (3) \_\_\_\_\_ that India is the birthplace of Asian bamboo, and they (4) \_\_\_\_\_ formed about 25 million years ago in the north-eastern (5) \_\_\_\_\_ of the country.

**SubQuestion No : 25**

**Q.25** Select the most appropriate option to fill in blank number 5.

- Ans  1. beside  
 2. type  
 3. bit  
 4. part

Question ID : 26433050534  
Status : Answered  
Chosen Option : 4

Section : **General Intelligence and Reasoning**

**Q.1** उस विकल्प का चयन करें जो तीसरे अक्षर-समूह से उसी प्रकार संबंधित है, जिस प्रकार दूसरा अक्षर-समूह पहले अक्षर-समूह से संबंधित है।

PM : RJ :: TF : ?

- Ans  1. UC  
 2. UD  
 3. VC  
 4. VD

Question ID : 26433048549  
Status : Answered  
Chosen Option : 3

Q.2 दिए गए विकल्पों में से उस आकृति का चयन करें, जो निम्नलिखित श्रृंखला में प्रश्नवाचक चिह्न (?) के स्थान पर आ सकती है।



Ans

✓ 1.



✗ 2.



✗ 3.



✗ 4.



Question ID : 26433048609

Status : Answered

Chosen Option : 1

Q.3 दिए गए कथन और निष्कर्षों को ध्यानपूर्वक पढ़ें। यह मानते हुए कि कथनों में दी गई जानकारी सत्य है, भले ही वह सामान्य रूप से ज्ञात तथ्यों से भिन्न प्रतीत होती हो, तय करें कि दिए गए निष्कर्षों में से कौन सा/से निष्कर्ष तार्किक रूप से कथनों का अनुसरण करता/ते है/हैं।

कथन:

I. कुछ M, P हैं।

II. सभी X, M हैं।

निष्कर्ष:

I. कुछ P, X हैं।

II. कुछ P, M हैं।

III. कोई भी P, X नहीं है।

Ans

✓ 1. केवल निष्कर्ष II अनुसरण करता है

✗ 2. केवल निष्कर्ष I और III अनुसरण करते हैं

✗ 3. केवल निष्कर्ष III अनुसरण करता है

✗ 4. कोई भी निष्कर्ष अनुसरण नहीं करता है

Question ID : 26433048779

Status : Answered

Chosen Option : 1

Q.4 उस समुच्चय का चयन कीजिए जिसमें संख्याएँ उसी प्रकार संबंधित हैं जैसे निम्नलिखित समुच्चयों की संख्याएँ संबंधित हैं।

(टिप्पणी: संख्याओं को उनके घटक अंकों में विभाजित किए बिना, पूर्णांक संख्याओं पर संक्रियाएं की जानी चाहिए। उदाहरण के लिए 13 - 13 पर जोड़ने / घटाने / गुणा करने आदि संक्रियाओं को 13 में किया जा सकता है। 13 को 1 और 3 में विभाजित करने और फिर 1 और 3 पर गणितीय संक्रियाएं करने की अनुमति नहीं है)

(2, 3, 25)  
(3, 4, 49)

- Ans  1. (4, 6, 110)  
 2. (4, 7, 111)  
 3. (4, 5, 81)  
 4. (4, 5, 91)

Question ID : 26433047934

Status : Answered

Chosen Option : 3

Q.5 उस विकल्प का चयन कीजिए जो पाँचवें पद से उसी प्रकार संबंधित है जैसे दूसरा पद पहले पद से और चौथा पद तीसरे पद से संबंधित है।

B 2 : F 6 :: K 11 : O 15 :: R 18 : ?

- Ans  1. V 21  
 2. W 21  
 3. V 22  
 4. U 20

Question ID : 26433047919

Status : Answered

Chosen Option : 3

Q.6 दिए गए विकल्पों में से उस आकृति का चयन करें, जो नीचे दी गई श्रृंखला में प्रश्न चिह्न (?) के स्थान पर आ सकती है।



- Ans  1.
- 2.
- 3.
- 4.

Question ID : 26433048783

Status : Answered

Chosen Option : 2

Q.7 दिए गए विकल्पों में से उस संख्या का चयन करें, जो निम्नलिखित श्रृंखला में प्रश्नवाचक चिह्न (?) के स्थान पर आ सकती है।

64, 68, 77, 93, 118, ?

Ans  1. 168

2. 157

3. 134

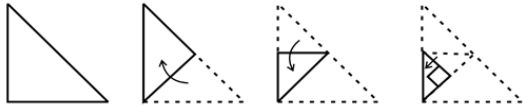
4. 154

Question ID : 26433048593

Status : Answered

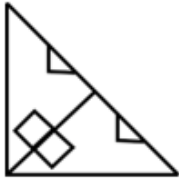
Chosen Option : 4

Q.8 एक कागज़ को मोड़ने का क्रम, तथा मुड़े हुए कागज़ को काटे जाने का ढंग, नीचे दिए गए चित्रों में प्रदर्शित है। खोले जाने पर यह कागज़ कैसा दिखाई देगा?

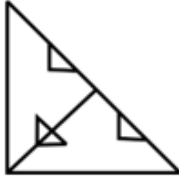


Ans

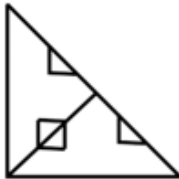
1.



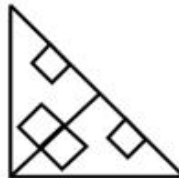
2.



3.



4.



Question ID : 26433048116

Status : Answered

Chosen Option : 1

Q.9 उस विकल्प का चयन करें जो चौथी संख्या से उसी प्रकार संबंधित है, जिस प्रकार पहली संख्या दूसरी संख्या से संबंधित है और पाँचवीं संख्या छठी संख्या से संबंधित है।

32 : 99 :: ? : 45 :: 16 : 51

Ans  1. 10

2. 14

3. 18

4. 12

Question ID : 26433048766

Status : Answered

Chosen Option : 2

Q.10 छह लड़के A1, A2, A3, A4, A5 और A6 एक वृत्ताकार मेज के परितः केंद्र की ओर मुख करके बैठे हैं। A4, A1 के बाएँ तीसरा है। A5 और A3, A4 के बगल में हैं। A6, A5 के ठीक दाएँ है। A6 के बाएँ तीसरे स्थान पर कौन बैठा है?

Ans  1. A5

2. A4

3. A3

4. A2

Question ID : 26433048605

Status : Answered

Chosen Option : 3

Q.11 निम्नलिखित समीकरण को संतुलित करने के लिए किन दो अंकों को परस्पर परिवर्तित करना होगा?

$16 \div 7 \times 2 + 4 - 3 = 12$

Ans  1. 7 और 3

2. 16 और 2

3. 7 और 4

4. 2 और 4

Question ID : 26433047986

Status : Answered

Chosen Option : 3

Q.12 एक निश्चित कूट भाषा में, 'OVERT' को 'LEVIG' लिखा जाता है और 'MOKIN' को 'NLPRM' लिखा जाता है उसी भाषा में 'ILICO' को किस प्रकार लिखा जाएगा?

Ans  1. RORXL

2. RORXM

3. RORWL

4. RORXK

Question ID : 26433048299

Status : Answered

Chosen Option : 1

Q.13 दिए गए कथनों और निष्कर्षों को ध्यानपूर्वक पढ़िए। यह मानते हुए कि कथनों में दी गई जानकारी सही है, भले ही वह सामान्य रूप से ज्ञात तथ्यों से भिन्न प्रतीत होती हो, यह तय करें कि दिए गए निष्कर्षों में से कौन सा/से कथन/कथनों का तार्किक रूप से अनुसरण करता/करते है/हैं।

कथन:  
कोई वन पेड़ नहीं हैं।  
कुछ पेड़ छोटे हैं।

निष्कर्ष:  
I. कुछ वन छोटे हैं।  
II. कोई पेड़ वन नहीं है।

- Ans
- 1. निष्कर्ष I और II दोनों अनुसरण करते हैं।
  - 2. केवल निष्कर्ष II अनुसरण करता है।
  - 3. केवल निष्कर्ष I अनुसरण करता है।
  - 4. न तो निष्कर्ष I और न ही II अनुसरण करते हैं।

Question ID : 26433047929

Status : Answered

Chosen Option : 2

Q.14 उस विकल्प का चयन करें जो तीसरे अक्षर-समूह से उसी प्रकार संबंधित है, जिस प्रकार दूसरा अक्षर-समूह पहले अक्षर-समूह से संबंधित है।

KIN : MGS :: RFB : ?

- Ans
- 1. TDG
  - 2. TDH
  - 3. TCG
  - 4. THE

Question ID : 26433048776

Status : Answered

Chosen Option : 1

Q.15 दिए गए दो चिह्नों और दो संख्याओं को आपस में बदलने के बाद, निम्नलिखित व्यंजक का मान क्या होगा?

4 और 12; ÷ और +

$12 \times 4 + 3 \div 6 - 2$

- Ans
- 1. 15
  - 2. 20
  - 3. 25
  - 4. 30

Question ID : 26433048664

Status : Answered

Chosen Option : 2

Q.16 एक विशिष्ट कूट भाषा में, 'Red are sweet brown' को '8 6 4 2' कूटबद्ध किया जाता है और 'Blue moon are white' को '5 3 1 2' कूटबद्ध किया जाता है। इस भाषा में 'are' का कूट क्या है?

- Ans  1. 2  
 2. 6  
 3. 1  
 4. 4

Question ID : 26433048545  
Status : Answered  
Chosen Option : 1

Q.17 दिए गए विकल्पों में से उस अक्षर का चयन कीजिए, जो निम्नलिखित शृंखला में प्रश्नवाचक चिह्न (?) के स्थान पर आ सकता है।

D, G, J, M, P, ?

- Ans  1. S  
 2. R  
 3. T  
 4. U

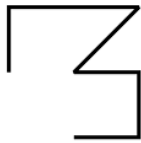
Question ID : 26433047968  
Status : Answered  
Chosen Option : 1

Q.18 आठ लड़कियाँ X, Y, Z, U, V, W, S और T एक गोलाकार मेज के परितः केंद्र की ओर अभिमुख होकर बैठी हैं (आवश्यक नहीं कि वे इसी क्रम में हों)। X, U के बाईं ओर दूसरे स्थान पर है। U, V के बाईं ओर तीसरी है। Z, S के दाईं ओर तीसरी है। S, V की निकटतम पड़ोसी नहीं है। T, Y के दाईं ओर तीसरी है। Y, S के दाईं ओर दूसरी है। निम्नलिखित चार विकल्पों में से तीन एक निश्चित तर्क से समान हैं और एक समूह का निर्माण करते हैं। निम्नलिखित में से कौन-सा उस समूह से संबंधित नहीं है?

- Ans  1. UX  
 2. WV  
 3. YZ  
 4. YS

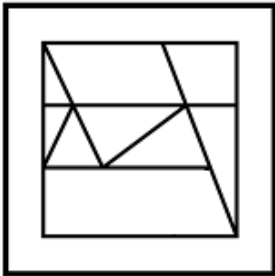
Question ID : 26433048681  
Status : Answered  
Chosen Option : 3

Q.19 उस विकल्प का चयन कीजिए जिसमें दी गई आकृति अंतर्निहित है (घूर्णन की अनुमति नहीं है)।

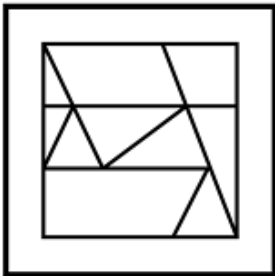


Ans

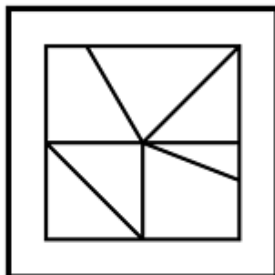
✗ 1.



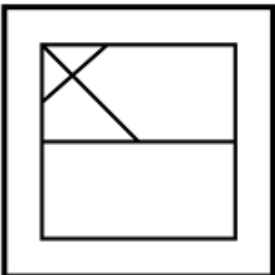
✗ 2.



✓ 3.



✗ 4.

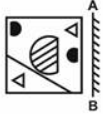


Question ID : 26433047939

Status : Answered

Chosen Option : 3

**Q.20** दी गई आकृति के सही दर्पण प्रतिबिंब का चयन करें। दर्पण को AB पर रखा गया है, जैसा कि चित्र में दिखाया गया है।



**Ans**

✗ 1.



✗ 2.



✓ 3.



✗ 4.



Question ID : 26433048586

Status : Answered

Chosen Option : 3

**Q.21** दिए गए विकल्पों में से उस आकृति का चयन करें, जो प्रश्न चिह्न (?) के स्थान पर आ सकती है और पैटर्न को पूरा कर सकती है।



**Ans**

✓ 1.



✗ 2.



✗ 3.



✗ 4.



Question ID : 26433048763

Status : Answered

Chosen Option : 1

Q.22 उस संख्या की पहचान करें जो निम्नलिखित श्रृंखला से संबंधित नहीं है।

20, 10, 10, 15, 30, 90

Ans  1. 90

2. 15

3. 10

4. 30

Question ID : 26433048669

Status : Answered

Chosen Option : 1

Q.23 एक निश्चित कूट भाषा में, 'AB CD' को '10' के रूप में कोडित किया जाता है, और 'EG FA' को '19' के रूप में कोडित किया जाता है। उसी भाषा में 'JR LF' को किस रूप में कोडित किया जाएगा?

Ans  1. 50

2. 48

3. 44

4. 46

Question ID : 26433048872

Status : Answered

Chosen Option : 3

Q.24 एक निश्चित कूट भाषा में, 'HERO' को 'IGSQ' लिखा जाता है और 'LOVE' को 'MQWG' लिखा जाता है। उसी कूट भाषा में 'ROAD' को कैसे लिखा जाएगा?

Ans  1. SQBE

2. SQBF

3. SQCF

4. SPBF

Question ID : 26433047922

Status : Answered

Chosen Option : 2

Q.25 सात शिक्षक M, N, O, P, Q, R और S अलग-अलग संख्या में ट्यूशन लेते हैं। P, S से अधिक ट्यूशन लेता है। M, Q से अधिक ट्यूशन लेता है। R, दूसरी सबसे बड़ी संख्या में ट्यूशन लेता है। O के ट्यूशनों की संख्या, केवल चार शिक्षकों के ट्यूशन से कम है। N, P से कम ट्यूशन लेता है लेकिन M से अधिक ट्यूशन लेता है। Q सबसे कम ट्यूशन लेता है। S, दूसरी सबसे कम संख्या में ट्यूशन लेता है। ली गई ट्यूशनों की संख्या के संदर्भ में, N और S के बीच में कौन है?

Ans  1. P, M

2. R, Q

3. O, P

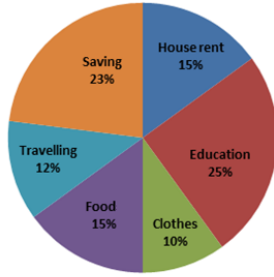
4. M, O

Question ID : 26433048682

Status : Answered

Chosen Option : 4

Q.1 निम्न पाई-चार्ट आयुष द्वारा बचत सहित विभिन्न मदों पर किए गए व्यय को उसकी आय के प्रतिशत के रूप में दर्शाता है।



यदि आयुष भोजन (Food) पर ₹18,000 का व्यय करता है, तो उसकी बचत (Saving) ज्ञात कीजिए।

- Ans
- ✓ 1. ₹27,600
  - ✗ 2. ₹26,400
  - ✗ 3. ₹33,000
  - ✗ 4. ₹31,200

Question ID : 26433050114

Status : Answered

Chosen Option : 1

Q.2 दो मिक्सरों और एक टी.वी. का मूल्य ₹500 है, जबकि दो टी.वी. और एक मिक्सर का मूल्य ₹700 है। एक टी.वी. का मूल्य क्या है?

- Ans
- ✗ 1. ₹100
  - ✗ 2. ₹200
  - ✓ 3. ₹300
  - ✗ 4. ₹400

Question ID : 26433049276

Status : Answered

Chosen Option : 3

Q.3 निम्न तालिका किसी एक सप्ताह के दौरान एक दुकान पर बेचे गए 6 विभिन्न ब्रांड्स के जूतों के जोड़ों की संख्या दर्शाती है।

ब्रांड	जूते
B1	42
B2	58
B3	61
B4	49
B5	71
B6	49

दुकान अब ब्रांड B7 भी बेचती है। B7 के बेचे गए जूतों के जोड़ों की संख्या अन्य 6 ब्रांडों के बेचे गए जूतों के जोड़ों की औसत संख्या से 20% अधिक है। B7 के बेचे गए जूतों के जोड़ों की संख्या कितनी है?

- Ans
- 1. 72
  - 2. 68
  - 3. 76
  - 4. 66

Question ID : 26433050015  
Status : Answered  
Chosen Option : 4

Q.4 एक आयत के विकर्ण की लंबाई 12 cm है, जो इसकी एक भुजा से दोगुना लंबा है। आयत का क्षेत्रफल ज्ञात कीजिए।

- Ans
- 1.  $42\sqrt{3} \text{ cm}^2$
  - 2.  $30\sqrt{3} \text{ cm}^2$
  - 3.  $36\sqrt{3} \text{ cm}^2$
  - 4.  $25\sqrt{3} \text{ cm}^2$

Question ID : 26433050115  
Status : Answered  
Chosen Option : 3

Q.5 एक कार्यालय के सभी 200 कर्मचारियों का औसत वजन 68.2 kg है, जहां  $\frac{2}{5}$  कर्मचारी महिलाएं हैं। एक पुरुष और एक महिला के औसत वज़नों का अनुपात 7:5 है। सभी महिला कर्मचारियों का औसत वजन ज्ञात कीजिए।

- Ans
- 1. 55 kg
  - 2. 59 kg
  - 3. 60 kg
  - 4. 54 kg

Question ID : 26433050223  
Status : Answered  
Chosen Option : 3

Q.6 21 cm त्रिज्या वाले एक ठोस गोले को पिघलाकर वर्गाकार आधार वाले एक सम-पिरामिड के आकार में ढाला जाता है। यदि इस पिरामिड की ऊंचाई 66 cm है, तो पिरामिड के आधार की प्रत्येक भुजा की लंबाई ज्ञात कीजिए। [ $\pi = \frac{22}{7}$  मानिए]

- Ans
- ✓ 1. 42 cm
  - ✗ 2. 48 cm
  - ✗ 3. 85 cm
  - ✗ 4. 68 cm

Question ID : 26433050242  
Status : Answered  
Chosen Option : 1

Q.7 18% छूट वाली सेल में, एक वस्तु का मूल्य ₹6,560 है। उस वस्तु का अंकित मूल्य क्या है?

- Ans
- ✗ 1. ₹7,000
  - ✓ 2. ₹8,000
  - ✗ 3. ₹8,800
  - ✗ 4. ₹7,500

Question ID : 26433049328  
Status : Answered  
Chosen Option : 2

Q.8 राजू एक वस्तु को उसके क्रय मूल्य से 20% कम पर बेचता है। यदि वह इसे ₹450 अधिक में बेचता, तो उसे 25% का लाभ होता। उस वस्तु का मूल विक्रय मूल्य ज्ञात कीजिए।

- Ans
- ✗ 1. ₹500
  - ✗ 2. ₹900
  - ✓ 3. ₹800
  - ✗ 4. ₹700

Question ID : 26433050102  
Status : Answered  
Chosen Option : 3

Q.9 यदि  $0.04 : 0.06 :: 0.06 : A$  है, तो A का मान कितना है?

- Ans
- ✗ 1. 0.08
  - ✗ 2. 0.05
  - ✗ 3. 0.06
  - ✓ 4. 0.09

Question ID : 26433049930  
Status : Answered  
Chosen Option : 4

Q.10 यदि  $A = \frac{1}{2} \div \frac{1}{3} \times \frac{1}{4} + \frac{1}{5} \times \frac{1}{6}$  और  $B = \frac{1}{6} \div \frac{1}{3} \times \frac{1}{5} + \frac{1}{4} \times \frac{1}{2}$  है, तो  $(A - B)$  का मान कितना है?

- Ans
- 1.  $\frac{25}{36}$
  - 2.  $\frac{1}{5}$
  - 3.  $\frac{33}{35}$
  - 4.  $\frac{11}{60}$

Question ID : 26433049939

Status : Answered

Chosen Option : 4

Q.11 सात संख्याओं का औसत 20 है। यदि प्रत्येक संख्या में से 2 घटा दिया जाए, तो नया औसत कितना होगा?

- Ans
- 1. 9
  - 2. 10
  - 3. 22
  - 4. 18

Question ID : 26433049577

Status : Answered

Chosen Option : 4

Q.12 A एक कार्य को 10 दिनों में पूरा कर सकता है और B उसी कार्य को 15 दिनों में पूरा कर सकता है। यदि वे 4 दिनों तक एक साथ मिलकर कार्य करते हैं, तो कितना कार्य शेष बचेगा?

- Ans
- 1.  $\frac{3}{5}$
  - 2.  $\frac{2}{3}$
  - 3.  $\frac{3}{4}$
  - 4.  $\frac{1}{3}$

Question ID : 26433049260

Status : Answered

Chosen Option : 4

Q.13 एक समबाहु त्रिभुज का परिमाण 36 cm है। इस त्रिभुज का क्षेत्रफल ज्ञात कीजिए।

- Ans
- 1.  $27\sqrt{3} \text{ cm}^2$
  - 2.  $36\sqrt{3} \text{ cm}^2$
  - 3.  $96\sqrt{3} \text{ cm}^2$
  - 4.  $24\sqrt{3} \text{ cm}^2$

Question ID : 26433049585  
Status : Answered  
Chosen Option : 2

Q.14 एक शहर की जनसंख्या 10% की वार्षिक दर से बढ़ रही है। यदि शहर की वर्तमान जनसंख्या 1,00,000 है, तो आज से 2 वर्ष बाद इसकी जनसंख्या कितनी होगी?

- Ans
- 1. 2,10,000
  - 2. 3,00,000
  - 3. 1,20,000
  - 4. 1,21,000

Question ID : 26433049282  
Status : Answered  
Chosen Option : 4

Q.15 यदि एक व्यक्ति ₹6,600 की धनराशि 6.2% की वार्षिक साधारण ब्याज दर पर 2 वर्ष 6 महीने की अवधि के लिए निवेश करता है, तो उसे प्राप्त होने वाला मिश्रधन ज्ञात कीजिए।

- Ans
- 1. ₹7,852
  - 2. ₹7,623
  - 3. ₹7,546
  - 4. ₹7,222

Question ID : 26433049331  
Status : Answered  
Chosen Option : 2

Q.16 एक स्कूल में लड़कों और लड़कियों की संख्या का अनुपात 5 : 8 है। यदि स्कूल में 260 विद्यार्थी हैं, तो स्कूल में लड़कियों और लड़कों की संख्या का अंतर कितना है?

- Ans
- 1. 50
  - 2. 40
  - 3. 60
  - 4. 80

Question ID : 26433050006  
Status : Answered  
Chosen Option : 3

Q.17 120 सेब, 240 संतरे और 150 नाशपाती कार्टन्स में इस तरह पैक किए जाते हैं कि प्रत्येक कार्टन में फलों की संख्या बराबर होती है। प्रत्येक कार्टन में केवल एक ही प्रकार के फल हैं और कोई भी फल बिना पैक किए नहीं छोड़ा जाता है। इसके लिए आवश्यक कार्टन्स की न्यूनतम संख्या ज्ञात कीजिए।

- Ans
- 1. 30
  - 2. 17
  - 3. 50
  - 4. 40

Question ID : 26433049270  
Status : Answered  
Chosen Option : 1

Q.18 4 लड़के या 7 लड़कियां किसी काम को 18 दिनों में पूरा कर सकती हैं। 12 लड़के और 21 लड़कियां एकसाथ इस काम को कितने दिन में पूरा कर लेंगी?

- Ans
- 1. 6 दिन
  - 2. 3 दिन
  - 3. 4 दिन
  - 4. 5 दिन

Question ID : 26433050286  
Status : Answered  
Chosen Option : 2

Q.19 P, स्थान A से 6 a.m. पर चलना शुरू करता है और 8 h बाद स्थान B पर पहुँच जाता है। Q, स्थान B से 8 a.m. पर चलना शुरू करता है और 9 h बाद स्थान A पर पहुँच जाता है। जिस समय वे मिलते हैं, उस समय तक Q द्वारा तय की गई दूरी और P द्वारा तय की गई दूरी का अनुपात क्या है?

- Ans
- 1. 6 : 7
  - 2. 3 : 8
  - 3. 6 : 11
  - 4. 8 : 3

Question ID : 26433049996  
Status : Not Attempted and Marked For Review  
Chosen Option : --

Q.20 एक नाव 6 घंटे में ऊर्ध्वप्रवाह दिशा में 42 km की यात्रा कर सकती है। यदि धारा की चाल 2 km/h है, तो अनुप्रवाह दिशा में नाव 12 घंटे में कितनी दूरी तय करेगी?

- Ans
- 1. 120 km
  - 2. 132 km
  - 3. 144 km
  - 4. 156 km

Question ID : 26433049920  
Status : Answered  
Chosen Option : 2

Q.21 A : B = 12 : 17 है और A, C से 20% अधिक है। यदि B, D से 15% कम है, तो C, D का कितने प्रतिशत है?

- Ans
- 1. 47.5%
  - 2. 52.5%
  - 3. 55%
  - 4. 50%

Question ID : 26433049601  
Status : Answered  
Chosen Option : 4

Q.22  $[12 \times 5 - \{200 - (501 + 247 - 386)\}] \div 2$  का मान ज्ञात कीजिए।

- Ans
- 1. 82
  - 2. 111
  - 3. 61
  - 4. 62

Question ID : 26433050093  
Status : Answered  
Chosen Option : 2

Q.23 11 प्रेक्षकों का औसत 10 है। आरंभिक 6 प्रेक्षकों का औसत 9 और अंतिम 6 प्रेक्षकों का औसत 11 है। छठा प्रेक्षण ज्ञात कीजिए।

- Ans
- 1. 10
  - 2. 11
  - 3. 9
  - 4. 8

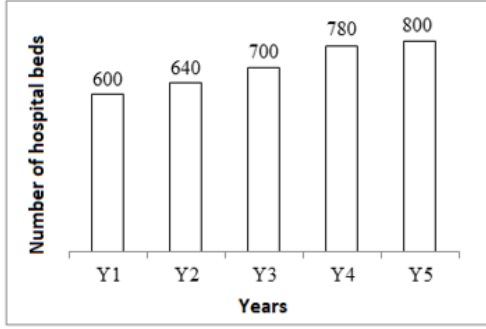
Question ID : 26433049323  
Status : Answered  
Chosen Option : 1

Q.24 एक कक्षा में लड़कों की संख्या कक्षा में विद्यार्थियों की कुल संख्या की 45% है। यदि कक्षा में लड़कियों की संख्या 33 है, तो कक्षा में लड़कों की संख्या कितनी है?

- Ans
- 1. 30
  - 2. 21
  - 3. 24
  - 4. 27

Question ID : 26433049900  
Status : Answered  
Chosen Option : 4

Q.25 निम्नलिखित दंड आरेख (बार चार्ट) लगातार 5 वर्ष (years) में एक राज्य में अस्पताल के बिस्तरों की संख्या (number of hospital beds) को दर्शाता है।



Y6 में अस्पताल के बिस्तरों की संख्या Y5 में इन बिस्तरों की संख्या से 20% अधिक होगी, और Y7 में अस्पताल के बिस्तरों की संख्या Y6 में इन बिस्तरों की संख्या से 25% अधिक होगी। Y2 में अस्पताल के बिस्तरों की संख्या और Y7 में अस्पताल के बिस्तरों की संख्या का अनुपात कितना है?

- Ans
- 1. 16 : 31
  - 2. 2 : 7
  - 3. 8 : 15
  - 4. 4 : 7

Question ID : 26433049941  
Status : Answered  
Chosen Option : 3

Section : General Awareness

Q.1 भारत में ऋतुओं के संबंध में, 'काल बैसाखी' शब्द भारत के निम्नलिखित में से किस राज्य से संबंधित है?

- Ans
- 1. कर्नाटक
  - 2. पश्चिम बंगाल
  - 3. पंजाब
  - 4. केरल

Question ID : 26433047503  
Status : Answered  
Chosen Option : 3

Q.2 निम्नलिखित में से कौन सा पूर्ण द्रविड़ शैली में निर्मित मंदिर का प्रसिद्ध उदाहरण है?

- Ans
- 1. कामाख्या मंदिर, गुवाहाटी
  - 2. कोणार्क सूर्य मंदिर, कोणार्क
  - 3. कंदरिया महादेव मंदिर, खजुराहो
  - 4. कैलाश मंदिर, एलोरा

Question ID : 26433046672  
Status : Answered  
Chosen Option : 2

Q.3 निम्नलिखित में से कौन सा वेद सबसे प्राचीन है?

- Ans  1. यजुर्वेद  
 2. ऋग्वेद  
 3. अथर्ववेद  
 4. सामवेद

Question ID : 26433046731  
Status : Answered  
Chosen Option : 2

Q.4 वित्त वर्ष 2022 के केंद्रीय बजट में की गई घोषणा के अनुसार वर्चुअल डिजिटल संपत्ति से होने वाली आय पर \_\_\_\_\_ कर लगाया जाएगा।

- Ans  1. 25%  
 2. 3%  
 3. 2%  
 4. 35%

Question ID : 26433046742  
Status : Not Attempted and  
Marked For Review  
Chosen Option : --

Q.5 निम्नलिखित में से कौन 1236 से 1240 ईस्वी तक मध्यकालीन भारत की पहली मुस्लिम महिला शासक रही?

- Ans  1. रानी मंगमाल  
 2. सुल्ताना चाँद बीबी  
 3. बेगम समरू  
 4. रजिया सुल्तान

Question ID : 26433046682  
Status : Answered  
Chosen Option : 4

Q.6 कालिदास सम्मान से सम्मानित रोहिणी भाटे भारत के किस शास्त्रीय नृत्य से संबंधित थीं?

- Ans  1. ओडिसी  
 2. मणिपुरी  
 3. सत्रीया  
 4. कथक

Question ID : 26433047512  
Status : Not Attempted and  
Marked For Review  
Chosen Option : --

Q.7 Vinod talks about the only planet with liquid water on the surface. Which of the following planets is he talking about?

- Ans  1. Venus  
 2. Earth  
 3. Saturn  
 4. Mars

Question ID : 26433046676  
Status : Answered  
Chosen Option : 2

Q.8 भारत के विदेश सचिव के रूप में निम्नलिखित में से किसे नियुक्त किया गया है, जिनकी नियुक्ति 1 मई 2022 से प्रभावी हो गई है?

- Ans  1. हर्षवर्धन श्रृंगला  
 2. सुब्रह्मण्यम जयशंकर  
 3. सुजाता मेहता  
 4. विनय मोहन कान्ना

Question ID : 26433046719  
Status : Answered  
Chosen Option : 4

Q.9 'आर्थोपोडा' के संबंध में निम्नलिखित में से कौन-सा कथन सही है?

- I. ये जीव द्विपक्षीय रूप से सममित होते हैं।  
II. उनके पैर संधियुक्त होते हैं।

- Ans  1. केवल I  
 2. I और II दोनों  
 3. न तो I और न ही II  
 4. केवल II

Question ID : 26433047325  
Status : Answered  
Chosen Option : 2

Q.10 नीचे दिये गये कथनों में से कौन-सा कथन सही है?

- I. रॉबर्ट क्लाइव 18 साल की उम्र में 1743 में इंग्लैंड से मद्रास आए थे।  
II. बक्सर की लड़ाई के बाद, ईस्ट इंडिया कंपनी ने भारतीय राज्यों में रेसिडेंट्स को नियुक्त किया।

- Ans  1. केवल II  
 2. I और II दोनों  
 3. न तो I और न ही II  
 4. केवल I

Question ID : 26433047334  
Status : Answered  
Chosen Option : 2

Q.11 उत्तर प्रदेश, भारत में निर्मित यमुना एक्सप्रेसवे परियोजना का नाम पहले क्या था?

- Ans
- 1. नोएडा-आगरा एक्सप्रेसवे
  - 2. पूर्वांचल एक्सप्रेसवे
  - 3. ताज एक्सप्रेसवे
  - 4. कैनेडी एक्सप्रेसवे

Question ID : 26433046677  
Status : Answered  
Chosen Option : 1

Q.12 सेक्रेनी महोत्सव किस भारतीय किस राज्य में मनाया जाता है?

- Ans
- 1. राजस्थान
  - 2. तमिलनाडु
  - 3. नागालैंड
  - 4. बिहार

Question ID : 26433047396  
Status : Answered  
Chosen Option : 3

Q.13 निम्नलिखित में से किसने शुद्धि आंदोलन शुरू किया, जिसने उन हिंदुओं को अपने मूल विश्वास हिंदू धर्म में लौटने के लिए सक्षम बनाया, जिन्होंने इस्लाम या ईसाई धर्म स्वीकार कर लिया था?

- Ans
- 1. रामकृष्ण परमहंस
  - 2. केशव चंद्र सेन
  - 3. नरेंद्र नाथ दत्त
  - 4. दयानंद सरस्वती

Question ID : 26433047508  
Status : Not Attempted and Marked For Review  
Chosen Option : --

Q.14 भारत के संविधान का अनुच्छेद 280 किस संवैधानिक निकाय के बारे में बात करता है?

- Ans
- 1. भारत निर्वाचन आयोग
  - 2. भारत के महान्यायवादी
  - 3. माल और सेवा कर परिषद
  - 4. वित्त आयोग

Question ID : 26433047514  
Status : Answered  
Chosen Option : 4

Q.15 निम्नलिखित में से कौन सा सोडियम एलुमिनेट का सही रासायनिक सूत्र है?

- Ans  1.  $\text{Na}_3\text{AlO}$   
 2.  $\text{NaAlO}_2$   
 3.  $\text{NaAlO}_3$   
 4.  $\text{Na}_2\text{AlO}_3$

Question ID : 26433047398

Status : Answered

Chosen Option : 1

Q.16 'मुडियेट्टु' किस भारतीय राज्य की पारंपरिक लोक नाट्य शैली है?

- Ans  1. झारखंड  
 2. केरल  
 3. असम  
 4. मणिपुर

Question ID : 26433047320

Status : Answered

Chosen Option : 2

Q.17 निम्नलिखित में से कौन-सा कोशिकांग अंतःकोशिकीय परिवहन के लिए मार्ग और निर्माण सतह दोनों के रूप में कार्य करता है?

- Ans  1. लयनकाय (लाइसोसोम)  
 2. गोल्जी काय  
 3. सूत्रकणिका (माइटोकॉन्ड्रिया)  
 4. अंतर्द्रव्यी जालिका

Question ID : 26433047499

Status : Answered

Chosen Option : 4

Q.18 न्यू जीलैंड ने जून 2021 में प्रथम विश्व टेस्ट चैम्पियनशिप के फाइनल में भारत को हराया था। इस मैच की मेजबानी किस देश ने की थी?

- Ans  1. इंग्लैंड  
 2. न्यू जीलैंड  
 3. दक्षिण अफ्रीका  
 4. ऑस्ट्रेलिया

Question ID : 26433047315

Status : Answered

Chosen Option : 1

Q.19 निम्नलिखित में से किसे 'पंचम दा' के नाम से जाना जाता है?

- Ans
- 1. जगजीत सिंह
  - 2. आर.डी. बर्मन
  - 3. ए. आर. रहमान
  - 4. जाकिर हुसैन

Question ID : 26433046736  
Status : Answered  
Chosen Option : 2

Q.20 The movement of people across regions and territories is called \_\_\_\_\_.

- Ans
- 1. migration
  - 2. Depopulation
  - 3. demographic transition
  - 4. mortality

Question ID : 26433047630  
Status : Answered  
Chosen Option : 1

Q.21 कृषि कानून निरसन विधेयक, 2021 के अंतर्गत कुल कितने कानूनों को निरस्त किया गया था?

- Ans
- 1. चार
  - 2. दो
  - 3. तीन
  - 4. एक

Question ID : 26433046668  
Status : Answered  
Chosen Option : 3

Q.22 2011 की जनगणना के अनुसार, भारत के निम्नलिखित में से किस राज्य में साक्षरता दर सबसे कम है?

- Ans
- 1. आंध्र प्रदेश
  - 2. बिहार
  - 3. तमिलनाडु
  - 4. केरल

Question ID : 26433046979  
Status : Answered  
Chosen Option : 2

Q.23 \_\_\_\_\_ एक भारतीय खेल है जिसमें एक 'रेडर' विरोधी टीम के हाफ़ में बिना सांस लिए विरोधियों को स्पर्श करने के लिए प्रवेश करता है।

- Ans  1. कबड्डी  
 2. मल्लखंभ  
 3. खो-खो  
 4. थोबॉल

Question ID : 26433047016  
Status : Answered  
Chosen Option : 1

Q.24 निम्नलिखित में से कौन सा भारतीय संविधान के प्रस्तावना का हिस्सा नहीं है?

- Ans  1. स्वतंत्रता  
 2. न्याय  
 3. समानता  
 4. कुलीनतंत्र

Question ID : 26433046688  
Status : Answered  
Chosen Option : 4

Q.25 'स्ट्रेट फ्रॉम द हार्ट' निम्नलिखित में से किस प्रसिद्ध व्यक्ति की आत्मकथा है?

- Ans  1. राहुल द्रविड़  
 2. कपिल देव  
 3. सचिन तेंडुलकर  
 4. सुनील गावस्कर

Question ID : 26433046735  
Status : Answered  
Chosen Option : 1