

Multi Tasking Non Technical Staff and Havaladar CBIC and CBN Examination 2023

Roll Number	
Candidate Name	
Venue Name	
Exam Date	05/09/2023
Exam Time	9:00 AM - 11:00 AM
Subject	MTS Non Tech Havaladar CBIC and CBN Examination 2023

Section : Numerical and Mathematical Ability

Q.1 P, Q और R की आय 9 : 15 : 10 के अनुपात में है और उनकी बचत 10 : 15 : 12 के अनुपात में है। यदि R अपनी आय का 60% खर्च करता है, तो P, Q और R के व्यय का अनुपात क्या है?

- Ans
- 1. 17 : 18 : 30
 - 2. 17 : 30 : 18
 - 3. 18 : 30 : 17
 - 4. 18 : 17 : 30

Question ID : 264330153763

Option 1 ID : 264330602516

Option 2 ID : 264330602517

Option 3 ID : 264330602515

Option 4 ID : 264330602518

Status : Not Answered

Chosen Option : --

Q.2 यदि $15\frac{2}{3} \times 3\frac{1}{6} + 6\frac{1}{3} = 11\frac{7}{18} + x$, तो x का मान ज्ञात कीजिए।

- Ans
- 1. $39\frac{5}{9}$
 - 2. $137\frac{4}{9}$
 - 3. $44\frac{5}{9}$
 - 4. $29\frac{7}{9}$

Question ID : 264330156335

Option 1 ID : 264330612739

Option 2 ID : 264330612740

Option 3 ID : 264330612742

Option 4 ID : 264330612741

Status : Answered

Chosen Option : 1

Q.3 ₹5,345 की धनराशि का, जब 10 वर्षों के लिए वार्षिक साधारण ब्याज की एक निश्चित दर पर निवेश किया जाता है, तो परिपक्वता पर ₹2,672.50 का ब्याज अर्जित करती है। साधारण ब्याज की वार्षिक दर क्या है?

- Ans** 1. 5%
 2. 4.5%
 3. 6.5%
 4. 8%

Question ID : **264330156486**
Option 1 ID : **264330613332**
Option 2 ID : **264330613333**
Option 3 ID : **264330613334**
Option 4 ID : **264330613331**
Status : **Answered**
Chosen Option : 1

Q.4 अनिल, सुमित से 3 गुना तेजी से काम करता है। यदि सुमित अकेले एक काम को 12 दिनों में पूरा कर सकता है, तो अनिल और सुमित मिलकर काम को कितने दिनों में पूरा कर सकते हैं?

- Ans** 1. 3
 2. 5
 3. 2
 4. 4

Question ID : **264330156236**
Option 1 ID : **264330612344**
Option 2 ID : **264330612346**
Option 3 ID : **264330612343**
Option 4 ID : **264330612345**
Status : **Answered**
Chosen Option : 1

Q.5 25 सेब ₹250 में खरीदे गए और 30 सेब ₹390 में बेचे गए। इस लेनदेन में लाभ/हानि प्रतिशत क्या है?

- Ans** 1. 25% लाभ
 2. 30% हानि
 3. 25% हानि
 4. 30% लाभ

Question ID : **264330155707**
Option 1 ID : **264330610231**
Option 2 ID : **264330610234**
Option 3 ID : **264330610232**
Option 4 ID : **264330610233**
Status : **Answered**
Chosen Option : 4

Q.6 वैशाली ₹1,260 में एक बस का टिकट बुक करती है। तबीयत खराब होने की वजह से उसे टिकट रद्द करना पड़ा। इस प्रक्रिया में उसे ₹945 का रिफंड मिलता है। वैशाली को कितने प्रतिशत की हानि हुई?

- Ans
- 1. 15%
 - 2. 33%
 - 3. 23%
 - 4. 25%

Question ID : 264330155703

Option 1 ID : 264330610215

Option 2 ID : 264330610218

Option 3 ID : 264330610216

Option 4 ID : 264330610217

Status : Answered

Chosen Option : 4

Q.7 एक कक्षा के 50 छात्रों की औसत लंबाई 170 cm है। यदि उनमें से 15 छात्रों की औसत लंबाई 180 cm है, तो बाकी छात्रों की औसत लंबाई (cm में, निकटतम पूर्णांक तक सन्निकटित) क्या होगी?

- Ans
- 1. 175
 - 2. 162
 - 3. 166
 - 4. 174

Question ID : 264330153761

Option 1 ID : 264330602507

Option 2 ID : 264330602510

Option 3 ID : 264330602508

Option 4 ID : 264330602509

Status : Answered

Chosen Option : 3

Q.8 $5 : 3\frac{1}{3}$, $6\frac{1}{4} : 3\frac{1}{8}$ और $3.5 : 4.5$ अनुपातों को बढ़ते क्रम में व्यवस्थित कीजिए।

- Ans
- 1. $5 : 3\frac{1}{3} < 3.5 : 4.5 < 6\frac{1}{4} : 3\frac{1}{8}$
 - 2. $3.5 : 4.5 < 5 : 3\frac{1}{3} < 6\frac{1}{4} : 3\frac{1}{8}$
 - 3. $5 : 3\frac{1}{3} < 6\frac{1}{4} : 3\frac{1}{8} < 3.5 : 4.5$
 - 4. $6\frac{1}{4} : 3\frac{1}{8} < 5 : 3\frac{1}{3} < 3.5 : 4.5$

Question ID : 264330153766

Option 1 ID : 264330602528

Option 2 ID : 264330602530

Option 3 ID : 264330602529

Option 4 ID : 264330602527

Status : Answered

Chosen Option : 2

Q.9 यदि $15x = 24y = 32z$, तो $x : y : z$ बराबर _____ होगा।

- Ans
- 1. 24 : 15 : 4
 - 2. 32 : 20 : 15
 - 3. 32 : 15 : 20
 - 4. 15 : 24 : 32

Question ID : 264330153875

Option 1 ID : 264330602963

Option 2 ID : 264330602966

Option 3 ID : 264330602965

Option 4 ID : 264330602964

Status : Answered

Chosen Option : 2

Q.10 निम्नलिखित तालिका में एक संगठन के अलग-अलग विभागों में कर्मचारियों की संख्या और महिलाओं और पुरुषों के प्रतिशत को दर्शाया गया है। तालिका का ध्यानपूर्वक अध्ययन कीजिए और प्रश्न का उत्तर दीजिए।

विभाग	कर्मचारियों की कुल संख्या	महिलाओं का %	पुरुषों का %
आईटी	640	45	55
लेखा	220	40	60
उत्पादन	800	30	70
एचआर	360	65	35
मार्केटिंग	400	40	60

उत्पादन और एचआर विभागों में मिलाकर महिला कर्मचारियों की संख्या तथा आईटी और लेखा विभागों में मिलाकर पुरुषों की संख्या का अनुपात ज्ञात कीजिए।

- Ans
- 1. 235 : 330
 - 2. 237 : 242
 - 3. 227 : 323
 - 4. 235 : 340

Question ID : 264330156013

Option 1 ID : 264330611451

Option 2 ID : 264330611453

Option 3 ID : 264330611452

Option 4 ID : 264330611454

Status : Answered

Chosen Option : 2

Q.11 निम्नलिखित आलेख दो व्यक्तियों A और B द्वारा प्रतिदिन जॉगिंग की गई दूरी को दर्शाता है।



संदर्भ: Distance jogged by A and B - A और B द्वारा जॉगिंग की गई दूरी, Distance jogged (in kms) - जॉगिंग की दूरी (kms में), Monday - सोमवार, Tuesday - मंगलवार, Wednesday - बुधवार, Thursday - गुरुवार, Friday - शुक्रवार, Saturday - शनिवार, Sunday - रविवार
यदि 1 km जॉगिंग करने से 100 कैलोरी खर्च होती हैं, तो दिए गए सप्ताह में A और B द्वारा खर्च की गई कैलोरी के बीच का अंतर कितना है?

- Ans
- 1. 150 कैलोरी
 - 2. 50 कैलोरी
 - 3. 10 कैलोरी
 - 4. 100 कैलोरी

Question ID : 264330154099

Option 1 ID : 264330603861

Option 2 ID : 264330603859

Option 3 ID : 264330603862

Option 4 ID : 264330603860

Status : Answered

Chosen Option : 2

Q.12 तीन संख्याओं का अनुपात 3 : 4 : 5 हैं और उनका महत्तम समापवर्तक 18 है। इन संख्याओं का योग क्या है?

- Ans
- 1. 216
 - 2. 198
 - 3. 234
 - 4. 180

Question ID : 264330155683

Option 1 ID : 264330610137

Option 2 ID : 264330610136

Option 3 ID : 264330610138

Option 4 ID : 264330610135

Status : Not Answered

Chosen Option : --

Q.13 वार्षिक रूप से संयोजित 12% वार्षिक दर से ₹1,250 की धनराशि कितने वर्ष में ₹1,568 हो जाएगी?

- Ans
- 1. 4 वर्ष
 - 2. 2 वर्ष
 - 3. 3 वर्ष
 - 4. 1 वर्ष

Question ID : 264330153880
Option 1 ID : 264330602986
Option 2 ID : 264330602984
Option 3 ID : 264330602985
Option 4 ID : 264330602983
Status : Answered
Chosen Option : 2

Q.14 स्थिर जल में एक नाव की चाल 30 km/h है और धारा की चाल 7.5 km/h है। नाव द्वारा धारा में 90 km की कुल दूरी तय करते हुए बिंदु A से B तक जाने और वापस A तक आने की यात्रा करने में घंटों में कितना समय लगा?

- Ans
- 1. 3.4
 - 2. 3.2
 - 3. 2.8
 - 4. 3.0

Question ID : 264330153814
Option 1 ID : 264330602722
Option 2 ID : 264330602721
Option 3 ID : 264330602719
Option 4 ID : 264330602720
Status : Answered
Chosen Option : 2

Q.15 3 के प्रथम 13 गुणजों का औसत क्या है?

- Ans
- 1. 42
 - 2. 21
 - 3. 39
 - 4. 35

Question ID : 264330155725
Option 1 ID : 264330610306
Option 2 ID : 264330610304
Option 3 ID : 264330610303
Option 4 ID : 264330610305
Status : Answered
Chosen Option : 3

Q.16 प्रत्येक 2 cm व्यास वाली ठोस सीसे की गेंदों की संख्या ज्ञात कीजिए जो 14 cm व्यास वाले एक सीसे के ठोस गोले से बनाई जा सकती हैं।

- Ans
- 1. 430
 - 2. 343
 - 3. 433
 - 4. 340

Question ID : **264330156017**
Option 1 ID : **264330611467**
Option 2 ID : **264330611468**
Option 3 ID : **264330611469**
Option 4 ID : **264330611470**
Status : **Answered**
Chosen Option : **2**

Q.17 आकाश, अरविंद से तीन गुना अच्छा काम करता है और इसलिए वह अरविंद से 30 दिन कम में किसी काम को पूरा कर सकता है। यदि वे साथ मिलकर काम करें, तो वे काम को कितने दिनों में पूरा कर सकते हैं?

- Ans
- 1. $12\frac{1}{4}$
 - 2. $11\frac{3}{4}$
 - 3. $11\frac{1}{4}$
 - 4. $12\frac{3}{4}$

Question ID : **264330156117**
Option 1 ID : **264330611869**
Option 2 ID : **264330611868**
Option 3 ID : **264330611867**
Option 4 ID : **264330611870**
Status : **Not Answered**
Chosen Option : **--**

Q.18 28 cm आधार की त्रिज्या और 45 cm की ऊंचाई वाले शंकु का कुल पृष्ठीय क्षेत्रफल (cm^2 में) क्या होगा? ($\pi = \frac{22}{7}$ का प्रयोग करें)

- Ans
- 1. 8168
 - 2. 7128
 - 3. 9216
 - 4. 6288

Question ID : **264330156540**
Option 1 ID : **264330613547**
Option 2 ID : **264330613548**
Option 3 ID : **264330613549**
Option 4 ID : **264330613550**
Status : **Answered**
Chosen Option : **2**

Q.19 यदि दो प्रकार के अनाज जिनका मूल्य क्रमशः ₹202 प्रति किलोग्राम और ₹250 प्रति किलोग्राम है, को 7 : 5 के अनुपात में मिलाया जाता है, तो परिणामी मिश्रण का प्रति किलोग्राम में मूल्य (₹ में) कितना है?

- Ans 1. 222
 2. 220
 3. 218
 4. 225

Question ID : 264330155693
Option 1 ID : 264330610177
Option 2 ID : 264330610176
Option 3 ID : 264330610175
Option 4 ID : 264330610178
Status : Answered
Chosen Option : 1

Q.20 एक कार की चाल 90 km/h है। कार द्वारा 7 सेकंड में तय की गई दूरी कितनी होगी?

- Ans 1. 175 मीटर
 2. 180 मीटर
 3. 172 मीटर
 4. 170 मीटर

Question ID : 264330155968
Option 1 ID : 264330611273
Option 2 ID : 264330611271
Option 3 ID : 264330611274
Option 4 ID : 264330611272
Status : Answered
Chosen Option : 1

Section : Reasoning Ability and Problem Solving

Q.1 अंग्रेजी वर्णमाला क्रम के आधार पर KGTO, HDQL से एक निश्चित प्रकार से संबंधित है। उसी प्रकार, YFSH, VCPE से संबंधित है। समान तर्क का अनुसरण करते हुए, GUMS निम्नलिखित में से किससे संबंधित है?

- Ans 1. JXOU
 2. ESKU
 3. DRJP
 4. DSKP

Question ID : 264330151677
Option 1 ID : 264330594338
Option 2 ID : 264330594337
Option 3 ID : 264330594336
Option 4 ID : 264330594335
Status : Answered
Chosen Option : 3

Q.2 यदि निम्नलिखित आकृति श्रृंखला को जारी रखना हो तो कौन-सी आकृति प्रश्न चिन्ह (?) के स्थान पर आनी चाहिए?

X	□	L	8	X	F	3	C	X	□	3	L	
	3		L		8		X					?
8	C	F	C	□	3	□	F	L	F	C	8	

Ans

✗ 1.

F	C	3
	□	
X	8	L

✗ 2.

8	L	3
	□	
C	F	X

✗ 3.

3	L	F
	□	
C	8	X

✓ 4.

8	F	3
	□	
C	L	X

Question ID : 264330154760

Option 1 ID : 264330606506

Option 2 ID : 264330606504

Option 3 ID : 264330606503

Option 4 ID : 264330606505

Status : Answered

Chosen Option : 1

Q.3 यदि 5 अक्टूबर 2003 को रविवार है, तो 14 जुलाई 2010 को सप्ताह का कौन-सा दिन होगा?

Ans ✗ 1. शनिवार

✗ 2. सोमवार

✓ 3. बुधवार

✗ 4. शुक्रवार

Question ID : 264330154356

Option 1 ID : 264330604887

Option 2 ID : 264330604889

Option 3 ID : 264330604890

Option 4 ID : 264330604888

Status : Answered

Chosen Option : 3

Q.4 अंग्रेजी वर्णमाला क्रम के आधार पर दी गई श्रृंखला में प्रश्न चिह्न '?' के स्थान पर कौन-सा अक्षर-समूह आना चाहिए?

MQA, NRE, OSI, PTM, ?

- Ans
- 1. QWN
 - 2. SUM
 - 3. RVO
 - 4. QUQ

Question ID : 264330156297

Option 1 ID : 264330612587

Option 2 ID : 264330612590

Option 3 ID : 264330612588

Option 4 ID : 264330612589

Status : Answered

Chosen Option : 4

Q.5 निम्नलिखित संख्या-युग्मों में, पहली संख्या पर कुछ गणितीय संक्रियाएँ करके दूसरी संख्या प्राप्त की जाती है। उस समुच्चय को चुनिए जिसमें संख्याएँ ठीक उसी प्रकार संबंधित हैं जिस प्रकार निम्नलिखित समुच्चयों की संख्याएँ संबंधित हैं।
(ध्यान दें: संख्याओं को उनके घटक अंकों में अलग-अलग किए बिना, पूर्ण संख्याओं पर संक्रियाएँ की जानी चाहिए। उदा. 13 - संख्या 13 पर संक्रियाएँ जैसे 13 को जोड़ना, घटाना, गुणा करना आदि किया जा सकता है। 13 को 1 और 3 में अलग-अलग करने की ओर फिर 1 और 3 पर गणितीय संक्रियाएँ करने की अनुमति नहीं है।)

11 : 60

13 : 70

- Ans
- 1. 15 : 80
 - 2. 19 : 90
 - 3. 17 : 85
 - 4. 21 : 100

Question ID : 264330154649

Option 1 ID : 264330606059

Option 2 ID : 264330606062

Option 3 ID : 264330606060

Option 4 ID : 264330606061

Status : Answered

Chosen Option : 1

Q.6 यदि G का अर्थ \div , A का अर्थ \times , F का अर्थ $+$, B का अर्थ $-$ है, तो निम्नलिखित समीकरण में प्रश्न चिह्न (?) के स्थान पर क्या आएगा?
 $37 B 16 A 3 G 88 F 8 = ?$

- Ans
- 1. 93
 - 2. 69
 - 3. 74
 - 4. 51

Question ID : 264330154685

Option 1 ID : 264330606206

Option 2 ID : 264330606204

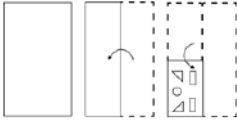
Option 3 ID : 264330606205

Option 4 ID : 264330606203

Status : Answered

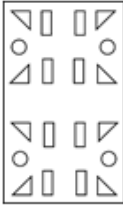
Chosen Option : 3

Q.7 निम्नलिखित आकृतियों में एक कागज़ के टुकड़े को मोड़ने के क्रम और मुड़े हुए कागज़ को काटने के तरीके को दर्शाया गया है। खोलने पर यह कागज़ कैसा दिखाई देगा?

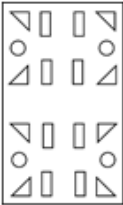


Ans

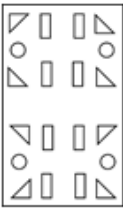
✓ 1.



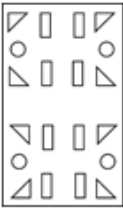
✗ 2.



✗ 3.



✗ 4.



Question ID : 264330155612

Option 1 ID : 264330609853

Option 2 ID : 264330609851

Option 3 ID : 264330609854

Option 4 ID : 264330609852

Status : Not Answered

Chosen Option : --

Q.8 एक निश्चित कूट भाषा में, 'PING' को '62' लिखा जाता है और 'HAZE' को '68' लिखा जाता है। उस कूट भाषा में 'GOAT' को कैसे लिखा जाएगा?

Ans ✗ 1. 69

✗ 2. 66

✗ 3. 67

✓ 4. 65

Question ID : 264330155833

Option 1 ID : 264330610735

Option 2 ID : 264330610737

Option 3 ID : 264330610736

Option 4 ID : 264330610738

Status : Not Answered

Chosen Option : --

Q.9 यदि '+' और '-' को आपस में बदल दिया जाए और 'x' और '÷' को आपस में बदल दिया जाए तो निम्नलिखित समीकरण में '?' के स्थान पर क्या आएगा?
 $7 + 3 - 6 + 4 \times 4 = ?$

- Ans
- 1. 4
 - 2. 15
 - 3. 10
 - 4. 7

Question ID : 264330154668
Option 1 ID : 264330606136
Option 2 ID : 264330606137
Option 3 ID : 264330606138
Option 4 ID : 264330606135
Status : Answered
Chosen Option : 3

Q.10 अक्षरों के उस संयोजन को चुनिए जिसे दी गई श्रृंखला के रिक्त स्थानों में क्रमिक रूप से रखने पर श्रृंखला पूरी हो जाएगी।

_ KL _ K _ KK _ _ KL

- Ans
- 1. LKLLK
 - 2. KKKLL
 - 3. KLLK
 - 4. LLKLL

Question ID : 264330151636
Option 1 ID : 264330594172
Option 2 ID : 264330594173
Option 3 ID : 264330594171
Option 4 ID : 264330594174
Status : Answered
Chosen Option : 3

Q.11 दी गई श्रृंखला में प्रश्न चिन्ह '?' के स्थान पर क्या आना चाहिए?

11 44 143 440 1331 ?

- Ans
- 1. 4118
 - 2. 4004
 - 3. 3996
 - 4. 4266

Question ID : 264330151476
Option 1 ID : 264330593533
Option 2 ID : 264330593532
Option 3 ID : 264330593531
Option 4 ID : 264330593534
Status : Answered
Chosen Option : 2

Q.12 N, O, P, Q, R, S, T और U एक वर्गाकार मेज के चारों ओर केंद्र की ओर मुख करके बैठे हैं। उनमें से कुछ मेज के कोनों पर बैठे हैं जबकि कुछ भुजाओं के ठीक मध्य में बैठे हैं। N, U के दाईं ओर से तीसरे स्थान पर बैठा है। U किसी भी एक कोने में बैठा है। O, T के दाईं ओर से तीसरे स्थान पर बैठा है। T किसी एक कोने में बैठा है। P और U का निकटतम पड़ोसी Q है। P, N का पड़ोसी नहीं है। R, T का पड़ोसी नहीं है। P के दाईं ओर से गिनने पर P और R के बीच में कितने व्यक्ति बैठे हैं?

- Ans**
- 1. एक
 - 2. चार
 - 3. तीन
 - 4. दो

Question ID : 264330155541
Option 1 ID : 264330609567
Option 2 ID : 264330609570
Option 3 ID : 264330609569
Option 4 ID : 264330609568
Status : Not Answered
Chosen Option : --

Q.13 दी गई श्रृंखला में प्रश्न चिन्ह '?' के स्थान पर क्या आना चाहिए?

2 9 30 93 282 ?

- Ans**
- 1. 861
 - 2. 849
 - 3. 857
 - 4. 813

Question ID : 264330151465
Option 1 ID : 264330593490
Option 2 ID : 264330593488
Option 3 ID : 264330593489
Option 4 ID : 264330593487
Status : Answered
Chosen Option : 2

Q.14 अक्षरों के उस संयोजन को चुनिए जिसे दी गई श्रृंखला के रिक्त स्थानों में क्रमिक रूप से रखने पर श्रृंखला पूरी हो जाएगी।

_ML_MLLM_L__

- Ans**
- 1. LLLML
 - 2. MLMML
 - 3. LLMLM
 - 4. MMLMM

Question ID : 264330151639
Option 1 ID : 264330594183
Option 2 ID : 264330594186
Option 3 ID : 264330594185
Option 4 ID : 264330594184
Status : Answered
Chosen Option : 1

Q.15 नीचे दिए गए कथनों और निष्कर्षों को ध्यानपूर्वक पढ़िए। आपको मानना है कि दिए गए कथन सत्य हैं चाहे वे समान्यतः ज्ञात तथ्यों से अलग प्रतीत होते हों। आपको निश्चय करना है कि कौन-सा/कौन-से निष्कर्ष तार्किक रूप से दिए गए कथनों के अनुसार है/हैं।

कथन: सभी सुइयाँ, कीलें हैं। कुछ कीलें, लकड़ी हैं। सभी लकड़ी, कप हैं।

निष्कर्ष I: कुछ सुइयाँ, लकड़ी हैं।

निष्कर्ष II: सभी कप, कीलें हैं।

- Ans**
- 1. केवल निष्कर्ष (II) कथनों के अनुसार है।
 - 2. दोनों निष्कर्ष (I) और (II) कथनों के अनुसार हैं।
 - 3. न तो निष्कर्ष (I) और न ही (II) कथनों के अनुसार है।
 - 4. केवल निष्कर्ष (I) कथनों के अनुसार है।

Question ID : 264330155930

Option 1 ID : 264330611124

Option 2 ID : 264330611126

Option 3 ID : 264330611125

Option 4 ID : 264330611123

Status : Answered

Chosen Option : 3

Q.16 दी गई श्रृंखला में प्रश्न चिन्ह '?' के स्थान पर क्या आना चाहिए?

10 41 165 661 2645 ?

- Ans**
- 1. 10604
 - 2. 10597
 - 3. 10581
 - 4. 10378

Question ID : 264330151480

Option 1 ID : 264330593550

Option 2 ID : 264330593549

Option 3 ID : 264330593548

Option 4 ID : 264330593547

Status : Answered

Chosen Option : 3

Q.17 उस समुच्चय को चुनिए जिसमें संख्याएँ ठीक उसी प्रकार संबंधित हैं जिस प्रकार निम्नलिखित समुच्चयों की संख्याएँ संबंधित हैं।

(ध्यान दें: संख्याओं को उनके घटक अंकों में अलग-अलग किए बिना, पूर्ण संख्याओं पर संक्रियाएँ की जानी चाहिए। उदा. 13 – संख्या 13 पर संक्रियाएँ जैसे 13 को जोड़ना/घटाना/गुणा करना आदि किया जा सकता है। 13 को 1 और 3 में अलग-अलग करने की ओर फिर 1 और 3 पर गणितीय संक्रियाएँ करने की अनुमति नहीं है।)

(2, 14, 28)

(7, 11, 77)

Ans 1. 8, 6, 98

2. 6, 9, 54

3. 1, 7, 45

4. 4, 7, 23

Question ID : 264330151614

Option 1 ID : 264330594086

Option 2 ID : 264330594085

Option 3 ID : 264330594084

Option 4 ID : 264330594083

Status : Answered

Chosen Option : 2

Q.18 नीचे दिए गए कथनों और निष्कर्षों को ध्यानपूर्वक पढ़िए। आपको मानना है कि दिए गए कथन सत्य हैं चाहे वे समान्यतः ज्ञात तथ्यों से अलग प्रतीत होते हों। आपको निश्चय करना है कि कौन-सा/कौन-से निष्कर्ष तार्किक रूप से दिए गए कथनों के अनुसार है/हैं।

कथन: सभी जार, प्लास्टिक हैं। कुछ प्लास्टिक, चम्मचे हैं। कोई चम्मच, काटा नहीं है।

निष्कर्ष I: कुछ प्लास्टिक, जार हैं।

निष्कर्ष II: कुछ काटे, चम्मचे हैं।

Ans 1. दोनों निष्कर्ष (I) और (II) कथनों के अनुसार हैं।

2. केवल निष्कर्ष (I) कथनों के अनुसार है।

3. न तो निष्कर्ष (I) और न ही (II) कथनों के अनुसार है।

4. केवल निष्कर्ष (II) कथनों के अनुसार है।

Question ID : 264330155899

Option 1 ID : 264330611002

Option 2 ID : 264330610999

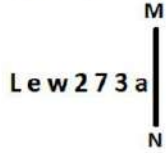
Option 3 ID : 264330611001

Option 4 ID : 264330611000

Status : Answered

Chosen Option : 2

Q.19 दी गई आकृति के उस सही दर्पण प्रतिबिंब को चुनिए, जो नीचे दर्शाए गए अनुसार दर्पण को MN पर रखने पर बनेगा।



- Ans
- ✓ 1.
 - ✗ 2.
 - ✗ 3.
 - ✗ 4.

Question ID : 264330151502

Option 1 ID : 264330593637

Option 2 ID : 264330593638

Option 3 ID : 264330593635

Option 4 ID : 264330593636

Status : Answered

Chosen Option : 1

Q.20 एक निश्चित कूट भाषा में, 'get more sleep' को 'wo bt gk' लिखा जाता है और 'less is more' को 'ap gk cm' लिखा जाता है। उसी कूट भाषा में 'more' को कैसे लिखा जाएगा?

- Ans
- ✗ 1. bt
 - ✗ 2. cm
 - ✓ 3. gk
 - ✗ 4. wo

Question ID : 264330151704

Option 1 ID : 264330594443

Option 2 ID : 264330594444

Option 3 ID : 264330594445

Option 4 ID : 264330594446

Status : Answered

Chosen Option : 3

Section : General Awareness

Q.1 रेखीय संवेग के मापन की इकाई क्या है?

- Ans
- ✗ 1. kg m/s^2
 - ✓ 2. kg m/s
 - ✗ 3. $\text{Kg}^2 \text{ m/s}$
 - ✗ 4. $\text{k}^2\text{g m/s}$

Question ID : 264330157779

Option 1 ID : 264330618477

Option 2 ID : 264330618475

Option 3 ID : 264330618476

Option 4 ID : 264330618478

Status : Answered

Chosen Option : 1

Q.2 कुतुब मीनार कहाँ स्थित है?

- Ans 1. लखनऊ
 2. दिल्ली
 3. आगरा
 4. चंडीगढ़

Question ID : 264330160767
Option 1 ID : 264330630400
Option 2 ID : 264330630401
Option 3 ID : 264330630402
Option 4 ID : 264330630399
Status : Answered
Chosen Option : 2

Q.3 विश्व महिला मुक्केबाजी चैम्पियनशिप 2023 (Women's World Boxing Championship 2023) में भारत की कितनी महिला मुक्केबाजों ने स्वर्ण पदक जीते?

- Ans 1. 2
 2. 1
 3. 4
 4. 3

Question ID : 264330158225
Option 1 ID : 264330620260
Option 2 ID : 264330620259
Option 3 ID : 264330620262
Option 4 ID : 264330620261
Status : Answered
Chosen Option : 1

Q.4 1921 में किसने विश्व भारती नामक प्रसिद्ध शैक्षणिक संस्थान की स्थापना की?

- Ans 1. रवीन्द्रनाथ टैगोर
 2. मदर टेरेसा
 3. विनोबा भावे
 4. स्वामी चिन्मयानंद

Question ID : 264330160885
Option 1 ID : 264330630874
Option 2 ID : 264330630873
Option 3 ID : 264330630872
Option 4 ID : 264330630871
Status : Answered
Chosen Option : 1

Q.5 विश्व की सबसे बड़ी मूंगा चट्टान, जिसे ग्रेट बैरियर रीफ (Great Barrier Reef) के नाम से जाना जाता है, की भौगोलिक स्थिति क्या है?

- Ans 1. ऑस्ट्रेलिया
 2. आयरलैंड
 3. चीन
 4. स्विट्जरलैंड

Question ID : 264330161313
Option 1 ID : 264330632581
Option 2 ID : 264330632579
Option 3 ID : 264330632582
Option 4 ID : 264330632580
Status : Answered
Chosen Option : 1

Q.6 आर. के. नारायण _____ के लेखक हैं।

- Ans
- 1. अनटचेबल
 - 2. फार फ्रॉम द मैडिंग क्राउड
 - 3. द गाइड
 - 4. गोदान

Question ID : 264330160971

Option 1 ID : 264330631216

Option 2 ID : 264330631217

Option 3 ID : 264330631218

Option 4 ID : 264330631215

Status : Answered

Chosen Option : 3

Q.7 मीराबाई चानू को BBC इंडियन स्पोर्ट्सवुमन ऑफ द ईयर 2022 चुना गया। वह किस खेल से संबंधित हैं?

- Ans
- 1. मुक्केबाजी
 - 2. डिस्कस थ्रो
 - 3. भाला फेंकना
 - 4. भारोत्तोलन

Question ID : 264330158367

Option 1 ID : 264330620827

Option 2 ID : 264330620830

Option 3 ID : 264330620829

Option 4 ID : 264330620828

Status : Answered

Chosen Option : 4

Q.8 शिशु पीलिया (infantile jaundice) का सबसे स्पष्ट लक्षण कौन-सा है जो आमतौर पर जन्म के बाद दूसरे और चौथे दिन के बीच दिखाई देता है?

- Ans
- 1. आंखों और त्वचा का रंग पीला पड़ जाना
 - 2. मसूड़ों में सूजन और खून आना
 - 3. मुंह के कोनों में दरारें और जलन
 - 4. सूजी हुई या फूली हुई एड़ियां

Question ID : 264330161080

Option 1 ID : 264330631652

Option 2 ID : 264330631654

Option 3 ID : 264330631653

Option 4 ID : 264330631651

Status : Answered

Chosen Option : 1

Q.9 2016 में पद्म श्री पुरस्कार प्राप्तकर्ता, प्रसिद्ध लोक कलाकार गुलाबो सपेरा, _____ नृत्य की प्रतिपादक हैं।

- Ans
- 1. डांडिया
 - 2. भवाई
 - 3. टिप्पनी
 - 4. कालबेलिया

Question ID : 264330155485
Option 1 ID : 264330609343
Option 2 ID : 264330609346
Option 3 ID : 264330609344
Option 4 ID : 264330609345
Status : Answered
Chosen Option : 4

Q.10 'माइन काम्फ़ (Mein Kampf)' किस विश्व विख्यात शख्सियत की आत्मकथा है?

- Ans
- 1. अल्बर्ट आइंस्टीन (Albert Einstein)
 - 2. चार्ली चैप्लिन (Charlie Chaplin)
 - 3. एडॉल्फ हिटलर (Adolf Hitler)
 - 4. रॉबर्ट मुगाबे (Robert Mugabe)

Question ID : 264330160966
Option 1 ID : 264330631197
Option 2 ID : 264330631195
Option 3 ID : 264330631196
Option 4 ID : 264330631198
Status : Answered
Chosen Option : 3

Q.11 मशहूर बॉलीवुड अदाकारा हेमा मालिनी एक प्रशिक्षित _____ नर्तकी हैं।

- Ans
- 1. कथक
 - 2. भरतनाट्यम
 - 3. ओडिसी
 - 4. कुचिपुड़ी

Question ID : 264330159066
Option 1 ID : 264330623626
Option 2 ID : 264330623625
Option 3 ID : 264330623624
Option 4 ID : 264330623623
Status : Answered
Chosen Option : 2

Q.12 भारत में ब्रिटिश शासन के दौरान लॉर्ड कर्जन ने बंगाल के विभाजन की घोषणा किस वर्ष की थी?

- Ans
- 1. 1906
 - 2. 1907
 - 3. 1905
 - 4. 1904

Question ID : 264330161737
Option 1 ID : 264330634277
Option 2 ID : 264330634278
Option 3 ID : 264330634276
Option 4 ID : 264330634275
Status : Answered
Chosen Option : 3

Q.13 जून 2023 तक हमारे संविधान में कितनी अनुसूचियां थीं?

- Ans
- 1. 10
 - 2. 9
 - 3. 12
 - 4. 8

Question ID : 264330159895
Option 1 ID : 264330626928
Option 2 ID : 264330626930
Option 3 ID : 264330626929
Option 4 ID : 264330626927
Status : Answered
Chosen Option : 3

Q.14 पंजाब राज्य निम्नलिखित में से किस प्राकृतिक संसाधन से समृद्ध है?

- Ans
- 1. उपजाऊ मिट्टी
 - 2. सिलिकॉन
 - 3. कोयला
 - 4. पेट्रोलियम

Question ID : 264330161493
Option 1 ID : 264330633300
Option 2 ID : 264330633302
Option 3 ID : 264330633301
Option 4 ID : 264330633299
Status : Answered
Chosen Option : 1

Q.15 बिह्र किस राज्य का लोक नृत्य है?

- Ans
- 1. असम
 - 2. बिहार
 - 3. छत्तीसगढ़
 - 4. अरुणाचल प्रदेश

Question ID : 264330159055
Option 1 ID : 264330623581
Option 2 ID : 264330623579
Option 3 ID : 264330623582
Option 4 ID : 264330623580
Status : Answered
Chosen Option : 1

Q.16 निम्नलिखित में से कौन-सा भारत में छः डाक व्यवहार के मार्ग (six communication mail channels) का हिस्सा नहीं है?

- Ans
- 1. राजधानी चैनल (Rajdhani channel)
 - 2. मेट्रो चैनल (Metro channel)
 - 3. मासिक चैनल (Monthly channel)
 - 4. बिजनेस चैनल (Business channel)

Question ID : 264330160144
Option 1 ID : 264330627915
Option 2 ID : 264330627918
Option 3 ID : 264330627916
Option 4 ID : 264330627917
Status : Not Answered
Chosen Option : --

Q.17 निम्नलिखित में से किस शहर में 2023 SAFF चैम्पियनशिप आयोजित की जाएगी?

- Ans 1. बेंगलुरु
 2. कोच्चि
 3. अहमदाबाद
 4. मुंबई

Question ID : 264330161149
Option 1 ID : 264330631929
Option 2 ID : 264330631928
Option 3 ID : 264330631930
Option 4 ID : 264330631927
Status : Answered
Chosen Option : 1

Q.18 किस भारतीय संगीतकार को उनके एल्बम 'प्लैनेट ड्रम' (Planet Drum) के लिए ग्रैमी पुरस्कार से सम्मानित किया गया था?

- Ans 1. जाकिर हुसैन
 2. दर्शन दोशी
 3. त्रिलोक गुर्तू
 4. शिवमणि

Question ID : 264330155461
Option 1 ID : 264330609247
Option 2 ID : 264330609250
Option 3 ID : 264330609249
Option 4 ID : 264330609248
Status : Answered
Chosen Option : 2

Q.19 गरीब कल्याण रोज़गार अभियान (GKRA) 2020 में कितने राज्यों का चयन किया गया?

- Ans 1. 16 राज्य
 2. 8 राज्य
 3. 10 राज्य
 4. 6 राज्य

Question ID : 264330160170
Option 1 ID : 264330628022
Option 2 ID : 264330628020
Option 3 ID : 264330628021
Option 4 ID : 264330628019
Status : Not Answered
Chosen Option : --

Q.20 गंगूबाई हंगल का संबंध मुख्य रूप से किस घराने से था?

- Ans
- 1. पटियाला
 - 2. आगरा
 - 3. किराना
 - 4. बनारस

Question ID : 264330155467
Option 1 ID : 264330609273
Option 2 ID : 264330609274
Option 3 ID : 264330609272
Option 4 ID : 264330609271
Status : Answered
Chosen Option : 2

Q.21 निम्नलिखित में से कौन-सा सरकारी बजट में गैर-ऋण पूंजी प्राप्ति का उदाहरण है?

- Ans
- 1. नागरिकों से वसूला गया राजस्व कर
 - 2. सरकारी बंधपत्र पर ब्याज भुगतान
 - 3. सरकारी-स्वामित्व वाली भूमि की बिक्री
 - 4. अंतर्राष्ट्रीय वित्तीय संस्थानों से ऋण

Question ID : 264330157279
Option 1 ID : 264330616481
Option 2 ID : 264330616482
Option 3 ID : 264330616480
Option 4 ID : 264330616479
Status : Not Answered
Chosen Option : --

Q.22 बैंकिंग में 'ब्याज' शब्द का क्या अर्थ है?

- Ans
- 1. ऋण या जमा पर अर्जित अतिरिक्त धनराशि
 - 2. बैंक खाते में जमा की गई धनराशि
 - 3. एटीएम से पैसे निकालने पर लिया जाने वाला शुल्क
 - 4. अन्य मुद्राओं के संबंध में एक मुद्रा का मूल्य

Question ID : 264330157299
Option 1 ID : 264330616561
Option 2 ID : 264330616560
Option 3 ID : 264330616559
Option 4 ID : 264330616562
Status : Answered
Chosen Option : 1

Q.23 पशुधन के व्यापार के लिए प्राचीन युग से लोकप्रिय, _____, जो एक महीने तक चलने वाला कार्यक्रम है, नवंबर के महीने में कार्तिक पूर्णिमा के शुभ अवसर पर हरिहर नाथ मंदिर के पास होता है।

- Ans 1. सोनपुर मेला
 2. राजगीर मेला
 3. पुष्कर मेला
 4. अर्धकुंभ मेला

Question ID : 264330160835
Option 1 ID : 264330630671
Option 2 ID : 264330630673
Option 3 ID : 264330630672
Option 4 ID : 264330630674
Status : Answered
Chosen Option : 1

Q.24 राज्य विधानमंडल (state legislature) में धन विधेयक पेश करने के लिए किसकी पूर्व अनुशंसा की आवश्यकता होती है?

- Ans 1. मुख्य मंत्री
 2. महाधिवक्ता
 3. सदन के अध्यक्ष
 4. राज्यपाल

Question ID : 264330159923
Option 1 ID : 264330627039
Option 2 ID : 264330627042
Option 3 ID : 264330627041
Option 4 ID : 264330627040
Status : Answered
Chosen Option : 4

Q.25 विद्युत क्षेत्र की पूर्णोत्थान वितरण क्षेत्र योजना के संबंध में निम्नलिखित में से कौन-सा कथन सही है?

- 1) प्रधान मंत्री ने 2022 में बिजली मंत्रालय की प्रमुख पूर्णोत्थान वितरण क्षेत्र योजना शुरू की।
- 2) इस योजना का उद्देश्य वितरण कंपनियों की परिचालन दक्षताओं और वित्तीय स्थायित्व में सुधार करना है।
- 3) वित्त वर्ष 2022-23 से वित्त वर्ष 2027-28 तक, इस योजना का लक्ष्य डिस्कॉम्स (DISCOMs) को वित्तीय सहायता प्रदान करना है।
- 4) इस योजना के तहत पूरे देश में उपभोक्ताओं को 25 करोड़ स्मार्ट प्रीपेड मीटर उपलब्ध कराने का प्रस्ताव है।

- Ans 1. 1, 3 और 4
 2. 1, 2 और 4
 3. 2, 3 और 4
 4. 1, 2 और 3

Question ID : 264330161404
Option 1 ID : 264330632944
Option 2 ID : 264330632945
Option 3 ID : 264330632946
Option 4 ID : 264330632943
Status : Not Answered
Chosen Option : --

Q.1 Select the most appropriate synonym of the given word.
Insist

- Ans** 1. Persist
 2. Resist
 3. Heist
 4. Assist

Question ID : 264330151824
Option 1 ID : 264330594926
Option 2 ID : 264330594924
Option 3 ID : 264330594923
Option 4 ID : 264330594925
Status : Answered
Chosen Option : 2

Q.2 Select the INCORRECTLY spelt word.

- Ans** 1. Inexpressible
 2. Assasin
 3. Mischievous
 4. Insurance

Question ID : 264330152691
Option 1 ID : 264330598370
Option 2 ID : 264330598369
Option 3 ID : 264330598367
Option 4 ID : 264330598368
Status : Answered
Chosen Option : 2

Q.3 Select the most appropriate ANTONYM of the given word.
Crude

- Ans** 1. Observant
 2. Patient
 3. Primitive
 4. Refined

Question ID : 264330153365
Option 1 ID : 264330601014
Option 2 ID : 264330601013
Option 3 ID : 264330601012
Option 4 ID : 264330601011
Status : Answered
Chosen Option : 4

Q.4 Select the most appropriate meaning of the underlined segment in the given sentence.
Buying a new car can cost an arm and a leg.

- Ans** 1. Be free
 2. Be expensive
 3. Be reasonable
 4. Be affordable

Question ID : 264330152926
Option 1 ID : 264330599284
Option 2 ID : 264330599283
Option 3 ID : 264330599286
Option 4 ID : 264330599285
Status : Answered
Chosen Option : 2

Q.5 Select the most appropriate meaning of the underlined idiom in the given sentence.

Rina's house is at a stone's throw from the school.

- Ans 1. A very short distance
 2. Next to
 3. A very long distance
 4. Not very close to

Question ID : 264330152877
Option 1 ID : 264330599100
Option 2 ID : 264330599101
Option 3 ID : 264330599099
Option 4 ID : 264330599102
Status : Answered
Chosen Option : 1

Q.6 Parts of the given sentence have been underlined. One of them contains an error. The underlined parts are given as options with some changes. Select the option that correctly rectifies the error.

The new restaurant on Main Street is cheap than the old one.

- Ans 1. newer restaurant
 2. in Main Street
 3. is cheaper than
 4. the older one

Question ID : 264330153171
Option 1 ID : 264330600243
Option 2 ID : 264330600244
Option 3 ID : 264330600245
Option 4 ID : 264330600246
Status : Answered
Chosen Option : 3

Q.7 Parts of the following sentence have been underlined and given as options. Select the option that contains an error.

My relatives shall have reached Amritsar by now.

- Ans 1. shall
 2. My
 3. by now
 4. reached

Question ID : 264330153189
Option 1 ID : 264330600316
Option 2 ID : 264330600315
Option 3 ID : 264330600318
Option 4 ID : 264330600317
Status : Answered
Chosen Option : 1

Q.8 Select the most appropriate meaning of the underlined idiom.

The actor decided to live life in the fast lane.

- Ans
- 1. Racing away to the moon
 - 2. A life of extreme speed
 - 3. A life filled with excitement
 - 4. Dropping charges of crime

Question ID : 264330153144

Option 1 ID : 264330600136

Option 2 ID : 264330600135

Option 3 ID : 264330600138

Option 4 ID : 264330600137

Status : Answered

Chosen Option : 3

Q.9 The following sentence has been divided into four parts. Identify the part that contains an error.

(A) We are living / (B) here since / (C) the summer / (D) of last year.

- Ans
- 1. C
 - 2. B
 - 3. A
 - 4. D

Question ID : 264330152627

Option 1 ID : 264330598111

Option 2 ID : 264330598112

Option 3 ID : 264330598114

Option 4 ID : 264330598113

Status : Answered

Chosen Option : 2

Q.10 Select the most appropriate option to substitute the underlined segment in the given sentence.

Mohan unknowingly altered salt instead of sugar to the dessert making it taste terrible.

- Ans
- 1. amplified salt instead of sugar
 - 2. anguished salt instead of sugar
 - 3. added salt instead of sugar
 - 4. abridged salt instead of sugar

Question ID : 264330153435

Option 1 ID : 264330601263

Option 2 ID : 264330601264

Option 3 ID : 264330601266

Option 4 ID : 264330601265

Status : Answered

Chosen Option : 3

Q.11 Select the most appropriate synonym of the given word.
Diminish

- Ans** 1. Weaken
 2. Demote
 3. Relegate
 4. Prevent

Question ID : 264330151879
Option 1 ID : 264330595136
Option 2 ID : 264330595135
Option 3 ID : 264330595137
Option 4 ID : 264330595138
Status : Answered
Chosen Option : 3

Q.12 Parts of the following sentence have been given as options. Select the option that contains an error.
Sanjana rubbed her eyes hardly.

- Ans** 1. hardly
 2. Sanjana
 3. her eyes
 4. rubbed

Question ID : 264330152807
Option 1 ID : 264330598822
Option 2 ID : 264330598819
Option 3 ID : 264330598821
Option 4 ID : 264330598820
Status : Answered
Chosen Option : 1

Q.13 The following sentence has been divided into parts. One of them may contain an error.
Select the part that contains the error from the given options. If you don't find any error, mark 'No error' as your answer.
A night alone / in a hotel / can be lonely prospect.

- Ans** 1. in a hotel
 2. can be lonely prospect
 3. A night alone
 4. No error

Question ID : 264330153195
Option 1 ID : 264330600340
Option 2 ID : 264330600341
Option 3 ID : 264330600339
Option 4 ID : 264330600342
Status : Answered
Chosen Option : 3

Q.14 Select the option that can be used as a one-word substitute for the given group of words.

A person who loves or collects books

- Ans** ✓ 1. Bibliophile
✗ 2. Anglophile
✗ 3. Heliophile
✗ 4. Paedophile

Question ID : 264330151866
Option 1 ID : 264330595083
Option 2 ID : 264330595085
Option 3 ID : 264330595086
Option 4 ID : 264330595084
Status : Answered
Chosen Option : 1

Q.15 Select the option that can be used as a one-word substitute for the given group of words.

Group of bees

- Ans** ✓ 1. Swarm
✗ 2. Gaggle
✗ 3. Pack
✗ 4. Shoal

Question ID : 264330151814
Option 1 ID : 264330594885
Option 2 ID : 264330594883
Option 3 ID : 264330594886
Option 4 ID : 264330594884
Status : Answered
Chosen Option : 3

Q.16 Select the most appropriate option to fill in the blank.
Can you quote any _____ in your favour?

- Ans** ✗ 1. lines
✗ 2. summary
✓ 3. precedent
✗ 4. answer

Question ID : 264330153357
Option 1 ID : 264330600982
Option 2 ID : 264330600979
Option 3 ID : 264330600980
Option 4 ID : 264330600981
Status : Answered
Chosen Option : 2

Q.17 Select the most appropriate option to fill in the blank.
Suresh has been learning Tamil _____ two months.

- Ans 1. for
 2. before
 3. from
 4. since

Question ID : 264330152732
Option 1 ID : 264330598529
Option 2 ID : 264330598530
Option 3 ID : 264330598527
Option 4 ID : 264330598528
Status : Answered
Chosen Option : 3

Q.18 Select the most appropriate idiom to fill in the blank.
I asked my friend to _____ against her employers who are doing wrong to her.

- Ans 1. fight fire with fire
 2. fine words butter no parsnips
 3. fight the good fight
 4. finders keepers, losers weepers

Question ID : 264330153297
Option 1 ID : 264330600745
Option 2 ID : 264330600746
Option 3 ID : 264330600743
Option 4 ID : 264330600744
Status : Answered
Chosen Option : 3

Q.19 Parts of the following sentence have been underlined and given as options. Select the option that contains a misspelt word.

The single most important factor that distinguishes those of us who succeed in any venture and those of us who don't is this 'instant coffee' attitude.

- Ans 1. distinguishes
 2. venture
 3. succeed
 4. attitude

Question ID : 264330151835
Option 1 ID : 264330594967
Option 2 ID : 264330594969
Option 3 ID : 264330594968
Option 4 ID : 264330594970
Status : Answered
Chosen Option : 3

Q.20 Select the **INCORRECTLY** spelt word.

- Ans** 1. Discrepancy
 2. Wrestler
 3. Accompaniment
 4. Debatable

Question ID : **264330152786**
Option 1 ID : **264330598736**
Option 2 ID : **264330598737**
Option 3 ID : **264330598738**
Option 4 ID : **264330598735**
Status : **Answered**
Chosen Option : **3**

Comprehension:

In the following passage, some words have been deleted. Read the passage carefully and select the most appropriate option to fill in each blank.
There are several reasons why people might 1)_____ that homework is an unnecessary burden on children. Firstly, there is evidence to support the idea that homework 2)_____ nothing to improve educational outcomes. Countries such as Finland, where school children are not given homework, regularly top international educational league tables and outperform nations where setting homework is the norm. Secondly, many parents would agree that the school day is already 3)_____, and leaves their children too tired to do further study when they return home. 4)_____, it is recognised that play time is just as 5)_____ as study time from the perspective of brain development.

SubQuestion No : 21

Q.21 Select the most appropriate option to fill in blank 1.

- Ans** 1. argue
 2. argues
 3. be argues
 4. have argue

Question ID : **264330153600**
Option 1 ID : **264330601883**
Option 2 ID : **264330601884**
Option 3 ID : **264330601886**
Option 4 ID : **264330601885**
Status : **Answered**
Chosen Option : **4**

Comprehension:

In the following passage, some words have been deleted. Read the passage carefully and select the most appropriate option to fill in each blank.

There are several reasons why people might 1)_____ that homework is an unnecessary burden on children. Firstly, there is evidence to support the idea that homework 2)_____ nothing to improve educational outcomes. Countries such as Finland, where school children are not given homework, regularly top international educational league tables and outperform nations where setting homework is the norm. Secondly, many parents would agree that the school day is already 3)_____, and leaves their children too tired to do further study when they return home. 4)_____, it is recognised that play time is just as 5)_____ as study time from the perspective of brain development.

SubQuestion No : 22

Q.22 Select the most appropriate option to fill in blank 2.

- Ans 1. will does
 2. has do
 3. does
 4. do

Question ID : 264330153601

Option 1 ID : 264330601890

Option 2 ID : 264330601887

Option 3 ID : 264330601889

Option 4 ID : 264330601888

Status : Answered

Chosen Option : 3

Comprehension:

In the following passage, some words have been deleted. Read the passage carefully and select the most appropriate option to fill in each blank.

There are several reasons why people might 1)_____ that homework is an unnecessary burden on children. Firstly, there is evidence to support the idea that homework 2)_____ nothing to improve educational outcomes. Countries such as Finland, where school children are not given homework, regularly top international educational league tables and outperform nations where setting homework is the norm. Secondly, many parents would agree that the school day is already 3)_____, and leaves their children too tired to do further study when they return home. 4)_____, it is recognised that play time is just as 5)_____ as study time from the perspective of brain development.

SubQuestion No : 23

Q.23 Select the most appropriate option to fill in blank 3.

- Ans 1. big enough
 2. not enough
 3. long enough
 4. enough of

Question ID : 264330153602

Option 1 ID : 264330601891

Option 2 ID : 264330601894

Option 3 ID : 264330601892

Option 4 ID : 264330601893

Status : Answered

Chosen Option : 3

Comprehension:

In the following passage, some words have been deleted. Read the passage carefully and select the most appropriate option to fill in each blank.

There are several reasons why people might 1)_____ that homework is an unnecessary burden on children. Firstly, there is evidence to support the idea that homework 2)_____ nothing to improve educational outcomes. Countries such as Finland, where school children are not given homework, regularly top international educational league tables and outperform nations where setting homework is the norm. Secondly, many parents would agree that the school day is already 3)_____, and leaves their children too tired to do further study when they return home. 4)_____, it is recognised that play time is just as 5)_____ as study time from the perspective of brain development.

SubQuestion No : 24

Q.24 Select the most appropriate option to fill in blank 4.

- Ans 1. Similarly
 2. Finally
 3. Usually
 4. Normally

Question ID : 264330153603

Option 1 ID : 264330601897

Option 2 ID : 264330601898

Option 3 ID : 264330601896

Option 4 ID : 264330601895

Status : Answered

Chosen Option : 3

Comprehension:

In the following passage, some words have been deleted. Read the passage carefully and select the most appropriate option to fill in each blank.

There are several reasons why people might 1)_____ that homework is an unnecessary burden on children. Firstly, there is evidence to support the idea that homework 2)_____ nothing to improve educational outcomes. Countries such as Finland, where school children are not given homework, regularly top international educational league tables and outperform nations where setting homework is the norm. Secondly, many parents would agree that the school day is already 3)_____, and leaves their children too tired to do further study when they return home. 4)_____, it is recognised that play time is just as 5)_____ as study time from the perspective of brain development.

SubQuestion No : 25

Q.25 Select the most appropriate option to fill in blank 5.

- Ans 1. beneficial
 2. confidential
 3. soon
 4. bad

Question ID : 264330153604

Option 1 ID : 264330601900

Option 2 ID : 264330601901

Option 3 ID : 264330601899

Option 4 ID : 264330601902

Status : Answered

Chosen Option : 1