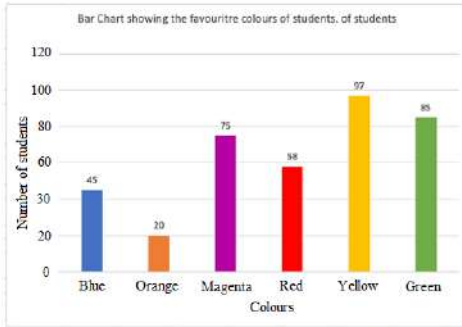


Multi Tasking Non Technical Staff and Havaladar CBIC and CBN Examination 2023

Roll Number	
Candidate Name	
Venue Name	
Exam Date	05/09/2023
Exam Time	12:30 PM - 2:30 PM
Subject	MTS Non Tech Havaladar CBIC and CBN Examination 2023

Section : Numerical and Mathematical Ability

Q.1 निम्नलिखित दंड आलेख में एक कक्षा के 380 छात्रों के पसंदीदा रंगों को दर्शाया गया है। दंड आलेख का अध्ययन कीजिए और उसके आधार पर प्रश्न का उत्तर दीजिए।



संदर्भ: Bar Chart showing the favourite colours of students - छात्रों के पसंदीदा रंगों को दर्शाता दंड आलेख, Number of students - छात्रों की संख्या, Colours - रंग, Blue - नीला, Orange - नारंगी, Magenta - मैजेंटा, Red - लाल, Yellow - पीला, Green - हरा

नीला, मैजेंटा, लाल और पीला रंग पसंद करने वाले छात्रों की कुल संख्या, कक्षा में छात्रों की कुल संख्या का कितना प्रतिशत (निकटतम पूर्णांक तक सन्निकटित) है?

- Ans
- 1. 77%
 - 2. 72%
 - 3. 69%
 - 4. 64%

Question ID : 264330153782

Option 1 ID : 264330602593

Option 2 ID : 264330602594

Option 3 ID : 264330602592

Option 4 ID : 264330602591

Status : Answered

Chosen Option : 2

Q.2 एक लम्ब वृत्तीय शंकु की ऊंचाई 9.8 cm और उसकी आधार की विज्या 4 cm है। इसे पिघलाकर 3.5 cm आधार की विज्या वाले एक लम्ब वृत्तीय शंकु में पुनः ढाला जाता है। इसकी ऊंचाई ज्ञात कीजिए ? ($\pi = \frac{22}{7}$ का प्रयोग कीजिए)।

- Ans
- 1. 18.2 cm
 - 2. 21.8 cm
 - 3. 12.8 cm
 - 4. 28.1 cm

Question ID : 264330156293

Option 1 ID : 264330612571

Option 2 ID : 264330612574

Option 3 ID : 264330612572

Option 4 ID : 264330612573

Status : Answered

Chosen Option : 3

Q.3 एक यात्रा की कुल दूरी 800 km है। यदि एक कार यात्रा के पहले 320 km की दूरी 64 km/hr की चाल से तय करती है, तो अगले 480 km की चाल क्या होनी चाहिए ताकि औसत चाल 80 km/hr हो जाए?

- Ans
- 1. 86 km/hr
 - 2. 96 km/hr
 - 3. 69 km/hr
 - 4. 89 km/hr

Question ID : 264330156550

Option 1 ID : 264330613588

Option 2 ID : 264330613590

Option 3 ID : 264330613587

Option 4 ID : 264330613589

Status : Answered

Chosen Option : 2

Q.4 ₹29,120 के लाभ को A, B और C के बीच इस प्रकार बांटा जाता है कि A का हिस्सा B के हिस्से का $2\frac{1}{2}$ गुना हो और B का हिस्सा C के हिस्से का $1\frac{1}{5}$ गुना हो। B का हिस्सा ज्ञात कीजिए।

- Ans
- 1. ₹6,940
 - 2. ₹7,140
 - 3. ₹6,720
 - 4. ₹7,820

Question ID : 264330156268

Option 1 ID : 264330612472

Option 2 ID : 264330612473

Option 3 ID : 264330612471

Option 4 ID : 264330612474

Status : Answered

Chosen Option : 3

Q.5 a और $\frac{a}{b^2}$ का माध्यानुपाती _____ है।

- Ans
- 1. $\frac{b}{a}$
 - 2. $\frac{a}{2b}$
 - 3. $\frac{a}{b}$
 - 4. ab

Question ID : 264330153808

Option 1 ID : 264330602697

Option 2 ID : 264330602696

Option 3 ID : 264330602695

Option 4 ID : 264330602698

Status : Answered

Chosen Option : 3

Q.6 एक स्कूल में छात्रों की संख्या में प्रत्येक एकांतर वर्ष (alternate year) में 20% की वृद्धि और कमी होती है। यह वर्ष 2015 में वृद्धि के साथ शुरू हुई और शुरुआत में छात्रों की संख्या 3000 थी। वर्ष 2017 में स्कूल में छात्रों की संख्या और छात्रों की संख्या में वृद्धि का प्रतिशत क्रमशः ज्ञात कीजिए।

- Ans
- 1. 4556, 17.2%
 - 2. 3556, 16.2%
 - 3. 3456, 15.2%
 - 4. 4456, 14.2%

Question ID : 264330155996

Option 1 ID : 264330611386

Option 2 ID : 264330611384

Option 3 ID : 264330611385

Option 4 ID : 264330611383

Status : Answered

Chosen Option : 3

Q.7 एक सिपाही एक चोर को 185 m की दूरी से देखता है। चोर भागने लगता है और सिपाही उसका पीछा करता है। चोर और सिपाही क्रमशः 8 m/s और 9 m/s की चाल से दौड़ते हैं। 2 मिनट बाद उनके बीच की दूरी कितनी है?

- Ans
- 1. 65 m
 - 2. 92 m
 - 3. 120 m
 - 4. 130 m

Question ID : 264330153882

Option 1 ID : 264330602991

Option 2 ID : 264330602993

Option 3 ID : 264330602992

Option 4 ID : 264330602994

Status : Answered

Chosen Option : 1

Q.8 तीन सदस्यों (माता, पिता और पुत्र) के एक परिवार की औसत आयु 44 वर्ष है। पुत्र की शादी के बाद परिवार की औसत आयु 39 वर्ष हो जाती है। बहू की आयु क्या है?

- Ans
- ✗ 1. 23 वर्ष
 - ✓ 2. 24 वर्ष
 - ✗ 3. 22 वर्ष
 - ✗ 4. 25 वर्ष

Question ID : 264330154116
Option 1 ID : 264330603929
Option 2 ID : 264330603928
Option 3 ID : 264330603930
Option 4 ID : 264330603927
Status : Answered
Chosen Option : 2

Q.9 तीन संख्याओं का महत्तम समापवर्तक (HCF) 57 है। यदि इन संख्याओं का अनुपात 4 : 5 : 6 है, तो संख्याएं ज्ञात कीजिए।

- Ans
- ✗ 1. 232, 290, 348
 - ✗ 2. 240, 300, 360
 - ✗ 3. 236, 295, 354
 - ✓ 4. 228, 285, 342

Question ID : 264330155722
Option 1 ID : 264330610292
Option 2 ID : 264330610294
Option 3 ID : 264330610291
Option 4 ID : 264330610293
Status : Answered
Chosen Option : 4

Q.10 नीचे दी गई तालिका में एक परीक्षा में चार छात्रों A, B, C और D द्वारा चार विषयों में प्राप्त किए गए अंकों को दर्शाया गया है। प्रत्येक विषय के लिए अधिकतम अंक 100 हैं।

छात्र	अंग्रेजी	हिंदी	गणित	विज्ञान
A	90	89	100	93
B	85	86	88	95
C	94	92	96	89
D	87	90	97	82

चार छात्रों के गणित और हिंदी के मिलाकर लिए गए औसत अंक, अंग्रेजी और विज्ञान के मिलाकर लिए गए औसत अंकों की तुलना में कितने प्रतिशत अधिक/कम (दशमलव के 1 स्थान तक सन्निकटित) हैं?

- Ans
- ✗ 1. अधिक, 2.4%
 - ✗ 2. कम, 3.2%
 - ✗ 3. कम, 2.4%
 - ✓ 4. अधिक, 3.2%

Question ID : 264330153779
Option 1 ID : 264330602581
Option 2 ID : 264330602580
Option 3 ID : 264330602582
Option 4 ID : 264330602579
Status : Answered
Chosen Option : 4

Q.11 निम्नलिखित व्यंजक को सरल कीजिए।

$$2 \div [2 + 2 \div \{2 + 2 \div (2 + 2 \div 3)\}]$$

- Ans
- 1. $\frac{13}{15}$
 - 2. $\frac{19}{15}$
 - 3. $\frac{11}{15}$
 - 4. $\frac{17}{15}$

Question ID : 264330156068

Option 1 ID : 264330611671

Option 2 ID : 264330611674

Option 3 ID : 264330611673

Option 4 ID : 264330611672

Status : Answered

Chosen Option : 3

Q.12 तुषार, मेघा, पूनम और ऋचा एक काम को क्रमशः 10 दिन, 12 दिन, 15 दिन और 18 दिन में पूरा कर सकते हैं। यदि उनमें से हर एक बारी-बारी से एक दिन छोड़कर काम करें और मेघा पहले दिन काम शुरू करती है और उसके बाद, पूनम दूसरे दिन, फिर ऋचा तीसरे दिन और तुषार चौथे दिन और फिर मेघा पांचवें दिन इसी प्रकार आगे काम करते रहते हैं, तो काम कितने दिनों में पूरा हो जाएगा?

- Ans
- 1. 13
 - 2. 10
 - 3. 14
 - 4. 12

Question ID : 264330156195

Option 1 ID : 264330612182

Option 2 ID : 264330612179

Option 3 ID : 264330612181

Option 4 ID : 264330612180

Status : Answered

Chosen Option : 1

Q.13 निकिता ने दो निवेश किए, वह एक निवेश पर 10% अर्जित करती है और दूसरे निवेश पर उसे 20% की हानि होती है। यदि निवेश 2 : 3 के अनुपात में थे, तो उसका लाभ या हानि प्रतिशत कितना है?

- Ans
- 1. 8% की हानि
 - 2. 8% का लाभ
 - 3. 15% का लाभ
 - 4. 15% की हानि

Question ID : 264330154046

Option 1 ID : 264330603650

Option 2 ID : 264330603649

Option 3 ID : 264330603647

Option 4 ID : 264330603648

Status : Answered

Chosen Option : 1

Q.14 36 वर्ग इकाई क्षेत्रफल वाले एक वर्ग की भुजाओं के मध्य बिन्दुओं का प्रयोग करते हुए एक अन्य वर्ग बनाया जाता है। नए बने वर्ग का क्षेत्रफल वर्ग इकाई में क्या है?

- Ans**
- ✓ 1. 18
 - ✗ 2. 27
 - ✗ 3. 24
 - ✗ 4. 21

Question ID : 264330153824
Option 1 ID : 264330602759
Option 2 ID : 264330602760
Option 3 ID : 264330602761
Option 4 ID : 264330602762
Status : Answered
Chosen Option : 1

Q.15 एक आदमी साइकिल से एक स्थान तक जाने और वहाँ से स्कूटर से वापस आने में 8 घंटे 30 मिनट का समय लेता है। यदि वह दोनों ओर की यात्रा साइकिल से करता है, तो उसे 10 घंटे लगते हैं। उसे स्कूटर से दोनों ओर की यात्रा करने में कितना समय लगेगा (घंटों में)?

- Ans**
- ✗ 1. $3\frac{1}{2}$
 - ✓ 2. 7
 - ✗ 3. 4
 - ✗ 4. $4\frac{1}{2}$

Question ID : 264330156007
Option 1 ID : 264330611428
Option 2 ID : 264330611430
Option 3 ID : 264330611429
Option 4 ID : 264330611427
Status : Answered
Chosen Option : 2

Q.16 एक स्कूल में एक कक्षा के दो वर्ग हैं। वर्ग A में 30 छात्र हैं और वर्ग B में 20 छात्र हैं। वर्ग A में छात्रों का औसत प्राप्तांक 85 है, और वर्ग B में छात्रों का औसत प्राप्तांक 70 है। कक्षा का कुल औसत प्राप्तांक क्या है?

- Ans**
- ✓ 1. 79
 - ✗ 2. 78
 - ✗ 3. 80
 - ✗ 4. 81

Question ID : 264330156254
Option 1 ID : 264330612417
Option 2 ID : 264330612418
Option 3 ID : 264330612416
Option 4 ID : 264330612415
Status : Answered
Chosen Option : 1

Q.17 यदि ब्याज त्रैमासिक रूप से संयोजित किया जाता है, तो ₹75,000 की धनराशि 16% वार्षिक दर से एक वर्ष में कितनी हो जाएगी।
(दशमलव के दो स्थानों तक सन्निकटित)

- Ans
- 1. ₹87,379.40
 - 2. ₹87,739.40
 - 3. ₹89,773.40
 - 4. ₹87,937.40

Question ID : 264330156364
Option 1 ID : 264330612857
Option 2 ID : 264330612855
Option 3 ID : 264330612858
Option 4 ID : 264330612856
Status : Answered
Chosen Option : 2

Q.18 12% वार्षिक दर से 15 माह में ₹6,000 का साधारण ब्याज कितना होगा?

- Ans
- 1. ₹600
 - 2. ₹900
 - 3. ₹800
 - 4. ₹750

Question ID : 264330155965
Option 1 ID : 264330611260
Option 2 ID : 264330611262
Option 3 ID : 264330611261
Option 4 ID : 264330611259
Status : Answered
Chosen Option : 2

Q.19 दिव्या ने एक रुपए में छः कैंडी खरीदी। 50% लाभ प्राप्त करने के लिए उसे एक रुपए में कितनी कैंडियां बेचनी होंगी?

- Ans
- 1. चार
 - 2. तीन
 - 3. दो
 - 4. एक

Question ID : 264330155704
Option 1 ID : 264330610222
Option 2 ID : 264330610221
Option 3 ID : 264330610220
Option 4 ID : 264330610219
Status : Answered
Chosen Option : 1

Q.20 रीना, रितु और सीता अकेले एक काम को क्रमशः 6 घंटे, 9 घंटे और 18 घंटे में पूरा कर सकती हैं। यदि वे साथ मिलकर काम करती हैं, तो उस काम को पूरा करने में उन्हें कितना समय (घंटों में) लगेगा?

- Ans** 1. 3
 2. 4
 3. 2
 4. 5

Question ID : 264330156237
Option 1 ID : 264330612348
Option 2 ID : 264330612349
Option 3 ID : 264330612347
Option 4 ID : 264330612350
Status : Answered
Chosen Option : 1

Section : Reasoning Ability and Problem Solving

Q.1 यदि '+' और '-' को आपस में बदल दिया जाए तथा 'x' और '÷' को आपस में बदल दिया जाए तो निम्नलिखित समीकरण में (?) के स्थान पर क्या आएगा?

$$52 \div 6 + 71 - 168 \times 8 = ?$$

- Ans** 1. 211
 2. 313
 3. 310
 4. 262

Question ID : 264330154619
Option 1 ID : 264330605940
Option 2 ID : 264330605942
Option 3 ID : 264330605939
Option 4 ID : 264330605941
Status : Answered
Chosen Option : 4


Q.2 दी गई श्रृंखला में प्रश्न चिह्न '?' के स्थान पर क्या आना चाहिए?

31 32 35 36 39 ?

- Ans** 1. 42
 2. 40
 3. 43
 4. 41

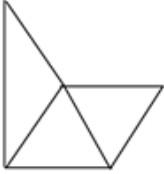
Question ID : 264330151547
Option 1 ID : 264330593817
Option 2 ID : 264330593815
Option 3 ID : 264330593818
Option 4 ID : 264330593816
Status : Answered
Chosen Option : 2

Q.3 पैटर्न को पूरा करने वाली आकृति को पहचानिए (घूर्णन की अनुमति नहीं है)।

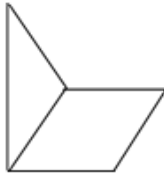


Ans

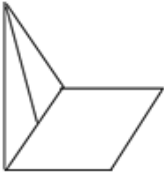
✗ 1.



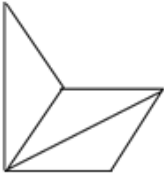
✓ 2.



✗ 3.



✗ 4.



Question ID : 264330154518

Option 1 ID : 264330605537

Option 2 ID : 264330605538

Option 3 ID : 264330605535

Option 4 ID : 264330605536

Status : Answered

Chosen Option : 2

Q.4 एक निश्चित कूट भाषा में, 'make your life' को 'uk ox zt' लिखा जाता है और 'life is good' को 'qr uk va' लिखा जाता है। उसी कूट भाषा में 'life' को कैसे लिखा जाएगा?

Ans

✗ 1. zt

✗ 2. ox

✓ 3. uk

✗ 4. qr

Question ID : 264330151692

Option 1 ID : 264330594395

Option 2 ID : 264330594398

Option 3 ID : 264330594397

Option 4 ID : 264330594396

Status : Answered

Chosen Option : 3

Q.5 एक निश्चित कूट भाषा में, 'ETHOS' को '15' लिखा जाता है और 'CHEERFUL' को '24' लिखा जाता है। उस कूट भाषा में 'CHIMNEY' को कैसे लिखा जाएगा?

- Ans
- 1. 18
 - 2. 19
 - 3. 23
 - 4. 21

Question ID : 264330155821
Option 1 ID : 264330610690
Option 2 ID : 264330610688
Option 3 ID : 264330610687
Option 4 ID : 264330610689
Status : Answered
Chosen Option : 4

Q.6 नीचे दिए गए कथनों और निष्कर्षों को ध्यानपूर्वक पढ़िए। आपको मानना है कि दिए गए कथन सत्य हैं चाहे वे समान्यतः ज्ञात तथ्यों से अलग प्रतीत होते हों। आपको निश्चय करना है कि कौन-सा/कौन-से निष्कर्ष तार्किक रूप से दिए गए कथनों के अनुसार है/हैं।

कथन: कुछ दीवारें, पत्थर हैं। सभी पत्थर, हीरे हैं। सभी हीरे, ईंटें हैं।

निष्कर्ष I: कुछ पत्थर, दीवारें हैं।
निष्कर्ष II: कुछ पत्थर, ईंटें हैं।

- Ans
- 1. दोनों निष्कर्ष (I) और (II) कथनों के अनुसार हैं।
 - 2. केवल निष्कर्ष (I) कथनों के अनुसार है।
 - 3. न तो निष्कर्ष (I) और न ही (II) कथनों के अनुसार है।
 - 4. केवल निष्कर्ष (II) कथनों के अनुसार है।

Question ID : 264330155932
Option 1 ID : 264330611134
Option 2 ID : 264330611131
Option 3 ID : 264330611133
Option 4 ID : 264330611132
Status : Answered
Chosen Option : 1

Q.7 दी गई श्रृंखला में प्रश्न चिन्ह '?' के स्थान पर क्या आना चाहिए?

7 30 122 490 1962 ?

- Ans
- 1. 7872
 - 2. 7760
 - 3. 7896
 - 4. 7850

Question ID : 264330151494
Option 1 ID : 264330593605
Option 2 ID : 264330593603
Option 3 ID : 264330593606
Option 4 ID : 264330593604
Status : Answered
Chosen Option : 4

Q.8 नीचे दिए गए कथन/कथनों और निष्कर्षों को ध्यानपूर्वक पढ़िए। आपको मानना है कि दिए गए कथन सत्य हैं चाहे वे समान्यतः ज्ञात तथ्यों से अलग प्रतीत होते हों। आपको निश्चय करना है कि कौन-सा/कौन-से निष्कर्ष तार्किक रूप से दिए गए कथन/कथनों के अनुसार है/हैं।
कथन: सभी ऑर्किड, फूल हैं। कुछ ऑर्किड, सुंदर हैं।
निष्कर्ष:

- (I) कुछ फूल, सुंदर हैं।
(II) सभी सुंदर, फूल हैं।

- Ans**
- 1. केवल निष्कर्ष (II) कथनों के अनुसार है।
 - 2. न तो निष्कर्ष (I) और न ही (II) कथनों के अनुसार है।
 - 3. केवल निष्कर्ष (I) कथनों के अनुसार है।
 - 4. दोनों निष्कर्ष (I) और (II) कथनों के अनुसार हैं।

Question ID : 264330154434

Option 1 ID : 264330605200

Option 2 ID : 264330605201

Option 3 ID : 264330605199

Option 4 ID : 264330605202

Status : Answered

Chosen Option : 3

Q.9 यदि 3 मई 2010 को सोमवार है, तो 16 दिसंबर 2014 को सप्ताह का कौन-सा दिन होगा?

- Ans**
- 1. रविवार
 - 2. शुक्रवार
 - 3. शनिवार
 - 4. मंगलवार

Question ID : 264330154352

Option 1 ID : 264330604873

Option 2 ID : 264330604872

Option 3 ID : 264330604871

Option 4 ID : 264330604874

Status : Answered

Chosen Option : 2

Q.10 एक निश्चित तर्क के अनुसार 5, 19 से संबंधित है। समान तर्क के अनुसार, 8, 31 से संबंधित है। समान तर्क का अनुसरण करते हुए 13 निम्नलिखित में से किससे संबंधित है?

- Ans**
- 1. 52
 - 2. 51
 - 3. 53
 - 4. 50

Question ID : 264330151605

Option 1 ID : 264330594049

Option 2 ID : 264330594048

Option 3 ID : 264330594050

Option 4 ID : 264330594047

Status : Answered

Chosen Option : 2

Q.11 अंग्रेजी वर्णमाला क्रम के आधार पर दी गई श्रृंखला में प्रश्न चिह्न (?) के स्थान पर क्या आना चाहिए?

SDJ, UGL, WJN, YMP, ?

- Ans
- 1. BOR
 - 2. BQS
 - 3. CPS
 - 4. APR

Question ID : 264330155779

Option 1 ID : 264330610521

Option 2 ID : 264330610520

Option 3 ID : 264330610522

Option 4 ID : 264330610519

Status : Answered

Chosen Option : 4

Q.12 अंग्रेजी वर्णमाला क्रम के आधार पर दी गई श्रृंखला में प्रश्न चिह्न (?) के स्थान पर क्या आना चाहिए?

FVZ, GXA, HZB, IBC, ?

- Ans
- 1. IED
 - 2. KDF
 - 3. IEF
 - 4. JDD

Question ID : 264330155767

Option 1 ID : 264330610472

Option 2 ID : 264330610474

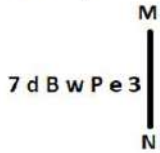
Option 3 ID : 264330610473

Option 4 ID : 264330610471

Status : Answered

Chosen Option : 4

Q.13 दी गई आकृति के उस सही दर्पण प्रतिबिंब को चुनिए, जो नीचे दर्शाए गए अनुसार दर्पण को MN पर रखने पर बनेगा।



- Ans
- 1. 3 e P w B b 7
 - 2. 3 e P w B P 7
 - 3. 3 e P w B b 7
 - 4. 7 q B w P e 3

Question ID : 264330151519

Option 1 ID : 264330593705

Option 2 ID : 264330593706

Option 3 ID : 264330593704

Option 4 ID : 264330593703

Status : Answered

Chosen Option : 1

Q.14 अक्षरों के उस संयोजन को चुनिए जिसे दी गई श्रृंखला के रिक्त स्थानों में क्रमिक रूप से रखने पर श्रृंखला तार्किक रूप से पूरी हो जाएगी।

F_HIFKO_ _RVTFY_TF_JT

- Ans
- 1. UJHNNH
 - 2. DTFCF
 - 3. DHJNF
 - 4. JFJMH

Question ID : 264330156320
Option 1 ID : 264330612682
Option 2 ID : 264330612680
Option 3 ID : 264330612681
Option 4 ID : 264330612679
Status : Answered
Chosen Option : 2

Q.15 दी गई श्रृंखला में प्रश्न चिन्ह '?' के स्थान पर क्या आना चाहिए?

16 31 76 ? 616 1831 5476

- Ans
- 1. 207
 - 2. 201
 - 3. 217
 - 4. 211

Question ID : 264330151446
Option 1 ID : 264330593412
Option 2 ID : 264330593411
Option 3 ID : 264330593414
Option 4 ID : 264330593413
Status : Answered
Chosen Option : 4

Q.16 मनु, राम, गौरव, शिवम, उमेश और वीर एक वृत्ताकार मेज के चारों ओर केंद्र की ओर मुख करके बैठे हैं। मनु, राम के बाईं ओर से दूसरे स्थान पर बैठा है। गौरव, राम के दाईं ओर से तीसरे स्थान पर बैठा है। शिवम, मनु के बाईं ओर से तीसरे स्थान पर बैठा है। उमेश, शिवम के बाईं ओर से दूसरे स्थान पर बैठा है। मनु के बाईं ओर से दूसरे स्थान पर कौन बैठा है?

- Ans
- 1. वीर
 - 2. उमेश
 - 3. राम
 - 4. गौरव

Question ID : 264330155647
Option 1 ID : 264330609992
Option 2 ID : 264330609993
Option 3 ID : 264330609994
Option 4 ID : 264330609991
Status : Answered
Chosen Option : 1

Q.17 यदि निम्नलिखित आकृति श्रृंखला को जारी रखना हो तो कौन-सी आकृति प्रश्न चिन्ह (?) के स्थान पर आनी चाहिए?

B R A I D	R B D A I	I A S B R A I R S B	?
-----------	-----------	---------------------	---

Ans

✓ 1.

B S T I A

✗ 2.

B A I R S

✗ 3.

I R T S A

✗ 4.

S B T A I

Question ID : 264330154767

Option 1 ID : 264330606531

Option 2 ID : 264330606532

Option 3 ID : 264330606534

Option 4 ID : 264330606533

Status : Answered

Chosen Option : 4

Q.18 यदि G का अर्थ -, C का अर्थ ×, D का अर्थ +, E का अर्थ = है, तो निम्नलिखित समीकरण में प्रश्न चिह्न (?) के स्थान पर क्या आएगा?
64 D + G 37 E 12 C 7 = ?

Ans

✗ 1. 71

✗ 2. 36

✗ 3. 89

✓ 4. 63

Question ID : 264330154691

Option 1 ID : 264330606229

Option 2 ID : 264330606227

Option 3 ID : 264330606230

Option 4 ID : 264330606228

Status : Answered

Chosen Option : 4

Q.19 JR 11, KT 16 से एक निश्चित प्रकार से संबंधित है। उसी प्रकार, VM 22, WO 27 से संबंधित है। समान तर्क का अनुसरण करते हुए DS 18 निम्नलिखित में से किससे संबंधित है?

- Ans** 1. CQ 24
 2. EU 23
 3. FT 22
 4. FU 23

Question ID : 264330151678

Option 1 ID : 264330594342

Option 2 ID : 264330594340

Option 3 ID : 264330594341

Option 4 ID : 264330594339

Status : Answered

Chosen Option : 2

Q.20 निम्नलिखित संख्या-युग्मों में, पहली संख्या पर कुछ गणितीय संक्रियाएँ करके दूसरी संख्या प्राप्त की जाती है। उस समुच्चय को चुनिए जिसमें संख्याएँ ठीक उसी प्रकार संबंधित हैं जिस प्रकार निम्नलिखित समुच्चयों की संख्याएँ संबंधित हैं।
(ध्यान दें: संख्याओं को उनके घटक अंकों में अलग-अलग किए बिना, पूर्ण संख्याओं पर संक्रियाएँ की जानी चाहिए। उदा. 13 – संख्या 13 पर संक्रियाएँ जैसे 13 को जोड़ना/घटाना/गुणा करना आदि किया जा सकता है। 13 को 1 और 3 में अलग-अलग करने की ओर फिर 1 और 3 पर गणितीय संक्रियाएँ करने की अनुमति नहीं है।)

12 : 144
13 : 169

- Ans** 1. 9 : 80
 2. 15 : 225
 3. 10 : 90
 4. 14 : 182

Question ID : 264330154647

Option 1 ID : 264330606054

Option 2 ID : 264330606053

Option 3 ID : 264330606051

Option 4 ID : 264330606052

Status : Answered

Chosen Option : 2

Section : General Awareness

Q.1 अर्थव्यवस्था में व्यावसायिक बैंकों (commercial banks) की मुख्य भूमिका क्या है?

- Ans** 1. शेयर बाज़ार को विनियमित करना
 2. विदेशी मुद्रा भंडार का प्रबंधन
 3. आर्थिक वृद्धि और विकास को बढ़ावा देना
 4. महंगाई पर नियंत्रण

Question ID : 264330157307

Option 1 ID : 264330616592

Option 2 ID : 264330616594

Option 3 ID : 264330616593

Option 4 ID : 264330616591

Status : Answered

Chosen Option : 3

Q.2 सुभाष चंद्र बोस के राजनीतिक गुरु कौन थे?

- Ans
- 1. महात्मा गांधी
 - 2. एम. जी. रानाडे
 - 3. जवाहर लाल नेहरू
 - 4. चितरंजन दास

Question ID : 264330162344

Option 1 ID : 264330636703

Option 2 ID : 264330636705

Option 3 ID : 264330636704

Option 4 ID : 264330636706

Status : Marked For Review

Chosen Option : 1

Q.3 लैटेराइट मिट्टी का निर्माण निम्नलिखित में से किस कारण से होता है?

- Ans
- 1. संहनन
 - 2. अवसादन
 - 3. केवल उच्च तापमान
 - 4. निक्षालन

Question ID : 264330161315

Option 1 ID : 264330632589

Option 2 ID : 264330632587

Option 3 ID : 264330632590

Option 4 ID : 264330632588

Status : Answered

Chosen Option : 4

Q.4 मार्च 2023 में, राजस्थान अपने लोगों को ___ का अधिकार प्रदान करने वाला भारत का पहला राज्य बन गया।

- Ans
- 1. आवास
 - 2. स्वास्थ्य
 - 3. शिक्षा
 - 4. दूरसंचार

Question ID : 264330158335

Option 1 ID : 264330620700

Option 2 ID : 264330620701

Option 3 ID : 264330620699

Option 4 ID : 264330620702

Status : Answered

Chosen Option : 2

Q.5 गौर मारिया (Gaur Maria), _____ राज्य की एक नृत्य शैली, आनंद और आह्वान का एक प्रसिद्ध कला शैली है। यह एक समूह नृत्य है और इस नृत्य में पुरुष और महिलाएं दोनों उत्साहपूर्वक भाग लेते हैं।

- Ans
- 1. महाराष्ट्र
 - 2. राजस्थान
 - 3. छत्तीसगढ़
 - 4. गुजरात

Question ID : 264330160794
Option 1 ID : 264330630507
Option 2 ID : 264330630509
Option 3 ID : 264330630510
Option 4 ID : 264330630508
Status : Answered
Chosen Option : 3

Q.6 ऑटोबायोग्राफी ऑफ ए योगी (Autobiography of a Yogi) _____ की आत्मकथा है।

- Ans
- 1. रामकृष्ण परमहंस
 - 2. स्वामी दयानंद सरस्वती
 - 3. स्वामी विवेकानंद
 - 4. परमहंस योगानंद

Question ID : 264330160961
Option 1 ID : 264330631178
Option 2 ID : 264330631176
Option 3 ID : 264330631175
Option 4 ID : 264330631177
Status : Answered
Chosen Option : 4

Q.7 शास्त्रीय नृत्य के राष्ट्रीय पुरस्कार को _____ कहा जाता है।

- Ans
- 1. शास्त्रीय सम्मान
 - 2. अभिनंदन सरोजा पुरस्कार
 - 3. भारतीय पुरस्कार
 - 4. जातीय नृत्य सम्मान

Question ID : 264330160983
Option 1 ID : 264330631263
Option 2 ID : 264330631265
Option 3 ID : 264330631266
Option 4 ID : 264330631264
Status : Answered
Chosen Option : 1

Q.8 किस राज्य में जूट मिलों की अधिकतम संख्या (2022 तक) है?

- Ans
- 1. त्रिपुरा
 - 2. असम
 - 3. उत्तरप्रदेश
 - 4. पश्चिम बंगाल

Question ID : 264330161491
Option 1 ID : 264330633294
Option 2 ID : 264330633293
Option 3 ID : 264330633291
Option 4 ID : 264330633292
Status : Answered
Chosen Option : 4

Q.9 भीतरगांव ईंट मंदिर (Bhitargaon Brick temple) निम्नलिखित में से किस काल की वास्तुकला का एक अच्छा उदाहरण है?

- Ans
- 1. मुगल काल
 - 2. मौर्य काल
 - 3. गुप्त काल
 - 4. चोल काल

Question ID : 264330160782
Option 1 ID : 264330630461
Option 2 ID : 264330630459
Option 3 ID : 264330630460
Option 4 ID : 264330630462
Status : Answered
Chosen Option : 3

Q.10 निम्नलिखित में से भारत का कौन-सा भौगोलिक विभाजन जलोढ़ मृदा से बना है?

- Ans
- 1. उत्तरी मैदान
 - 2. हिमालय पर्वत
 - 3. प्रायद्वीपीय पठार
 - 4. द्वीप

Question ID : 264330161531
Option 1 ID : 264330633451
Option 2 ID : 264330633454
Option 3 ID : 264330633452
Option 4 ID : 264330633453
Status : Answered
Chosen Option : 1

Q.11 झारखंड का पाइका नृत्य (Paika dance) आमतौर पर _____ जनजाति द्वारा विशेष सम्मानित अतिथियों के स्वागत के लिए या धार्मिक जुलूस (शोभा यात्रा) के दौरान किया जाता है।

- Ans
- 1. संथाल (Santhal)
 - 2. ओरांव (Oraon)
 - 3. भूमिज (Bhumij)
 - 4. मुंडा (Munda)

Question ID : 264330160799
Option 1 ID : 264330630527
Option 2 ID : 264330630530
Option 3 ID : 264330630528
Option 4 ID : 264330630529
Status : Answered
Chosen Option : 1

Q.12 पूंजीगत व्यय क्या है?

- Ans
- 1. हेल्थकेयर कार्यक्रमों पर व्यय की गई धनराशि
 - 2. किसानों के लिए सब्सिडी पर व्यय की गई धनराशि
 - 3. ऋण चुकाने पर व्यय की गई धनराशि
 - 4. अवसंरचना (infrastructure) के विकास पर व्यय की गई धनराशि

Question ID : 264330157274
Option 1 ID : 264330616460
Option 2 ID : 264330616462
Option 3 ID : 264330616459
Option 4 ID : 264330616461
Status : Answered
Chosen Option : 4

Q.13 खेलो इंडिया यूनिवर्सिटी गेम्स के तीसरे संस्करण के शुभंकर का नाम क्या है?

- Ans 1. जीतू (Jitu)
 2. मोगा (Moga)
 3. सावज (Savaj)
 4. शेरा (Shera)

Question ID : 264330161133
Option 1 ID : 264330631863
Option 2 ID : 264330631865
Option 3 ID : 264330631866
Option 4 ID : 264330631864
Status : Answered
Chosen Option : 2

Q.14 भारत की जनगणना 2011 के अनुसार, किस राज्य में ऋणात्मक जनसंख्या वृद्धि दर दर्ज की गई?

- Ans 1. अरुणाचल प्रदेश
 2. केरल
 3. सिक्किम
 4. नागालैंड

Question ID : 264330161552
Option 1 ID : 264330633536
Option 2 ID : 264330633535
Option 3 ID : 264330633537
Option 4 ID : 264330633538
Status : Answered
Chosen Option : 3

Q.15 95 वर्षीय भगवानी देवी और 106 वर्षीय रामबाई को उनकी उपलब्धियों के लिए संयुक्त रूप से बीबीसी विशेष ट्रॉफी (BBC special trophy) से सम्मानित किया गया, जहां देवी ने फिनलैंड के टाम्परे (Tampere) में _____ में 100 मीटर स्पिंट में स्वर्ण पदक जीता।

- Ans 1. 2022 विश्व मास्टर्स एथलेटिक्स चैंपियनशिप (2022 World Masters Athletics Championships)
 2. 2022 राष्ट्रीय सीनियर खेल (2022 National Senior Games)
 3. सीनियर स्पोर्ट्स इंटरनेशनल मीट 2022 (Senior Sports International Meet 2022)
 4. हंट्समैन वर्ल्ड सीनियर गेम्स 2022 (Huntsman World Senior Games 2022)

Question ID : 264330161438
Option 1 ID : 264330633081
Option 2 ID : 264330633080
Option 3 ID : 264330633079
Option 4 ID : 264330633082
Status : Answered
Chosen Option : 1

Q.16 दूध, समुद्री भोजन, मेवे और साबुत अनाज में कौन-सा खनिज उच्च मात्रा में होता है जो हड्डियों के स्वास्थ्य और हमारे शरीर की मरम्मत प्रक्रिया में सहायता करता है?

- Ans
- 1. जिंक
 - 2. पोटैशियम
 - 3. फॉस्फोरस
 - 4. फ्लोराइड

Question ID : 264330161074
Option 1 ID : 264330631627
Option 2 ID : 264330631629
Option 3 ID : 264330631628
Option 4 ID : 264330631630
Status : Answered
Chosen Option : 3

Q.17 निम्नलिखित में से कौन-सी कैबिनेट समिति नहीं है?

- Ans
- 1. कैबिनेट की नियुक्ति समिति (Appointment Committee of the Cabinet)
 - 2. निवेश और विकास संबंधी समिति (Committee on Investment and Growth)
 - 3. मंत्रियों के बीच विवाद पर समिति (Committee on Conflicts among Ministers)
 - 4. राजनीतिक मामलों की समिति (Committee on Political Affairs)

Question ID : 264330160862
Option 1 ID : 264330630780
Option 2 ID : 264330630781
Option 3 ID : 264330630782
Option 4 ID : 264330630779
Status : Answered
Chosen Option : 2

Q.18 भारतीय संविधान का कौन-सा अनुच्छेद सभी श्रमिकों के लिए जीवनयापन योग्य वेतन और सामाजिक और सांस्कृतिक अवसरों के साथ एक सभ्य जीवन स्तर सुरक्षित करता है?

- Ans
- 1. अनुच्छेद 41
 - 2. अनुच्छेद 40
 - 3. अनुच्छेद 43
 - 4. अनुच्छेद 39

Question ID : 264330161398
Option 1 ID : 264330632921
Option 2 ID : 264330632920
Option 3 ID : 264330632922
Option 4 ID : 264330632919
Status : Answered
Chosen Option : 3

Q.19 शिक्षा और संस्कृति को बढ़ावा देने के लिए भारतीय विद्या भवन की स्थापना किसने की?

- Ans
- 1. गोपाल कृष्ण गोखले
 - 2. डॉ. आत्माराम पांडुरंग
 - 3. डॉ. कन्हैयालाल मानेकलाल मुंशी
 - 4. डॉ. बाबासाहेब अम्बेडकर

Question ID : 264330160882
Option 1 ID : 264330630859
Option 2 ID : 264330630860
Option 3 ID : 264330630861
Option 4 ID : 264330630862
Status : Answered
Chosen Option : 4

Q.20 ऑस्कर पुरस्कार (2023) विजेता गीत 'नाटू नाटू' के संगीत निर्देशक कौन हैं?

- Ans
- ✓ 1. एम.एम. कीरावनी
 - ✗ 2. ए.आर. रहमान
 - ✗ 3. उत्तम सिंह
 - ✗ 4. अनु मलिक

Question ID : 264330155504
Option 1 ID : 264330609422
Option 2 ID : 264330609421
Option 3 ID : 264330609419
Option 4 ID : 264330609420
Status : Answered
Chosen Option : 1

Q.21 _____ को जन्मे मोहनदास करमचंद गांधी, जिनका जन्मदिन गांधी जयंती के रूप में मनाया जाता है, ने अंग्रेजों के खिलाफ भारत के अहिंसा आंदोलन का सफलतापूर्वक नेतृत्व किया।

- Ans
- ✓ 1. 2 अक्टूबर 1869
 - ✗ 2. 2 अक्टूबर 1870
 - ✗ 3. 2 अक्टूबर 1867
 - ✗ 4. 2 अक्टूबर 1868

Question ID : 264330160856
Option 1 ID : 264330630757
Option 2 ID : 264330630758
Option 3 ID : 264330630755
Option 4 ID : 264330630756
Status : Answered
Chosen Option : 1

Q.22 टी.एन. राजरत्नम पिल्लई (TN Rajarathnam Pillai) निम्नलिखित में से कौन-से संगीत वाद्ययंत्र के वादक हैं?

- Ans
- ✗ 1. सारंगी
 - ✗ 2. शहनाई
 - ✗ 3. घटम
 - ✓ 4. नादस्वरम

Question ID : 264330155466
Option 1 ID : 264330609267
Option 2 ID : 264330609270
Option 3 ID : 264330609269
Option 4 ID : 264330609268
Status : Answered
Chosen Option : 3

Q.23 'माई कंट्री माई लाइफ' (My Country My Life) _____ की आत्मकथा है।

- Ans
- 1. अमित शाह
 - 2. एल. के. आडवाणी
 - 3. जसवंत सिंह
 - 4. राजनाथ सिंह

Question ID : 264330155492
Option 1 ID : 264330609371
Option 2 ID : 264330609374
Option 3 ID : 264330609373
Option 4 ID : 264330609372
Status : Answered
Chosen Option : 2

Q.24 India topped the medals table in the ISSF Junior World Cup 2023. Where was this competition held?

- Ans
- 1. Italy
 - 2. Australia
 - 3. Azerbaijan
 - 4. Germany

Question ID : 264330161145
Option 1 ID : 264330631911
Option 2 ID : 264330631912
Option 3 ID : 264330631913
Option 4 ID : 264330631914
Status : Answered
Chosen Option : 3

Q.25 निम्नलिखित में से कौन-सा एक सफेद और पीले रंग का ठोस (white to yellowish solid) है जिसमें हल्की सुगंधित गंध होती है जिसे ऊर्ध्वपातन की प्रक्रिया द्वारा शुद्ध किया जाता है?

- Ans
- 1. डिस्प्रोसियम (Dysprosium)
 - 2. अर्थोवैन्डेट (Orthovanadate)
 - 3. ऐन्थ्रासीन (Anthracene)
 - 4. टाइटेनिल (Titanyl)

Question ID : 264330161056
Option 1 ID : 264330631556
Option 2 ID : 264330631558
Option 3 ID : 264330631555
Option 4 ID : 264330631557
Status : Not Answered
Chosen Option : --

Q.1 Select the most appropriate meaning of the underlined idiom.
The shopkeeper was sly as a fox and tried to sell off the old stock.

- Ans
- 1. slow
 - 2. in confusion or disagreement
 - 3. suspicious
 - 4. smart and clever

Question ID : 264330153643
Option 1 ID : 264330602044
Option 2 ID : 264330602045
Option 3 ID : 264330602046
Option 4 ID : 264330602043
Status : Answered
Chosen Option : 4

Q.2 The following sentence has been split into four segments. Identify the segment that contains a spelling error.

Several days later, / he received a written / comeunication from the magistrate / that the case has been dropped.

- Ans
- 1. comeunication from the magistrate
 - 2. that the case has been dropped
 - 3. he received a written
 - 4. Several days later,

Question ID : 264330152983
Option 1 ID : 264330599505
Option 2 ID : 264330599506
Option 3 ID : 264330599504
Option 4 ID : 264330599503
Status : Answered
Chosen Option : 1

Q.3 Select the most appropriate ANTONYM of the given word.
Humility

- Ans
- 1. Timidity
 - 2. Shyness
 - 3. Obedience
 - 4. Arrogance

Question ID : 264330152776
Option 1 ID : 264330598698
Option 2 ID : 264330598696
Option 3 ID : 264330598697
Option 4 ID : 264330598695
Status : Answered
Chosen Option : 4

Q.4 Select the most appropriate meaning of the underlined idiom.
After years of rivalry, the two families decided to bury the hatchet.

- Ans** 1. To end a quarrel and become friendly
 2. To end a quarrel by never talking to each other
 3. To start a new quarrel
 4. To continue an old quarrel

Question ID : 264330153411
Option 1 ID : 264330601182
Option 2 ID : 264330601180
Option 3 ID : 264330601179
Option 4 ID : 264330601181
Status : Answered
Chosen Option : 1

Q.5 Select the most appropriate meaning of the given idiom.
Day and night

- Ans** 1. Diligently
 2. Adversely
 3. Clumsily
 4. Continuously

Question ID : 264330151828
Option 1 ID : 264330594940
Option 2 ID : 264330594941
Option 3 ID : 264330594942
Option 4 ID : 264330594939
Status : Answered
Chosen Option : 2

Q.6 The following sentence has been split into four segments. Identify the segment that contains an error.
They had been dancing / for an hour / when our dance teacher / had arrived.

- Ans** 1. when our dance teacher
 2. for an hour
 3. They had been dancing
 4. had arrived

Question ID : 264330143055
Option 1 ID : 264330560497
Option 2 ID : 264330560496
Option 3 ID : 264330560495
Option 4 ID : 264330560498
Status : Answered
Chosen Option : 3

Q.7 Parts of the following sentence have been given as options. Select the option that contains an error.
They will start their journey after the breakfast.

- Ans
- 1. their journey
 - 2. They
 - 3. will start
 - 4. after the breakfast

Question ID : 264330152793
Option 1 ID : 264330598765
Option 2 ID : 264330598763
Option 3 ID : 264330598764
Option 4 ID : 264330598766
Status : Answered
Chosen Option : 3

Q.8 Select the most appropriate option to fill in the blank.
Bhanu, the security guard, asks everyone entering my building to show their _____ card.

- Ans
- 1. identity
 - 2. place
 - 3. name
 - 4. self

Question ID : 264330152582
Option 1 ID : 264330597932
Option 2 ID : 264330597933
Option 3 ID : 264330597931
Option 4 ID : 264330597934
Status : Answered
Chosen Option : 1

Q.9 Select the most appropriate option that can substitute the underlined segment in the given sentence.

No sooner did he finished his examination than he left for his cricket training centre.

- Ans
- 1. no sooner had he finish
 - 2. no sooner than he finished
 - 3. no sooner did he finish
 - 4. no sooner than he did finished

Question ID : 264330153505
Option 1 ID : 264330601531
Option 2 ID : 264330601533
Option 3 ID : 264330601534
Option 4 ID : 264330601532
Status : Answered
Chosen Option : 3

Q.10 Select the option that can be used as a one-word substitute for the underlined group of words.

He simply continued to say something in order to convey information in a calm voice.

- Ans
- 1. teach
 - 2. dictate
 - 3. speak
 - 4. spell

Question ID : 264330152706
Option 1 ID : 264330598426
Option 2 ID : 264330598424
Option 3 ID : 264330598423
Option 4 ID : 264330598425
Status : Answered
Chosen Option : 2

Q.11 Select the correctly spelt word.

- Ans
- 1. Previnsion
 - 2. Prevention
 - 3. Prevenseon
 - 4. Prevension

Question ID : 264330153086
Option 1 ID : 264330599908
Option 2 ID : 264330599910
Option 3 ID : 264330599909
Option 4 ID : 264330599907
Status : Answered
Chosen Option : 2

Q.12 Select the most appropriate ANTONYM of the given word.
Humane

- Ans
- 1. Cruel
 - 2. Kind
 - 3. Proud
 - 4. Imperfect

Question ID : 264330152741
Option 1 ID : 264330598564
Option 2 ID : 264330598563
Option 3 ID : 264330598565
Option 4 ID : 264330598566
Status : Answered
Chosen Option : 1

Q.13 The following sentence has been split into four segments. Identify the segment that contains a grammatical error.

Mohan is respected / by everyone / because he works / hardly.

Ans 1. hardly

2. because he works

3. Mohan is respected

4. by everyone

Question ID : 264330153181

Option 1 ID : 264330600286

Option 2 ID : 264330600285

Option 3 ID : 264330600283

Option 4 ID : 264330600284

Status : Answered

Chosen Option : 1

Q.14 Select the option that can be used as a one-word substitute for the given group of words.

A man whose wife is dead

Ans 1. Widow

2. Bachelor

3. Ascetic

4. Widower

Question ID : 264330152735

Option 1 ID : 264330598539

Option 2 ID : 264330598542

Option 3 ID : 264330598541

Option 4 ID : 264330598540

Status : Answered

Chosen Option : 4

Q.15 Select the most appropriate idiom to fill in the blank.

Jane, please don't tell me fairy tales; I just want to know the real matter _____.

Ans 1. in a fortnight

2. in a nutshell

3. in the cold

4. in the long run

Question ID : 264330153098

Option 1 ID : 264330599956

Option 2 ID : 264330599955

Option 3 ID : 264330599957

Option 4 ID : 264330599958

Status : Answered

Chosen Option : 2

Q.16 The following sentence has been split into four segments. Identify the segment that contains an error.

Did / her friend / went to / school yesterday?

- Ans
- 1. school yesterday
 - 2. Did
 - 3. her friend
 - 4. went to

Question ID : 264330155318

Option 1 ID : 264330608714

Option 2 ID : 264330608711

Option 3 ID : 264330608712

Option 4 ID : 264330608713

Status : Answered

Chosen Option : 3

Q.17 Parts of the given sentence have been underlined. One of them contains an error. The underlined parts are given as options with some changes. Select the option that correctly rectifies the error.

He is good at playing the guitar than his brother.

- Ans
- 1. to
 - 2. in playing
 - 3. guitar
 - 4. is better

Question ID : 264330153172

Option 1 ID : 264330600250

Option 2 ID : 264330600248

Option 3 ID : 264330600249

Option 4 ID : 264330600247

Status : Answered

Chosen Option : 4

Q.18 Select the INCORRECTLY spelt word.

- Ans
- 1. Wholeness
 - 2. Legandry
 - 3. Overwhelming
 - 4. Inclusive

Question ID : 264330152782

Option 1 ID : 264330598722

Option 2 ID : 264330598721

Option 3 ID : 264330598719

Option 4 ID : 264330598720

Status : Answered

Chosen Option : 2

Q.19 Select the most appropriate ANTONYM of the word given in brackets to fill in the blank.

The company is looking for some _____ (idle) workers who can join the organisation immediately.

- Ans
- 1. sober
 - 2. coy
 - 3. callous
 - 4. diligent

Question ID : 264330152694

Option 1 ID : 264330598382

Option 2 ID : 264330598380

Option 3 ID : 264330598379

Option 4 ID : 264330598381

Status : Answered

Chosen Option : 4

Q.20 Select the most appropriate option that can substitute the underlined segment in the given sentence.

The Delhi administration is seriously worried about the warning to civic health posed by the polluted waters of Yamuna.

- Ans
- 1. the notice to civic health
 - 2. a peril to civic health
 - 3. the plague to civic health
 - 4. the threat to civic health

Question ID : 264330151810

Option 1 ID : 264330594870

Option 2 ID : 264330594868

Option 3 ID : 264330594869

Option 4 ID : 264330594867

Status : Answered

Chosen Option : 4

Comprehension:

In the following passage, some words have been deleted. Read the passage carefully and select the most appropriate option to fill in each blank.

Effective communication is about more than just exchanging information. It's about understanding the emotion and intentions (1)_____ the information. As well as being able to clearly convey a message, you need to also (2)_____ in a way that gains the full meaning of what's being said and makes the other person feel heard and understood. For many of us, communicating more clearly and effectively requires learning some (3)_____ skills. Whether you're trying to improve communication with your spouse, kids, boss, or coworkers, learning these skills can (4)_____ your connections to others, build greater trust and respect, and (5)_____ teamwork, problem solving, and your overall social and emotional health.

SubQuestion No : 21

Q.21 Select the most appropriate option to fill in blank number 1.

- Ans
- 1. in front of
 - 2. above
 - 3. below
 - 4. behind

Question ID : 264330153016

Option 1 ID : 264330599634

Option 2 ID : 264330599631

Option 3 ID : 264330599633

Option 4 ID : 264330599632

Status : Answered

Chosen Option : 4

Comprehension:

In the following passage, some words have been deleted. Read the passage carefully and select the most appropriate option to fill in each blank.

Effective communication is about more than just exchanging information. It's about understanding the emotion and intentions (1)_____ the information. As well as being able to clearly convey a message, you need to also (2)_____ in a way that gains the full meaning of what's being said and makes the other person feel heard and understood. For many of us, communicating more clearly and effectively requires learning some (3)_____ skills. Whether you're trying to improve communication with your spouse, kids, boss, or coworkers, learning these skills can (4)_____ your connections to others, build greater trust and respect, and (5)_____ teamwork, problem solving, and your overall social and emotional health.

SubQuestion No : 22

Q.22 Select the most appropriate option to fill in blank number 2.

- Ans 1. think
 2. talk
 3. speak
 4. listen

Question ID : 264330153017

Option 1 ID : 264330599638

Option 2 ID : 264330599637

Option 3 ID : 264330599636

Option 4 ID : 264330599635

Status : Answered

Chosen Option : 4

Comprehension:

In the following passage, some words have been deleted. Read the passage carefully and select the most appropriate option to fill in each blank.

Effective communication is about more than just exchanging information. It's about understanding the emotion and intentions (1)_____ the information. As well as being able to clearly convey a message, you need to also (2)_____ in a way that gains the full meaning of what's being said and makes the other person feel heard and understood. For many of us, communicating more clearly and effectively requires learning some (3)_____ skills. Whether you're trying to improve communication with your spouse, kids, boss, or coworkers, learning these skills can (4)_____ your connections to others, build greater trust and respect, and (5)_____ teamwork, problem solving, and your overall social and emotional health.

SubQuestion No : 23

Q.23 Select the most appropriate option to fill in blank number 3.

- Ans 1. boring
 2. wasteful
 3. trivial
 4. important

Question ID : 264330153018

Option 1 ID : 264330599639

Option 2 ID : 264330599641

Option 3 ID : 264330599642

Option 4 ID : 264330599640

Status : Answered

Chosen Option : 4

Comprehension:

In the following passage, some words have been deleted. Read the passage carefully and select the most appropriate option to fill in each blank.

Effective communication is about more than just exchanging information. It's about understanding the emotion and intentions (1)_____ the information. As well as being able to clearly convey a message, you need to also (2)_____ in a way that gains the full meaning of what's being said and makes the other person feel heard and understood. For many of us, communicating more clearly and effectively requires learning some (3)_____ skills. Whether you're trying to improve communication with your spouse, kids, boss, or coworkers, learning these skills can (4)_____ your connections to others, build greater trust and respect, and (5)_____ teamwork, problem solving, and your overall social and emotional health.

SubQuestion No : 24

Q.24 Select the most appropriate option to fill in blank number 4.

- Ans 1. hamper
 2. trivialise
 3. disturb
 4. deepen

Question ID : 264330153019

Option 1 ID : 264330599645

Option 2 ID : 264330599643

Option 3 ID : 264330599644

Option 4 ID : 264330599646

Status : Answered

Chosen Option : 4

Comprehension:

In the following passage, some words have been deleted. Read the passage carefully and select the most appropriate option to fill in each blank.

Effective communication is about more than just exchanging information. It's about understanding the emotion and intentions (1)_____ the information. As well as being able to clearly convey a message, you need to also (2)_____ in a way that gains the full meaning of what's being said and makes the other person feel heard and understood. For many of us, communicating more clearly and effectively requires learning some (3)_____ skills. Whether you're trying to improve communication with your spouse, kids, boss, or coworkers, learning these skills can (4)_____ your connections to others, build greater trust and respect, and (5)_____ teamwork, problem solving, and your overall social and emotional health.

SubQuestion No : 25

Q.25 Select the most appropriate option to fill in blank number 5.

- Ans 1. hasten
 2. improve
 3. hamper
 4. disturb

Question ID : 264330153020

Option 1 ID : 264330599649

Option 2 ID : 264330599647

Option 3 ID : 264330599648

Option 4 ID : 264330599650

Status : Answered

Chosen Option : 2