

Multi Tasking Non Technical Staff and Havaladar CBIC and CBN Examination 2023

Roll Number	
Candidate Name	
Venue Name	
Exam Date	05/09/2023
Exam Time	4:00 PM - 6:00 PM
Subject	MTS Non Tech Havaladar CBIC and CBN Examination 2023

Section : Numerical and Mathematical Ability

Q.1 66,000 रुपए को आशा, भूपिंदर और गार्गी के बीच इस प्रकार बांटा जाना है कि उनके हिस्सों का अनुपात निम्न अनुसार हो - आशा: भूपिंदर = 9: 5 और भूपिंदर: गार्गी = 2: 1, आशा को कितने रुपए मिलने चाहिए?

- Ans** 1. ₹36,000
 2. ₹38,000
 3. ₹34,000
 4. ₹32,000

Question ID : 264330154124

Option 1 ID : 264330603961

Option 2 ID : 264330603962

Option 3 ID : 264330603960

Option 4 ID : 264330603959

Status : Answered

Chosen Option : 1

Q.2 एक एथलीट 10 मिनट में 3000 m की दूरी पार करता है। उसकी चाल (km/h में) क्या है?

- Ans** 1. 14
 2. 16
 3. 12
 4. 18

Question ID : 264330156231

Option 1 ID : 264330612324

Option 2 ID : 264330612325

Option 3 ID : 264330612323

Option 4 ID : 264330612326

Status : Answered

Chosen Option : 4

Q.3 ₹18,000 की धनराशि अर्धवार्षिक रूप से संयोजित 20% की वार्षिक दर से कितने वर्षों में ₹23,958 हो जाएगी?

- Ans
- 1. $1\frac{1}{4}$
 - 2. $2\frac{1}{2}$
 - 3. $3\frac{1}{2}$
 - 4. $1\frac{1}{2}$

Question ID : 264330154089

Option 1 ID : 264330603822

Option 2 ID : 264330603819

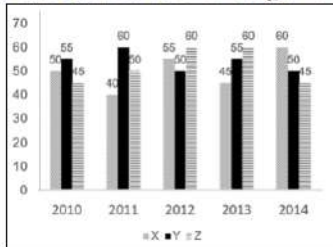
Option 3 ID : 264330603821

Option 4 ID : 264330603820

Status : Answered

Chosen Option : 4

Q.4 निम्न आलेख में कुछ वर्षों में तीन अलग-अलग कंपनियों X, Y और Z द्वारा टायरों के उत्पादन (लाखों में) को दर्शाया गया है।
निर्देश: निम्नलिखित आलेख का ध्यानपूर्वक अध्ययन कीजिए और नीचे दिए गए प्रश्न का उत्तर दीजिए।



2011 से 2012 तक कंपनी X के उत्पादन में कितने प्रतिशत की वृद्धि हुई है?

- Ans
- 1. 37.5%
 - 2. 35%
 - 3. 32.5%
 - 4. 38.25%

Question ID : 264330153889

Option 1 ID : 264330603021

Option 2 ID : 264330603020

Option 3 ID : 264330603022

Option 4 ID : 264330603019

Status : Answered

Chosen Option : 1

Q.5 तीन संख्याएँ 3 : 5 : 7 के अनुपात में हैं। यदि उनका लघुतम समापवर्त्य 2625 है, तो उनका महत्तम समापवर्तक ज्ञात कीजिए।

- Ans
- 1. 100
 - 2. 50
 - 3. 125
 - 4. 25

Question ID : 264330155986

Option 1 ID : 264330611345

Option 2 ID : 264330611343

Option 3 ID : 264330611346

Option 4 ID : 264330611344

Status : Answered

Chosen Option : 4

Q.6 रश्मि और टीना किसी काम को क्रमशः 20 दिन और 30 दिन में पूरा कर सकती हैं। यदि वे बारी-बारी से एक दिन छोड़कर काम करती हैं और रश्मि पहले दिन काम शुरू करती है, तो काम कितने दिनों में पूरा हो जाएगा?

- Ans** ✓ 1. 24
✗ 2. 26
✗ 3. 12
✗ 4. 28

Question ID : 264330156119
Option 1 ID : 264330611876
Option 2 ID : 264330611877
Option 3 ID : 264330611875
Option 4 ID : 264330611878
Status : Answered
Chosen Option : 1

Q.7 एक ठेकेदार भुगतान की राशि में परिवर्तन किए बिना अपने श्रमिकों के लिए एक सप्ताह (सोमवार से शनिवार) के कार्य के समय को 48 घंटे से घटाकर 36 घंटे कर देता है। प्रति घंटा भुगतान की राशि में प्रतिशत वृद्धि क्या है?

- Ans** ✗ 1. $30\frac{1}{3}\%$
✓ 2. $33\frac{1}{3}\%$
✗ 3. $67\frac{2}{3}\%$
✗ 4. $70\frac{2}{3}\%$

Question ID : 264330156473
Option 1 ID : 264330613281
Option 2 ID : 264330613279
Option 3 ID : 264330613280
Option 4 ID : 264330613282
Status : Answered
Chosen Option : 2

Q.8 दो संख्याओं का औसत 48 है। यदि छोटी संख्या में 3 जोड़ दिया जाए, तो उनके बीच का अनुपात 11 : 20 हो जाता है। बड़ी संख्या ज्ञात कीजिए। (दशमलव के दो स्थानों तक सन्निकटित)।

- Ans** ✓ 1. 63.87
✗ 2. 3.87
✗ 3. 70.87
✗ 4. 40.87

Question ID : 264330156343
Option 1 ID : 264330612772
Option 2 ID : 264330612773
Option 3 ID : 264330612774
Option 4 ID : 264330612771
Status : Answered
Chosen Option : 1

Q.9 ज़िनत एक निवेश पर 20% लाभ अर्जित करती है, लेकिन दूसरे निवेश पर उसे 10% की हानि होती है। यदि दोनों निवेश क्रमशः 3 : 5 के अनुपात में हैं, तो दोनों निवेशों को मिलाकर ज़िनत का लाभ या हानि प्रतिशत कितना है?

- Ans**
- 1. 1.25% हानि
 - 2. 2.25% लाभ
 - 3. 2.25% हानि
 - 4. 1.25% लाभ

Question ID : 264330155705
Option 1 ID : 264330610223
Option 2 ID : 264330610226
Option 3 ID : 264330610225
Option 4 ID : 264330610224
Status : Answered
Chosen Option : 4

Q.10 28, 21, 39, 33, 36, 23 का समांतर माध्य ज्ञात कीजिए।

- Ans**
- 1. 32
 - 2. 26
 - 3. 30
 - 4. 28

Question ID : 264330155953
Option 1 ID : 264330611213
Option 2 ID : 264330611214
Option 3 ID : 264330611211
Option 4 ID : 264330611212
Status : Answered
Chosen Option : 3

Q.11 लोगों के एक समूह में, 70% पुरुष हैं और 30% महिलाएं हैं। पुरुषों की औसत आयु 50 वर्ष और महिलाओं की औसत आयु 40 वर्ष है। समूह के सभी सदस्यों की औसत आयु (वर्षों में) ज्ञात कीजिए।

- Ans**
- 1. 48
 - 2. 46
 - 3. 47
 - 4. 45

Question ID : 264330153835
Option 1 ID : 264330602804
Option 2 ID : 264330602803
Option 3 ID : 264330602805
Option 4 ID : 264330602806
Status : Answered
Chosen Option : 3

Q.12 एक समबाहु त्रिभुज की माधिका की लंबाई $6\sqrt{3}$ cm है। इस त्रिभुज का क्षेत्रफल क्या है?

- Ans
- 1. 72 cm^2
 - 2. 36 cm^2
 - 3. $72\sqrt{3} \text{ cm}^2$
 - 4. $36\sqrt{3} \text{ cm}^2$

Question ID : 264330156500

Option 1 ID : 264330613390

Option 2 ID : 264330613388

Option 3 ID : 264330613387

Option 4 ID : 264330613389

Status : Answered

Chosen Option : 4

Q.13 एक धनराशि वार्षिक साधारण ब्याज की दर पर 16 वर्षों में सात गुना हो जाती है। वार्षिक ब्याज की दर ज्ञात कीजिए।

- Ans
- 1. 39.2%
 - 2. 25.8%
 - 3. 37.5%
 - 4. 20.3%

Question ID : 264330155746

Option 1 ID : 264330610390

Option 2 ID : 264330610388

Option 3 ID : 264330610389

Option 4 ID : 264330610387

Status : Answered

Chosen Option : 3

Q.14 सरल कीजिए। $\frac{1}{3} \div \frac{1}{3} \times \frac{1}{3} = ?$
 $\frac{1}{3} + \frac{1}{3} - \frac{1}{3} = ?$

- Ans
- 1. 1
 - 2. $\frac{1}{3}$
 - 3. 3
 - 4. $\frac{1}{9}$

Question ID : 264330154040

Option 1 ID : 264330603624

Option 2 ID : 264330603623

Option 3 ID : 264330603625

Option 4 ID : 264330603626

Status : Answered

Chosen Option : 1

Q.15 एक तैराक 4 घंटे में बिंदु A से बिंदु B तक धारा के अनुकूल तैरता है। वह धारा के प्रतिकूल उतनी ही दूरी 5 घंटे में तय करता है। यदि धारा की चाल 2 km/h है, तो A और B के बीच की दूरी कितनी है?

- Ans**
- 1. 60 km
 - 2. 72 km
 - 3. 80 km
 - 4. 100 km

Question ID : 264330154058

Option 1 ID : 264330603695

Option 2 ID : 264330603698

Option 3 ID : 264330603697

Option 4 ID : 264330603696

Status : Answered

Chosen Option : 3

Q.16 नीचे दी गई तालिका में एक परीक्षा में छात्रों A, B और C द्वारा फ्रेंच और भूगोल में प्राप्त किए गए अंकों को दर्शाया गया है। प्रत्येक विषय के लिए अधिकतम अंक 100 हैं। तालिका का ध्यानपूर्वक अध्ययन कीजिए और निम्नलिखित प्रश्न का उत्तर दीजिए।

छात्र	फ्रेंच	भूगोल
A	98	100
B	89	98
C	92	99

तीनों छात्रों के भूगोल में औसत अंकों और फ्रेंच में औसत अंकों का अनुपात कितना है?

- Ans**
- 1. 32 : 28
 - 2. 28 : 32
 - 3. 33 : 31
 - 4. 31 : 33

Question ID : 264330156497

Option 1 ID : 264330613375

Option 2 ID : 264330613376

Option 3 ID : 264330613377

Option 4 ID : 264330613378

Status : Answered

Chosen Option : 3

Q.17 एक रेलगाड़ी अपनी यात्रा के पहले दो घंटों में 72 km/h की चाल से और अगले 1.5 घंटों में 120 km की चाल से एक निश्चित दूरी तय करती है। पूरी यात्रा के लिए इसकी औसत चाल (km/h में, निकटतम पूर्णांक तक सन्निकटित) क्या है?

- Ans**
- 1. 79
 - 2. 78
 - 3. 75
 - 4. 73

Question ID : 264330156471

Option 1 ID : 264330613271

Option 2 ID : 264330613272

Option 3 ID : 264330613274

Option 4 ID : 264330613273

Status : Answered

Chosen Option : 3

Q.18 एक लम्बवृत्तीय बेलन के आधार का व्यास 36 cm है और इसकी ऊंचाई 21 cm है। बेलन का आयतन ज्ञात कीजिए। ($\pi = \frac{22}{7}$ का प्रयोग कीजिए)

- Ans**
- 1. 5346 cm³
 - 2. 2376 cm³
 - 3. 85536 cm³
 - 4. 21384 cm³

Question ID : 264330156437
Option 1 ID : 264330613140
Option 2 ID : 264330613141
Option 3 ID : 264330613139
Option 4 ID : 264330613142
Status : Answered
Chosen Option : 4

Q.19 8 वस्तुओं को बेचने पर एक दुकानदार को 2 वस्तुओं के विक्रय मूल्य के बराबर का लाभ होता है। दुकानदार का लाभ प्रतिशत कितना है?

- Ans**
- 1. $16\frac{2}{3}\%$
 - 2. $33\frac{1}{3}\%$
 - 3. 25%
 - 4. 30%

Question ID : 264330161981
Option 1 ID : 264330635253
Option 2 ID : 264330635252
Option 3 ID : 264330635254
Option 4 ID : 264330635251
Status : Answered
Chosen Option : 2

Q.20 एक आदमी और एक लड़का एक काम को 12 दिनों में कर सकते हैं। यदि आदमी अकेले अंतिम 3 दिन काम करता है, तो यह 13 दिनों में पूरा होता है। लड़का इसे अकेले करने में कितना समय लेगा?

- Ans**
- 1. 36 दिन
 - 2. 72 दिन
 - 3. 18 दिन
 - 4. 30 दिन

Question ID : 264330156194
Option 1 ID : 264330612176
Option 2 ID : 264330612175
Option 3 ID : 264330612178
Option 4 ID : 264330612177
Status : Not Answered
Chosen Option : --

Q.1 एक निश्चित कूट भाषा में, 'CHEW' को '39' लिखा जाता है और 'FORE' को '44' लिखा जाता है। उस कूट भाषा में 'GLIT' को कैसे लिखा जाएगा?

- Ans**
- 1. 52
 - 2. 48
 - 3. 51
 - 4. 50

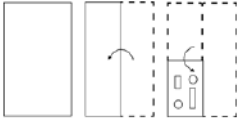
Question ID : 264330155834
Option 1 ID : 264330610742
Option 2 ID : 264330610740
Option 3 ID : 264330610741
Option 4 ID : 264330610739
Status : Answered
Chosen Option : 2

Q.2 छः व्यक्ति C, D, E, F, G और H एक सीधी पंक्ति में उत्तर की ओर मुख करके बैठे हैं। केवल तीन व्यक्ति G के दाईं ओर बैठे हैं। केवल दो व्यक्ति G और E के बीच में बैठे हैं। C, F के ठीक दाईं ओर और G के ठीक बाईं ओर बैठा है। H, E का निकटतम पड़ोसी नहीं है। G और E के बीच में कौन-कौन बैठा है?

- Ans**
- 1. H और E
 - 2. F और C
 - 3. C और D
 - 4. H और D

Question ID : 264330155544
Option 1 ID : 264330609581
Option 2 ID : 264330609579
Option 3 ID : 264330609582
Option 4 ID : 264330609580
Status : Answered
Chosen Option : 4

Q.3 निम्नलिखित आकृतियों में एक कागज़ के टुकड़े को मोड़ने के क्रम और मुड़े हुए कागज़ को काटने के तरीके को दर्शाया गया है। खोलने पर यह कागज़ कैसा दिखाई देगा?

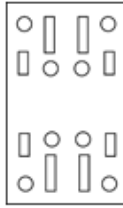


Ans

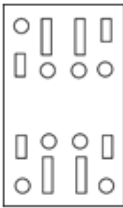
✗ 1.



✓ 2.



✗ 3.



✗ 4.



Question ID : 264330155608

Option 1 ID : 264330609835

Option 2 ID : 264330609837

Option 3 ID : 264330609836

Option 4 ID : 264330609838

Status : Answered

Chosen Option : 2

Q.4 यदि '+' और '-' को आपस में बदल दिया जाए तथा 'x' और '÷' को आपस में बदल दिया जाए तो निम्नलिखित समीकरण में (?) के स्थान पर क्या आएगा?

$$93 \div 5 + 4 - 45 \times 5 = ?$$

Ans ✗ 1. 495

✓ 2. 470

✗ 3. 490

✗ 4. 480

Question ID : 264330154613

Option 1 ID : 264330605918

Option 2 ID : 264330605915

Option 3 ID : 264330605917

Option 4 ID : 264330605916

Status : Answered

Chosen Option : 2

Q.5 उस शब्द-युग्म का चयन कीजिए जो नीचे दिए गए शब्दों के युग्म में व्यक्त किए गए समान संबंध का सबसे अच्छा निरूपण करता है।

(शब्दों को अर्थपूर्ण हिंदी शब्दों के रूप में माना जाना चाहिए और उन्हें शब्द में अक्षरों की संख्या/व्यंजन/स्वरों की संख्या के आधार पर एक दूसरे से संबंधित नहीं किया जाना चाहिए।)

हकलाना : बातचीत

Ans

- ✓ 1. दृष्टिवैषम्य : दृष्टि
- ✗ 2. नोवोकेन : स्पर्श
- ✗ 3. शोर मचाना : सुनना
- ✗ 4. सुगंध : महक

Question ID : 264330154634

Option 1 ID : 264330606001

Option 2 ID : 264330606002

Option 3 ID : 264330605999

Option 4 ID : 264330606000

Status : Answered

Chosen Option : 1

Q.6 दी गई श्रृंखला में प्रश्न चिन्ह '?' के स्थान पर क्या आना चाहिए?

22 24 28 36 52 ?

Ans

- ✗ 1. 72
- ✗ 2. 88
- ✓ 3. 84
- ✗ 4. 90

Question ID : 264330151453

Option 1 ID : 264330593439

Option 2 ID : 264330593441

Option 3 ID : 264330593440

Option 4 ID : 264330593442

Status : Answered

Chosen Option : 3

Q.7 नीचे दिए गए कथनों और निष्कर्षों को ध्यानपूर्वक पढ़िए। आपको मानना है कि दिए गए कथन सत्य हैं चाहे वे समान्यतः ज्ञात तथ्यों से अलग प्रतीत होते हों। आपको निश्चय करना है कि कौन-सा/कौन-से निष्कर्ष तार्किक रूप से दिए गए कथनों के अनुसार है/हैं।

कथन: कुछ सोफे, चायदानी हैं। सभी चायदानी, प्रिटर हैं। कुछ प्रिटर, फूलदान हैं।

निष्कर्ष I: कुछ चायदानी, सोफे हैं।

निष्कर्ष II: कुछ फूलदान, प्रिटर हैं।

- Ans**
- 1. न तो निष्कर्ष (I) और न ही (II) कथनों के अनुसार है।
 - 2. केवल निष्कर्ष (II) कथनों के अनुसार है।
 - 3. दोनों निष्कर्ष (I) और (II) कथनों के अनुसार हैं।
 - 4. केवल निष्कर्ष (I) कथनों के अनुसार है।

Question ID : 264330155903

Option 1 ID : 264330611017

Option 2 ID : 264330611016

Option 3 ID : 264330611018

Option 4 ID : 264330611015

Status : Answered

Chosen Option : 3

Q.8 अक्षरों के उस संयोजन को चुनिए जिसे दी गई श्रृंखला के रिक्त स्थानों में क्रमिक रूप से रखने पर श्रृंखला पूरी हो जाएगी।

_ GGHG __ GG _ G _

- Ans**
- 1. HGHHG
 - 2. HHHGH
 - 3. GHHGH
 - 4. HGGHH

Question ID : 264330151640

Option 1 ID : 264330594189

Option 2 ID : 264330594188

Option 3 ID : 264330594190

Option 4 ID : 264330594187

Status : Answered

Chosen Option : 1

Q.9 निम्नलिखित संख्या-युग्मों में, पहली संख्या पर कुछ गणितीय संक्रियाएँ करके दूसरी संख्या प्राप्त की जाती है। उस समुच्चय को चुनिए जिसमें संख्याएँ ठीक उसी प्रकार संबंधित हैं जिस प्रकार निम्नलिखित समुच्चयों की संख्याएँ संबंधित हैं।

(ध्यान दें: संख्याओं को उनके घटक अंकों में अलग-अलग किए बिना, पूर्ण संख्याओं पर संक्रियाएँ की जानी चाहिए। उदा. 13 – संख्या 13 पर संक्रियाएँ जैसे 13 को जोड़ना/घटाना/गुणा करना आदि किया जा सकता है। 13 को 1 और 3 में अलग-अलग करने की ओर फिर 1 और 3 पर गणितीय संक्रियाएँ करने की अनुमति नहीं है।)

11, 110

19, 190

- Ans**
- 1. 22, 440
 - 2. 91, 190
 - 3. 51, 150
 - 4. 31, 310

Question ID : 264330151618

Option 1 ID : 264330594101

Option 2 ID : 264330594102

Option 3 ID : 264330594100

Option 4 ID : 264330594099

Status : Answered

Chosen Option : 4

Q.10 दी गई श्रृंखला में प्रश्न चिन्ह '?' के स्थान पर क्या आना चाहिए?

5 8 17 44 125 ?

- Ans**
- 1. 312
 - 2. 283
 - 3. 391
 - 4. 368

Question ID : 264330151485

Option 1 ID : 264330593567

Option 2 ID : 264330593569

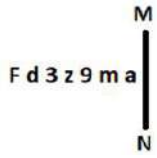
Option 3 ID : 264330593570

Option 4 ID : 264330593568

Status : Answered

Chosen Option : 4

Q.11 दी गई आकृति के उस सही दर्पण प्रतिबिंब को चुनिए, जो नीचे दर्शाए गए अनुसार दर्पण को MN पर रखने पर बनेगा।



- Ans
- ✓ 1.
 - ✗ 2.
 - ✗ 3.
 - ✗ 4.

Question ID : 264330151516

Option 1 ID : 264330593691

Option 2 ID : 264330593692

Option 3 ID : 264330593694

Option 4 ID : 264330593693

Status : Answered

Chosen Option : 1

Q.12 यदि '+' और '-' को आपस में बदल दिया जाए तथा '×' और '÷' को आपस में बदल दिया जाए तो निम्नलिखित समीकरण में (?) के स्थान पर क्या आएगा?

$$92 + 18 \div 2 - 125 \times 25 = ?$$

- Ans
- ✗ 1. 51
 - ✗ 2. 41
 - ✓ 3. 61
 - ✗ 4. 71

Question ID : 264330155671

Option 1 ID : 264330610088

Option 2 ID : 264330610089

Option 3 ID : 264330610087

Option 4 ID : 264330610090

Status : Answered

Chosen Option : 3

Q.13 एक निश्चित तर्क के अनुसार 21, 147 से संबंधित है। समान तर्क के अनुसार, 32, 224 से संबंधित है। समान तर्क का अनुसरण करते हुए 52 निम्नलिखित में से किससे संबंधित है?

- Ans
- ✗ 1. 356
 - ✗ 2. 365
 - ✓ 3. 364
 - ✗ 4. 346

Question ID : 264330151590

Option 1 ID : 264330593990

Option 2 ID : 264330593988

Option 3 ID : 264330593987

Option 4 ID : 264330593989

Status : Answered

Chosen Option : 3

Q.14 नीचे दिए गए कथनों और निष्कर्षों को ध्यानपूर्वक पढ़िए। आपको मानना है कि दिए गए कथन सत्य हैं चाहे वे समान्यतः ज्ञात तथ्यों से अलग प्रतीत होते हों। आपको निश्चय करना है कि कौन-सा/कौन-से निष्कर्ष तार्किक रूप से दिए गए कथनों के अनुसार है/हैं।

कथन: सभी मिक्सियां, माइक्रोवेव हैं। कुछ माइक्रोवेव, टोस्टर हैं। सभी टोस्टर, चिमनियां हैं।

निष्कर्ष I: कुछ मिक्सियां, माइक्रोवेव हैं।

निष्कर्ष II: सभी टोस्टर, मिक्सियां हैं।

- Ans**
- 1. न तो निष्कर्ष (I) और न ही (II) कथनों के अनुसार है।
 - 2. केवल निष्कर्ष (II) कथनों के अनुसार है।
 - 3. केवल निष्कर्ष (I) कथनों के अनुसार है।
 - 4. दोनों निष्कर्ष (I) और (II) कथनों के अनुसार हैं।

Question ID : 264330155911

Option 1 ID : 264330611049

Option 2 ID : 264330611048

Option 3 ID : 264330611047

Option 4 ID : 264330611050

Status : Answered

Chosen Option : 3

Q.15 एक निश्चित कूट भाषा में, 'OPEN' को '4582' लिखा जाता है और 'PORE' को '2385' लिखा जाता है। उसी कूट भाषा में 'R' को कैसे लिखा जाएगा?

- Ans**
- 1. 3
 - 2. 2
 - 3. 8
 - 4. 5

Question ID : 264330151700

Option 1 ID : 264330594429

Option 2 ID : 264330594428

Option 3 ID : 264330594430

Option 4 ID : 264330594427

Status : Answered

Chosen Option : 1

Q.16 उस सही विकल्प को चुनिए, जिसे दी गई श्रृंखला के रिक्त स्थानों में इसी क्रम में रखने पर श्रृंखला तार्किक रूप से पूरी हो जाएगी।

LV_J_VEJ T_GJ XVH_BV_J

- Ans**
- 1. EPVJI
 - 2. EJBLR
 - 3. DVJLE
 - 4. DBRPE

Question ID : 264330154725

Option 1 ID : 264330606363

Option 2 ID : 264330606364

Option 3 ID : 264330606365

Option 4 ID : 264330606366

Status : Answered

Chosen Option : 1

Q.17 दी गई श्रृंखला में प्रश्न चिन्ह '?' के स्थान पर क्या आना चाहिए?

6 25 82 253 766 ?

- Ans
- ✗ 1. 2485
 - ✗ 2. 2569
 - ✓ 3. 2305
 - ✗ 4. 2491

Question ID : 264330151473

Option 1 ID : 264330593520

Option 2 ID : 264330593522

Option 3 ID : 264330593519

Option 4 ID : 264330593521

Status : Answered

Chosen Option : 3

Q.18 यदि निम्नलिखित आकृति श्रृंखला को जारी रखना हो तो कौन-सी आकृति प्रश्न चिन्ह (?) के स्थान पर आनी चाहिए?

C	P	A	X	↑	P	P	A	X	C	□	A	
	□			C			↑			P		?
X		↑	□		A	C		□	↑		X	

Ans

✗ 1.

A	X	P
		C
□		↑

✓ 2.

A	X	C
		□
P		↑

✗ 3.

A	P	X
		□
C		↑

✗ 4.

A	P	C
		□
X		↑

Question ID : 264330154753

Option 1 ID : 264330606478

Option 2 ID : 264330606476

Option 3 ID : 264330606477

Option 4 ID : 264330606475

Status : Answered

Chosen Option : 1

Q.19 यदि शब्द 'TIMES' के प्रत्येक अक्षर को अंग्रेजी वर्णमाला के क्रम में व्यवस्थित किया जाए तो कितने अक्षरों का स्थान अपरिवर्तित रहेगा?

- Ans**
- 1. किसी का भी नहीं
 - 2. दो
 - 3. चार
 - 4. एक

Question ID : 264330154325
Option 1 ID : 264330604763
Option 2 ID : 264330604764
Option 3 ID : 264330604765
Option 4 ID : 264330604766
Status : Answered
Chosen Option : 2

Q.20 अंग्रेजी वर्णमाला क्रम के आधार पर दी गई श्रृंखला में प्रश्न चिह्न '?' के स्थान पर कौन-सा अक्षर-समूह आना चाहिए?

FQA, HTE, JWI, LZM, ?

- Ans**
- 1. NCQ
 - 2. ODR
 - 3. OEP
 - 4. MDP

Question ID : 264330156296
Option 1 ID : 264330612586
Option 2 ID : 264330612584
Option 3 ID : 264330612585
Option 4 ID : 264330612583
Status : Answered
Chosen Option : 1

Section : General Awareness

Q.1 निम्नलिखित में से कौन-सा राज्य का एक नीति निर्देशक सिद्धांत नहीं है?

- Ans**
- 1. न्यायपालिका को कार्यपालिका से अलग करना
 - 2. समान नागरिक संहिता
 - 3. स्मारकों का संरक्षण
 - 4. भारत के किसी भी हिस्से में निवास

Question ID : 264330159907
Option 1 ID : 264330626978
Option 2 ID : 264330626975
Option 3 ID : 264330626976
Option 4 ID : 264330626977
Status : Answered
Chosen Option : 3

Q.2 सांची स्तूप किस राज्य में स्थित है?

- Ans
- 1. गुजरात
 - 2. उत्तरप्रदेश
 - 3. मध्यप्रदेश
 - 4. बिहार

Question ID : 264330160759

Option 1 ID : 264330630367

Option 2 ID : 264330630369

Option 3 ID : 264330630368

Option 4 ID : 264330630370

Status : Answered

Chosen Option : 3

Q.3 दक्षिण चीन सागर निम्नलिखित में से किस महासागर का हिस्सा है?

- Ans
- 1. आर्कटिक महासागर
 - 2. दक्षिणी महासागर
 - 3. हिंद महासागर
 - 4. प्रशांत महासागर

Question ID : 264330157835

Option 1 ID : 264330618700

Option 2 ID : 264330618701

Option 3 ID : 264330618699

Option 4 ID : 264330618702

Status : Answered

Chosen Option : 3

Q.4 निम्नलिखित में से किस राज्य में खेलो इंडिया यूनिवर्सिटी गेम्स का तीसरा संस्करण आयोजित किया गया था?

- Ans
- 1. नई दिल्ली
 - 2. उत्तरप्रदेश
 - 3. झारखंड
 - 4. पंजाब

Question ID : 264330161146

Option 1 ID : 264330631917

Option 2 ID : 264330631918

Option 3 ID : 264330631916

Option 4 ID : 264330631915

Status : Answered

Chosen Option : 1

Q.5 राष्ट्रीय आय लेखांकन में अंतिम और मध्यवर्ती वस्तुओं/सेवाओं के बीच अंतर करना क्यों महत्वपूर्ण है?

- Ans
- 1. विभिन्न क्षेत्रों के बीच आय के वितरण में अंतर्दृष्टि प्रदान करता है।
 - 2. यह उपभोक्ता की प्राथमिकताओं और बाजार की मांग में बदलाव को ट्रैक करने में मदद करता है।
 - 3. यह आर्थिक विकास और उत्पादकता की अधिक सटीक माप करने में सहायता करता है।
 - 4. यह उत्पादित वस्तुओं और सेवाओं की समग्र गुणवत्ता निर्धारित करने में मदद करता है।

Question ID : 264330157314

Option 1 ID : 264330616621

Option 2 ID : 264330616622

Option 3 ID : 264330616620

Option 4 ID : 264330616619

Status : Answered

Chosen Option : 3

Q.6 भारत के किस राज्य में स्थानांतरी खेती को बरीगां (Bringa) के नाम से जाना जाता है ?

- Ans
- 1. ओडिशा
 - 2. मणिपुर
 - 3. आंध्र प्रदेश
 - 4. मध्यप्रदेश

Question ID : 264330160137

Option 1 ID : 264330627887

Option 2 ID : 264330627889

Option 3 ID : 264330627890

Option 4 ID : 264330627888

Status : Not Answered

Chosen Option : --

Q.7 भारत का नाममात्र कार्यकारी प्राधिकारी (nominal executive authority) कौन है?

- Ans
- 1. राष्ट्रपति
 - 2. प्रधानमंत्री
 - 3. उपराष्ट्रपति
 - 4. महान्यायवादी

Question ID : 264330159910

Option 1 ID : 264330626988

Option 2 ID : 264330626987

Option 3 ID : 264330626990

Option 4 ID : 264330626989

Status : Answered

Chosen Option : 1

Q.8 भारत में महोगनी (Mahogany), रोज़वुड (Rosewood) और सिनकोना (Cinchona) के पेड़ किस प्रकार के वनों में पाए जाते हैं?

- Ans
- 1. उष्ण कटिबंधीय सदाबहार वन
 - 2. मैंग्रोव वन
 - 3. पर्वतीय वन
 - 4. उष्ण कटिबंधीय पर्णपाती वन

Question ID : 264330160149

Option 1 ID : 264330627937

Option 2 ID : 264330627936

Option 3 ID : 264330627938

Option 4 ID : 264330627935

Status : Answered

Chosen Option : 1

Q.9 कोशिका विभाजन की प्रक्रिया में, दो संतति केन्द्रकों (daughter nuclei) के बीच फ्रैग्मोप्लास्ट (phragmoplast) का निर्माण _____ के दौरान होता है।

- Ans
- 1. S चरण
 - 2. केंद्रकभाजन
 - 3. G0 चरण
 - 4. कोशिकाद्रव्य विभाजन

Question ID : 264330156617
Option 1 ID : 264330613857
Option 2 ID : 264330613856
Option 3 ID : 264330613858
Option 4 ID : 264330613855
Status : Answered
Chosen Option : 4

Q.10 'एटीएम (ATM)' का पूर्ण रूप क्या है?

- Ans
- 1. ऑटोमेटेड ट्रांजैक्शन मैनेजमेंट (Automated Transaction Management)
 - 2. ऑटोमेटेड टेलर मशीन (Automated Teller Machine)
 - 3. ऑल टाइम मनी (All-Time Money)
 - 4. अकाउंट ट्रैकिंग मॉड्यूल (Account Tracking Module)

Question ID : 264330157302
Option 1 ID : 264330616572
Option 2 ID : 264330616571
Option 3 ID : 264330616573
Option 4 ID : 264330616574
Status : Answered
Chosen Option : 2

Q.11 निम्नलिखित में से कौन 'अनफिनिशड: ए मेमॉयर (Unfinished: A Memoir)' पुस्तक की लेखिका हैं?

- Ans
- 1. प्रियंका चोपड़ा
 - 2. करीना कपूर
 - 3. आलिया भट्ट
 - 4. दीपिका पादुकोण

Question ID : 264330161907
Option 1 ID : 264330634957
Option 2 ID : 264330634958
Option 3 ID : 264330634956
Option 4 ID : 264330634955
Status : Answered
Chosen Option : 1

Q.12 दिए गए विकल्पों में से मिलखा सिंह की आत्मकथा का चयन कीजिए।

- Ans
- 1. वन लाइफ इज़ नॉट इनफ (One Life Is Not Enough)
 - 2. ए शॉट एट हिस्ट्री (A Shot at History)
 - 3. द टेस्ट ऑफ माई लाइफ (The Test of My Life)
 - 4. द रेस ऑफ माई लाइफ (The Race of My Life)

Question ID : 264330155493
Option 1 ID : 264330609378
Option 2 ID : 264330609375
Option 3 ID : 264330609377
Option 4 ID : 264330609376
Status : Answered
Chosen Option : 4

Q.13 देवेन्द्र झाझरिया ने विश्व पैरा एथलेटिक्स ग्रां प्री (World Para Athletics Grand Prix) में कौन-सा पदक/स्थान जीता?

- Ans
- 1. स्वर्ण
 - 2. कांस्य
 - 3. रजत
 - 4. चौथी

Question ID : 264330158364
Option 1 ID : 264330620815
Option 2 ID : 264330620817
Option 3 ID : 264330620816
Option 4 ID : 264330620818
Status : Answered
Chosen Option : 2

Q.14 महरी नृत्य (Mahari Dance) और गोटीपुआ नृत्य (Gotipua Dance) का संबंध निम्नलिखित में से किस राज्य से है?

- Ans
- 1. बिहार
 - 2. उत्तरप्रदेश
 - 3. हरियाणा
 - 4. ओडिशा

Question ID : 264330159060
Option 1 ID : 264330623602
Option 2 ID : 264330623601
Option 3 ID : 264330623600
Option 4 ID : 264330623599
Status : Answered
Chosen Option : 4

Q.15 लेबंग बूमानी (Lebang Boomani) नृत्य _____ का फसल नृत्य (harvest dance) है।

- Ans
- 1. मिजोरम
 - 2. मेघालय
 - 3. असम
 - 4. त्रिपुरा

Question ID : 264330159062
Option 1 ID : 264330623607
Option 2 ID : 264330623608
Option 3 ID : 264330623609
Option 4 ID : 264330623610
Status : Answered
Chosen Option : 1

Q.16 निम्नलिखित में से कौन-सा संगीतकार 'पंचम दा (Panchamda)' के नाम से प्रसिद्ध है?

- Ans
- 1. रवि
 - 2. आर. डी. बर्मन
 - 3. नौशाद
 - 4. खयाम

Question ID : 264330160974
Option 1 ID : 264330631228
Option 2 ID : 264330631227
Option 3 ID : 264330631230
Option 4 ID : 264330631229
Status : Answered
Chosen Option : 2

Q.17 पंडित भीमसेन जोशी का संबंध _____ घराने से था।

- Ans
- 1. दिल्ली
 - 2. आगरा
 - 3. बनारस
 - 4. किराना

Question ID : 264330155463
Option 1 ID : 264330609255
Option 2 ID : 264330609256
Option 3 ID : 264330609258
Option 4 ID : 264330609257
Status : Answered
Chosen Option : 4

Q.18 निम्नलिखित में से नर्तक/ नर्तकी और संबंधित नृत्य शैली की गलत जोड़ी की पहचान कीजिए।

- Ans
- ✓ 1. कुमकुम धर - कुचिपुड़ी
 - ✗ 2. श्रुति बंदोपाध्याय - मणिपुरी
 - ✗ 3. त्रिलोचन मोहंता - छउ
 - ✗ 4. मीनाक्षी चित्ररंजन - भरतनाट्यम

Question ID : 264330155529
Option 1 ID : 264330609520
Option 2 ID : 264330609521
Option 3 ID : 264330609522
Option 4 ID : 264330609519
Status : Not Answered
Chosen Option : --

Q.19 वह ईरानी शासक कौन था जिसने 1739 में दिल्ली शहर पर हमला किया और भारी मात्रा में धन-दौलत लूट लिया?

- Ans
- ✗ 1. अहमद शाह अब्दाली
 - ✗ 2. अहमद शाह कजर
 - ✗ 3. अब्बास प्रथम
 - ✓ 4. नादिर शाह

Question ID : 264330161735
Option 1 ID : 264330634267
Option 2 ID : 264330634268
Option 3 ID : 264330634270
Option 4 ID : 264330634269
Status : Answered
Chosen Option : 4

Q.20 भारत में प्रथम महिला विश्वविद्यालय की स्थापना किसके द्वारा की गई थी?

- Ans
- ✗ 1. आशुतोष मुखर्जी
 - ✓ 2. धोंडो केशव कर्वे
 - ✗ 3. सईद अहमद खान
 - ✗ 4. विलियम हंटर

Question ID : 264330162336
Option 1 ID : 264330636672
Option 2 ID : 264330636671
Option 3 ID : 264330636673
Option 4 ID : 264330636674
Status : Answered
Chosen Option : 2

Q.21 'मुक्तेश्वर' नृत्य महोत्सव 14 से 16 जनवरी तक _____ राज्य के मुक्तेश्वर मंदिर में आयोजित किया जाता है।

- Ans 1. हिमाचल प्रदेश
 2. ओडिशा
 3. उत्तराखंड
 4. मध्यप्रदेश

Question ID : 264330160839
Option 1 ID : 264330630688
Option 2 ID : 264330630689
Option 3 ID : 264330630687
Option 4 ID : 264330630690
Status : Answered
Chosen Option : 2

Q.22 भारत के किस पड़ोसी देश की आधिकारिक भाषा 'धिवेही (Dhivehi)' है?

- Ans 1. चीन
 2. श्रीलंका
 3. भूटान
 4. मालदीव

Question ID : 264330160174
Option 1 ID : 264330628035
Option 2 ID : 264330628036
Option 3 ID : 264330628037
Option 4 ID : 264330628038
Status : Not Answered
Chosen Option : --

Q.23 भारतीय विमानपत्तन प्राधिकरण की किस योजना के तहत जम्मू-कश्मीर के उपराज्यपाल ने स्थानीय कला और जम्मू-कश्मीर ग्रामीण आजीविका मिशन के स्वयं सहायता समूहों के कारीगरों के समर्थन के लिए श्रीनगर अंतरराष्ट्रीय हवाई अड्डे पर उम्मीद मार्केट प्लेस (UMEED Market Place) का उद्घाटन किया?

- Ans 1. अवसर योजना (AVSAR Scheme)
 2. एएसएआर योजना (ASAR Scheme)
 3. आकार योजना (AAKAR Scheme)
 4. आकाश योजना (AKASH Scheme)

Question ID : 264330161408
Option 1 ID : 264330632960
Option 2 ID : 264330632959
Option 3 ID : 264330632962
Option 4 ID : 264330632961
Status : Answered
Chosen Option : 1

Q.24 आधुनिक आवर्त सारणी में कितने तत्व सूचीबद्ध हैं?

- Ans 1. 91
 2. 81
 3. 107
 4. 118

Question ID : 264330161331
Option 1 ID : 264330632653
Option 2 ID : 264330632654
Option 3 ID : 264330632652
Option 4 ID : 264330632651
Status : Answered
Chosen Option : 1

Q.25 भारत ने फाइनल में किस देश को हराकर 2023 इंटरकॉन्टिनेंटल कप फुटबॉल चैंपियनशिप (Intercontinental Cup Football championship) जीती?

- Ans 1. थाईलैंड (Thailand)
 2. लेबनान (Lebanon)
 3. मंगोलिया (Mongolia)
 4. वानुअतु (Vanuatu)

Question ID : 264330161139
Option 1 ID : 264330631890
Option 2 ID : 264330631887
Option 3 ID : 264330631889
Option 4 ID : 264330631888
Status : Not Answered
Chosen Option : --

Section : English Language and Comprehension

Q.1 Parts of the following sentence have been underlined and given as options. Select the option that contains an error.

I will going on an official tour next week.

- Ans 1. an official tour
 2. next week
 3. will going
 4. on

Question ID : 264330153188
Option 1 ID : 264330600313
Option 2 ID : 264330600314
Option 3 ID : 264330600311
Option 4 ID : 264330600312
Status : Answered
Chosen Option : 3

Q.2 Select the correct spelling of the underlined word in the following sentence.

Today's lecture had a profond impact on my friend.

- Ans
- 1. prefound
 - 2. profoun
 - 3. prufound
 - 4. profound

Question ID : 264330153083
Option 1 ID : 264330599897
Option 2 ID : 264330599896
Option 3 ID : 264330599898
Option 4 ID : 264330599895
Status : Answered
Chosen Option : 4

Q.3 Select the most appropriate option that can substitute the underlined words in the following sentence.

Ramya's shoes are polish by her granddaughter.

- Ans
- 1. polishes
 - 2. had polished
 - 3. is polish
 - 4. are polished

Question ID : 264330152577
Option 1 ID : 264330597912
Option 2 ID : 264330597914
Option 3 ID : 264330597911
Option 4 ID : 264330597913
Status : Answered
Chosen Option : 4

Q.4 The following sentence has been split into four segments. Identify the segment that contains a grammatical error.

Some / private banks / pay their employees / good.

- Ans
- 1. private banks
 - 2. Some
 - 3. pay their employees
 - 4. good

Question ID : 264330153180
Option 1 ID : 264330600280
Option 2 ID : 264330600279
Option 3 ID : 264330600281
Option 4 ID : 264330600282
Status : Answered
Chosen Option : 4

Q.5 Parts of the following sentence have been underlined and given as options. Select the option that contains an error.

For an all-too-brief period between the late 1980s and the late 2000s, a world was characterised by convergence.

- Ans 1. a world was
 2. characterised by
 3. between the late
 4. For an all-too-brief

Question ID : 264330153194
Option 1 ID : 264330600336
Option 2 ID : 264330600338
Option 3 ID : 264330600337
Option 4 ID : 264330600335
Status : Answered
Chosen Option : 4

Q.6 The sentence given below has spelling errors. Select the sentence without spelling errors.

Let us appreciate, support and contribute our might to the promotional efforts of the community in this direction.

- Ans 1. Let us appreciate, suport and contribute our might to the promotional efforts of the community in this direction.
 2. Let us appreciate, support and contribute our might to the promotional efforts of the community in this direction.
 3. Let us appreciate, support and contribute our might to the promotional efforts of the community in this direction.
 4. Let us appreciate, support and contribute our might to the promotion all efforts of the community in this direction.

Question ID : 264330151841
Option 1 ID : 264330594991
Option 2 ID : 264330594994
Option 3 ID : 264330594993
Option 4 ID : 264330594992
Status : Answered
Chosen Option : 3

Q.7 Select the most appropriate synonym of the given word.
Elegant

- Ans 1. Ugly
 2. Mighty
 3. Tall
 4. Graceful

Question ID : 264330152747
Option 1 ID : 264330598588
Option 2 ID : 264330598589
Option 3 ID : 264330598590
Option 4 ID : 264330598587
Status : Answered
Chosen Option : 4

Q.8 Parts of the following sentence have been given as options. Select the option that contains an error.

Shelley and Keats are great writers, but I prefer the last.

- Ans
- 1. but I prefer
 - 2. are great writers
 - 3. Shelley and Keats
 - 4. the last

Question ID : 264330152803

Option 1 ID : 264330598805

Option 2 ID : 264330598804

Option 3 ID : 264330598803

Option 4 ID : 264330598806

Status : Answered

Chosen Option : 4

Q.9 Select the most appropriate meaning of the given idiom.
To get cold feet

- Ans
- 1. To run for life
 - 2. To fall sick
 - 3. To be afraid
 - 4. To be indifferent

Question ID : 264330156175

Option 1 ID : 264330612101

Option 2 ID : 264330612099

Option 3 ID : 264330612102

Option 4 ID : 264330612100

Status : Answered

Chosen Option : 3

Q.10 Select the most appropriate idiom to fill in the blank.

I don't think you should go out in the rain, it's _____.

- Ans
- 1. raining dogs and puppies
 - 2. storming cats and dogs
 - 3. raining cats and dogs
 - 4. rain on cats and dogs

Question ID : 264330153079

Option 1 ID : 264330599882

Option 2 ID : 264330599879

Option 3 ID : 264330599880

Option 4 ID : 264330599881

Status : Answered

Chosen Option : 3

Q.11 Select the most appropriate option to fill in the blank.
The team had a _____ with respect to the proposal given by Mr. Albert.

- Ans 1. disckassion
 2. discussion
 3. descussion
 4. discusion

Question ID : 264330153303
Option 1 ID : 264330600768
Option 2 ID : 264330600767
Option 3 ID : 264330600770
Option 4 ID : 264330600769
Status : Answered
Chosen Option : 2

Q.12 Select the most appropriate meaning of the given idiom.

Break the ice

- Ans 1. To say something that makes strangers uncomfortable
 2. To say something that makes people who are meeting for the first time more comfortable
 3. To say something that makes people excited for a group project
 4. To say something mean to people in a group

Question ID : 264330153072
Option 1 ID : 264330599854
Option 2 ID : 264330599851
Option 3 ID : 264330599853
Option 4 ID : 264330599852
Status : Answered
Chosen Option : 2

Q.13 Select the option that can be used as a one-word substitute for the given phrase.
A person who is known for his hatred towards the entire mankind.

- Ans 1. Insolvent
 2. Mercenary
 3. Philogynist
 4. Misanthrope

Question ID : 264330152672
Option 1 ID : 264330598291
Option 2 ID : 264330598293
Option 3 ID : 264330598294
Option 4 ID : 264330598292
Status : Answered
Chosen Option : 4

Q.14 Select the most appropriate meaning of the given idiom.
To keep one's temper

- Ans 1. To meet with disaster
 2. To become impatient
 3. To remain calm
 4. To become angry

Question ID : 264330153522
Option 1 ID : 264330601601
Option 2 ID : 264330601602
Option 3 ID : 264330601599
Option 4 ID : 264330601600
Status : Answered
Chosen Option : 3

Q.15 Select the most appropriate option that can substitute the underlined segment in the given sentence.
The food was too salty eat this morning.

- Ans 1. ate
 2. eating
 3. to eat
 4. to ate

Question ID : 264330153396
Option 1 ID : 264330601126
Option 2 ID : 264330601124
Option 3 ID : 264330601123
Option 4 ID : 264330601125
Status : Answered
Chosen Option : 3

Q.16 Select the most appropriate ANTONYM of the underlined word.
His amazing performance made him famous.

- Ans 1. Binary
 2. Ordinary
 3. Adversary
 4. Colliery

Question ID : 264330151816
Option 1 ID : 264330594893
Option 2 ID : 264330594892
Option 3 ID : 264330594891
Option 4 ID : 264330594894
Status : Answered
Chosen Option : 2

Q.17 Select the most appropriate synonym of the given word.
Design

- Ans** 1. Destroy
 2. Fabricate
 3. Inspect
 4. Copy

Question ID : 264330152779
Option 1 ID : 264330598707
Option 2 ID : 264330598709
Option 3 ID : 264330598708
Option 4 ID : 264330598710
Status : Answered
Chosen Option : 2

Q.18 Select the option that can be used as a one-word substitute for the given group of words.
A thing which happens every two years

- Ans** 1. Annual
 2. Century
 3. Biennial
 4. Bi-monthly

Question ID : 264330152584
Option 1 ID : 264330597941
Option 2 ID : 264330597940
Option 3 ID : 264330597939
Option 4 ID : 264330597942
Status : Answered
Chosen Option : 3

Q.19 Select the option that can be used as a one-word substitute for the given phrase.
A poem of lamentation on the death of someone loved and admired.

- Ans** 1. Soliloquy
 2. Elegy
 3. Epitaph
 4. Tragedy

Question ID : 264330152671
Option 1 ID : 264330598289
Option 2 ID : 264330598290
Option 3 ID : 264330598288
Option 4 ID : 264330598287
Status : Answered
Chosen Option : 2

Q.20 Parts of the following sentence have been given as options. Select the option that contains an error.

Jaya said that she will become topper in her class.

- Ans
- 1. that
 - 2. in her class
 - 3. she will become topper
 - 4. Jaya said

Question ID : 264330152821

Option 1 ID : 264330598876

Option 2 ID : 264330598878

Option 3 ID : 264330598877

Option 4 ID : 264330598875

Status : Answered

Chosen Option : 3

Comprehension:

In the following passage, some words have been deleted. Read the passage carefully and select the most appropriate option to fill in each blank.

Language is (1)_____ of the most fundamental aspects of human communication and interaction. It allows people from different cultures to connect and (2)_____ ideas. While many individuals grow up learning just one language, there are a variety of reasons why learning a second language can be beneficial. (3)_____, it can improve cognitive abilities, enhance job prospects and facilitate travel and cultural immersion. (4)_____ proficiency in a second language is an invaluable asset for personal growth as well as professional development. Audio-video mediums such as (5)_____ are among the best ways to learn a second language as they allow learners to engage with cultural content.

SubQuestion No : 21

Q.21 Select the most appropriate option to fill in blank number 1.

- Ans
- 1. four
 - 2. three
 - 3. one
 - 4. two

Question ID : 264330153414

Option 1 ID : 264330601187

Option 2 ID : 264330601190

Option 3 ID : 264330601188

Option 4 ID : 264330601189

Status : Answered

Chosen Option : 3

Comprehension:

In the following passage, some words have been deleted. Read the passage carefully and select the most appropriate option to fill in each blank.

Language is (1)_____ of the most fundamental aspects of human communication and interaction. It allows people from different cultures to connect and (2)_____ ideas. While many individuals grow up learning just one language, there are a variety of reasons why learning a second language can be beneficial. (3) _____, it can improve cognitive abilities, enhance job prospects and facilitate travel and cultural immersion. (4)_____ proficiency in a second language is an invaluable asset for personal growth as well as professional development. Audio-video mediums such as (5)_____ are among the best ways to learn a second language as they allow learners to engage with cultural content.

SubQuestion No : 22

Q.22 Select the most appropriate option to fill in blank number 2.

- Ans 1. sharing
 2. shared
 3. share
 4. shares

Question ID : 264330153415

Option 1 ID : 264330601191

Option 2 ID : 264330601192

Option 3 ID : 264330601194

Option 4 ID : 264330601193

Status : Answered

Chosen Option : 3

Comprehension:

In the following passage, some words have been deleted. Read the passage carefully and select the most appropriate option to fill in each blank.

Language is (1)_____ of the most fundamental aspects of human communication and interaction. It allows people from different cultures to connect and (2)_____ ideas. While many individuals grow up learning just one language, there are a variety of reasons why learning a second language can be beneficial. (3) _____, it can improve cognitive abilities, enhance job prospects and facilitate travel and cultural immersion. (4)_____ proficiency in a second language is an invaluable asset for personal growth as well as professional development. Audio-video mediums such as (5)_____ are among the best ways to learn a second language as they allow learners to engage with cultural content.

SubQuestion No : 23

Q.23 Select the most appropriate option to fill in blank number 3.

- Ans 1. Therefore
 2. However
 3. For example
 4. As it is

Question ID : 264330153416

Option 1 ID : 264330601196

Option 2 ID : 264330601195

Option 3 ID : 264330601197

Option 4 ID : 264330601198

Status : Answered

Chosen Option : 2

Comprehension:

In the following passage, some words have been deleted. Read the passage carefully and select the most appropriate option to fill in each blank.

Language is (1)_____ of the most fundamental aspects of human communication and interaction. It allows people from different cultures to connect and (2)_____ ideas. While many individuals grow up learning just one language, there are a variety of reasons why learning a second language can be beneficial. (3) _____, it can improve cognitive abilities, enhance job prospects and facilitate travel and cultural immersion. (4)_____ proficiency in a second language is an invaluable asset for personal growth as well as professional development. Audio-video mediums such as (5)_____ are among the best ways to learn a second language as they allow learners to engage with cultural content.

SubQuestion No : 24

Q.24 Select the most appropriate option to fill in blank number 4.

- Ans 1. Acquire
 2. Acquired
 3. Acquiring
 4. Acquires

Question ID : 264330153417

Option 1 ID : 264330601200

Option 2 ID : 264330601201

Option 3 ID : 264330601199

Option 4 ID : 264330601202

Status : Answered

Chosen Option : 3

Comprehension:

In the following passage, some words have been deleted. Read the passage carefully and select the most appropriate option to fill in each blank.

Language is (1)_____ of the most fundamental aspects of human communication and interaction. It allows people from different cultures to connect and (2)_____ ideas. While many individuals grow up learning just one language, there are a variety of reasons why learning a second language can be beneficial. (3) _____, it can improve cognitive abilities, enhance job prospects and facilitate travel and cultural immersion. (4)_____ proficiency in a second language is an invaluable asset for personal growth as well as professional development. Audio-video mediums such as (5)_____ are among the best ways to learn a second language as they allow learners to engage with cultural content.

SubQuestion No : 25

Q.25 Select the most appropriate option to fill in blank number 5.

- Ans 1. films
 2. books
 3. images
 4. podcasts

Question ID : 264330153418

Option 1 ID : 264330601204

Option 2 ID : 264330601205

Option 3 ID : 264330601206

Option 4 ID : 264330601203

Status : Answered

Chosen Option : 4