

Multi Tasking Non Technical Staff and Havaladar CBIC and CBN Examination 2023

Roll Number	
Candidate Name	
Venue Name	
Exam Date	06/09/2023
Exam Time	9:00 AM - 11:00 AM
Subject	MTS Non Tech Havaladar CBIC and CBN Examination 2023

Section : Numerical and Mathematical Ability

Q.1 दो संख्याओं का अनुपात 2 : 5 है। उनका लघुत्तम समापवर्त्य 80 है। संख्याएं ज्ञात कीजिए।

- Ans
- ✗ 1. 14, 36
 - ✗ 2. 16, 38
 - ✗ 3. 18, 38
 - ✓ 4. 16, 40

Question ID : 264330156206

Option 1 ID : 264330612225

Option 2 ID : 264330612223

Option 3 ID : 264330612226

Option 4 ID : 264330612224

Status : Answered

Chosen Option : 4

Q.2 सुरजीत अकेले एक काम को 8 दिनों में पूरा कर सकता है और मनजीत अकेले उसी काम को 6 दिनों में पूरा कर सकता है। सुरजीत और मनजीत ने बारी-बारी से एक दिन छोड़कर काम करते हुए इस काम को करने का फैसला किया और पहले दिन सुरजीत काम शुरू करता है। काम कितने दिनों में पूरा होगा?

- Ans
- ✗ 1. 8 दिन
 - ✗ 2. 8.5 दिन
 - ✗ 3. 7.5 दिन
 - ✓ 4. 7 दिन

Question ID : 264330154134

Option 1 ID : 264330604001

Option 2 ID : 264330604002

Option 3 ID : 264330604000

Option 4 ID : 264330603999

Status : Answered

Chosen Option : 4

Q.3 A अपनी दैनिक आय का 20% खर्च करता है। यदि व्यय ₹250 है, तो उसकी दैनिक आय कितनी है?

- Ans
- 1. ₹2,500
 - 2. ₹800
 - 3. ₹1,500
 - 4. ₹1,250

Question ID : 264330154045

Option 1 ID : 264330603645

Option 2 ID : 264330603646

Option 3 ID : 264330603643

Option 4 ID : 264330603644

Status : Answered

Chosen Option : 4

Q.4 दी गई तालिका का अध्ययन कीजिए और नीचे दिए गए प्रश्न का उत्तर दीजिए।
तालिका में केंद्रों और उम्मीदवारों की पदानुसार संख्या दर्शाई गई है।

केंद्र	अधिकारी	क्लर्क	पर्यवेक्षक	क्षेत्राधिकारी
मुंबई	12000	18000	8000	200
चेन्नई	8000	10000	6000	100
हैदराबाद	10000	12000	7000	150
बेंगलुरु	9000	6000	5000	80
कोलकाता	14000	18000	6500	120

किस केंद्र पर उम्मीदवारों की संख्या सबसे अधिक है?

- Ans
- 1. हैदराबाद
 - 2. चेन्नई
 - 3. कोलकाता
 - 4. मुंबई

Question ID : 264330155978

Option 1 ID : 264330611311

Option 2 ID : 264330611314

Option 3 ID : 264330611312

Option 4 ID : 264330611313

Status : Answered

Chosen Option : 3

Q.5 ₹5,400 पर 7 वर्ष के लिए 4% वार्षिक की दर से साधारण ब्याज (₹ में) ज्ञात कीजिए।

- Ans
- 1. 1,380
 - 2. 1,172
 - 3. 1,230
 - 4. 1,512

Question ID : 264330155744
Option 1 ID : 264330610380
Option 2 ID : 264330610382
Option 3 ID : 264330610381
Option 4 ID : 264330610379
Status : Answered
Chosen Option : 4

Q.6 यदि एक त्रिभुज की भुजाओं का अनुपात 3 : 4 : 5 है और इसका परिमाप 24 m है, तो त्रिभुज का क्षेत्रफल ज्ञात कीजिए।

- Ans
- 1. 37 m²
 - 2. 24 m²
 - 3. 16 m²
 - 4. 32 m²

Question ID : 264330156065
Option 1 ID : 264330611662
Option 2 ID : 264330611660
Option 3 ID : 264330611659
Option 4 ID : 264330611661
Status : Answered
Chosen Option : 2

Q.7 एक बल्लेबाज 13वीं पारी में 96 रन बनाता है और इस प्रकार उसके औसत में 3 की वृद्धि हो जाती है। 13 पारियों के बाद उसका औसत ज्ञात कीजिए।

- Ans
- 1. 70
 - 2. 60
 - 3. 50
 - 4. 65

Question ID : 264330155987
Option 1 ID : 264330611350
Option 2 ID : 264330611348
Option 3 ID : 264330611347
Option 4 ID : 264330611349
Status : Answered
Chosen Option : 2

Q.8 एक विक्रेता द्वारा अपने माल को ₹3,200 में बेचने पर प्राप्त होने वाला लाभ, उसी माल को ₹3,000 में बेचने पर प्राप्त होने वाले लाभ के 7/5वें भाग के बराबर है। माल का क्रय मूल्य (₹ में) क्या है?

- Ans**
- 1. 2,400
 - 2. 2,900
 - 3. 2,700
 - 4. 2,500

Question ID : 264330156104
Option 1 ID : 264330611818
Option 2 ID : 264330611815
Option 3 ID : 264330611816
Option 4 ID : 264330611817
Status : Answered
Chosen Option : 4

Q.9 उस सबसे लंबे खंभे की लंबाई क्या है जिसे 24 m लंबे, 18 m चौड़े और 16 m ऊंचे एक इनडोर स्टेडियम में रखा जा सकता है?

- Ans**
- 1. 42 m
 - 2. 38 m
 - 3. 36 m
 - 4. 34 m

Question ID : 264330154108
Option 1 ID : 264330603895
Option 2 ID : 264330603896
Option 3 ID : 264330603897
Option 4 ID : 264330603898
Status : Answered
Chosen Option : 4

Q.10 X, 3 मिनट में 8 पेज टाइप कर सकता है। Y, 5 मिनट में 3 पेज टाइप कर सकता है। साथ मिलकर काम करते हुए वे 15 मिनट में कितने पेज टाइप कर सकते हैं?

- Ans**
- 1. 40
 - 2. 42
 - 3. 49
 - 4. 46

Question ID : 264330156239
Option 1 ID : 264330612355
Option 2 ID : 264330612356
Option 3 ID : 264330612358
Option 4 ID : 264330612357
Status : Answered
Chosen Option : 3

Q.11 एक निश्चित धनराशि को A, B और C के बीच 2 : 5 : 7 के अनुपात में बांटा जाना था, लेकिन गलती से इसे 5 : 2 : 7 के अनुपात में बांट दिया गया और इस प्रकार B को ₹150 की हानि हुई। धनराशि ज्ञात कीजिए।

- Ans
- ✗ 1. ₹850
 - ✗ 2. ₹900
 - ✓ 3. ₹700
 - ✗ 4. ₹625

Question ID : 264330156342

Option 1 ID : 264330612769

Option 2 ID : 264330612770

Option 3 ID : 264330612768

Option 4 ID : 264330612767

Status : Answered

Chosen Option : 3

Q.12 एक पुलिसकर्मी 108 m की दूरी से एक चोर को देखता है। चोर भागने लगता है और पुलिसकर्मी उसका पीछा करता है। यदि चोर और पुलिसकर्मी की चाल क्रमशः 21 km/h और 23 km/h है, तो पुलिसकर्मी द्वारा पकड़े जाने से पहले चोर को कितनी दूर (m में) भागना होगा?

- Ans
- ✗ 1. 1216
 - ✗ 2. 3121
 - ✓ 3. 1134
 - ✗ 4. 2534

Question ID : 264330154092

Option 1 ID : 264330603831

Option 2 ID : 264330603834

Option 3 ID : 264330603833

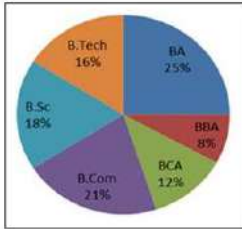
Option 4 ID : 264330603832

Status : Answered

Chosen Option : 3

Q.13 निम्नलिखित वृत्त आलेख में एक कॉलेज में अलग-अलग पाठ्यक्रमों में पढ़ने वाले विद्यार्थियों के प्रतिशत को दर्शाया गया है।

यदि विद्यार्थियों की कुल संख्या 1200 है, तो बीसीए और बी.एससी में पढ़ने वाले विद्यार्थियों की संख्या के बीच का अनुपात कितना है?



संदर्भ: B.Tech - बीटेक, BA - बीए, BBA - बीबीए, BCA - बीसीए, B.Com - बी.कॉम, B.Sc - बी.एससी

- Ans
- ✓ 1. 2 : 3
 - ✗ 2. 7 : 9
 - ✗ 3. 14 : 27
 - ✗ 4. 32 : 63

Question ID : 264330154067

Option 1 ID : 264330603732

Option 2 ID : 264330603734

Option 3 ID : 264330603731

Option 4 ID : 264330603733

Status : Answered

Chosen Option : 1

Q.14 चार किताबें और आठ कलमें ₹260 में खरीदी गईं। यदि एक किताब का औसत मूल्य ₹35 है, तो एक कलम का औसत मूल्य कितना होगा?

- Ans
- 1. ₹5
 - 2. ₹31
 - 3. ₹10
 - 4. ₹15

Question ID : 264330153868
Option 1 ID : 264330602935
Option 2 ID : 264330602936
Option 3 ID : 264330602938
Option 4 ID : 264330602937
Status : Answered
Chosen Option : 4

Q.15 एक कक्षा के 20 छात्रों का औसत भार 30.5 kg था। कक्षा में 6 नए छात्रों के शामिल होने के बाद, इसका औसत भार 2 kg बढ़ जाता है। कक्षा में शामिल होने वाले 6 नए छात्रों का औसत भार ज्ञात कीजिए (दशमलव के एक स्थान तक सन्निकटित)।

- Ans
- 1. 38.5 kg
 - 2. 30.5 kg
 - 3. 39.2 kg
 - 4. 32.5 kg

Question ID : 264330157323
Option 1 ID : 264330616655
Option 2 ID : 264330616657
Option 3 ID : 264330616658
Option 4 ID : 264330616656
Status : Answered
Chosen Option : 3

Q.16 एक किताब को किसी मूल्य पर बेचने पर अंकिता को 10% का लाभ होता है। यदि किताब को दुगने मूल्य पर बेचा जाता है, तो अंकिता के लिए लाभ प्रतिशत क्या होगा?

- Ans
- 1. 140%
 - 2. 120%
 - 3. 100%
 - 4. 125%

Question ID : 264330155708
Option 1 ID : 264330610238
Option 2 ID : 264330610236
Option 3 ID : 264330610235
Option 4 ID : 264330610237
Status : Answered
Chosen Option : 2

Q.17 1.5, 4.8 और 8 का चतुर्थ समानुपाती _____ है।

- Ans
- 1. 26.5
 - 2. 24.5
 - 3. 25.6
 - 4. 22.6

Question ID : 264330153770
Option 1 ID : 264330602545
Option 2 ID : 264330602544
Option 3 ID : 264330602543
Option 4 ID : 264330602546
Status : Answered
Chosen Option : 3

Q.18 समान लंबाई की दो रेलगाड़ियां समानांतर पटरियों पर समान दिशा में 36 km/h और 54 km/h की चाल से चल रही हैं। तेज रेलगाड़ी धीमी रेलगाड़ी को 48 सेकंड में पार कर जाती है। प्रत्येक रेलगाड़ी की लंबाई (m) कितनी है?

- Ans
- 1. 160
 - 2. 80
 - 3. 120
 - 4. 240

Question ID : 264330156490
Option 1 ID : 264330613350
Option 2 ID : 264330613349
Option 3 ID : 264330613348
Option 4 ID : 264330613347
Status : Answered
Chosen Option : 3

Q.19 ₹72,000 की धनराशि पर 1.5 वर्ष के लिए 10% वार्षिक दर से अर्धवार्षिक रूप से संयोजित चक्रवृद्धि ब्याज और समान धनराशि पर 5% वार्षिक दर से 3 वर्ष के लिए साधारण ब्याज के बीच का अंतर कितना होगा?

- Ans
- 1. ₹540
 - 2. ₹449
 - 3. ₹559
 - 4. ₹549

Question ID : 264330154133
Option 1 ID : 264330603997
Option 2 ID : 264330603995
Option 3 ID : 264330603996
Option 4 ID : 264330603998
Status : Answered
Chosen Option : 4

Q.20 निम्नलिखित व्यंजक को सरल कीजिए।

$$45 - 22 \div 2 + 12 + 70 \div 35 + 0.4 \div 0.8 + 1.5 \div 3 + 1$$

- Ans
- 1. 50.5
 - 2. 50
 - 3. 54.5
 - 4. 48.5

Question ID : 264330153830
Option 1 ID : 264330602783
Option 2 ID : 264330602785
Option 3 ID : 264330602784
Option 4 ID : 264330602786
Status : Answered
Chosen Option : 2

Section : Reasoning Ability and Problem Solving

Q.1 एक निश्चित तर्क के अनुसार 8, 40 से संबंधित है। समान तर्क के अनुसार, 3, 15 से संबंधित है। समान तर्क का अनुसरण करते हुए 52 निम्नलिखित में से किससे संबंधित है?

- Ans
- 1. 263
 - 2. 262
 - 3. 261
 - 4. 260

Question ID : 264330151587
Option 1 ID : 264330593978
Option 2 ID : 264330593977
Option 3 ID : 264330593976
Option 4 ID : 264330593975
Status : Answered
Chosen Option : 4

Q.2 यदि 4 नवंबर 2021 को गुरुवार है, तो 13 मई 2023 को सप्ताह का कौन-सा दिन होगा?

- Ans
- 1. रविवार
 - 2. शनिवार
 - 3. शुक्रवार
 - 4. सोमवार

Question ID : 264330154358
Option 1 ID : 264330604898
Option 2 ID : 264330604895
Option 3 ID : 264330604896
Option 4 ID : 264330604897
Status : Answered
Chosen Option : 2

Q.3 नीचे दिए गए कथन/कथनों और निष्कर्षों को ध्यानपूर्वक पढ़िए। आपको मानना है कि दिए गए कथन सत्य हैं चाहे वे सामान्यतः ज्ञात तथ्यों से अलग प्रतीत होते हों। आपको निश्चय करना है कि कौन-सा/कौन-से निष्कर्ष तार्किक रूप से दिए गए कथन/कथनों के अनुसार है/हैं।
कथन: सभी इमारतें, चॉक हैं। कोई चॉक, टॉफी नहीं है।
निष्कर्ष:

- (I) कोई इमारत, टॉफी नहीं है।
(II) सभी चॉक, इमारतें हैं।

Ans

- ✗ 1. केवल निष्कर्ष (II) कथनों के अनुसार है।
✗ 2. दोनों निष्कर्ष (I) और (II) कथनों के अनुसार हैं।
✗ 3. न तो निष्कर्ष (I) और न ही (II) कथनों के अनुसार है।
✓ 4. केवल निष्कर्ष (I) कथनों के अनुसार है।

Question ID : 264330154432

Option 1 ID : 264330605192

Option 2 ID : 264330605194

Option 3 ID : 264330605193

Option 4 ID : 264330605191

Status : Answered

Chosen Option : 4

Q.4 नीचे दिए गए कथनों और निष्कर्षों को ध्यानपूर्वक पढ़िए। आपको मानना है कि दिए गए कथन सत्य हैं चाहे वे सामान्यतः ज्ञात तथ्यों से अलग प्रतीत होते हों। आपको निश्चय करना है कि कौन-सा/कौन-से निष्कर्ष तार्किक रूप से दिए गए कथनों के अनुसार है/हैं।

कथन: सभी केक, बिस्किट हैं। कुछ बिस्किट, टार्ट हैं। सभी टार्ट, पुडिंग हैं।

निष्कर्ष I: कुछ बिस्किट, केक हैं।

निष्कर्ष II: कुछ पुडिंग, बिस्किट हैं।

Ans

- ✗ 1. केवल निष्कर्ष (I) कथनों के अनुसार है।
✗ 2. न तो निष्कर्ष (I) और न ही (II) कथनों के अनुसार है।
✗ 3. केवल निष्कर्ष (II) कथनों के अनुसार है।
✓ 4. दोनों निष्कर्ष (I) और (II) कथनों के अनुसार हैं।

Question ID : 264330155937

Option 1 ID : 264330611151

Option 2 ID : 264330611153

Option 3 ID : 264330611152

Option 4 ID : 264330611154

Status : Answered

Chosen Option : 4

Q.5 E, F, G, H, I और J एक वृत्ताकार मेज के चारों ओर केंद्र की ओर मुख करके बैठे हैं। J, I के ठीक बाईं ओर बैठा है। G, I के दाईं ओर से दूसरे स्थान पर बैठा है। E, G के दाईं ओर से दूसरे स्थान पर बैठा है। H, F के बाईं ओर से दूसरे स्थान पर बैठा है। E के दाईं ओर से तीसरे स्थान पर कौन बैठा है?

- Ans**
- 1. F
 - 2. I
 - 3. J
 - 4. H

Question ID : 264330154472

Option 1 ID : 264330605354

Option 2 ID : 264330605353

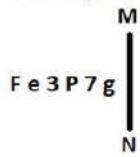
Option 3 ID : 264330605352

Option 4 ID : 264330605351

Status : Answered

Chosen Option : 4

Q.6 दी गई आकृति के उस सही दर्पण प्रतिबिंब को चुनिए, जो नीचे दर्शाए गए अनुसार दर्पण को MN पर रखने पर बनेगा।



- Ans**
- 1. g 7 P 3 e F
 - 2. g 7 e 3 F
 - 3. F e 3 P 7 g
 - 4. F e 3 P 7 g

Question ID : 264330151525

Option 1 ID : 264330593729

Option 2 ID : 264330593728

Option 3 ID : 264330593727

Option 4 ID : 264330593730

Status : Answered

Chosen Option : 1

Q.7 अंग्रेजी वर्णमाला क्रम के आधार पर दी गई श्रृंखला में प्रश्न चिह्न (?) के स्थान पर क्या आना चाहिए?

UDM, XGP, AJS, DMV, ?

- Ans**
- 1. EOX
 - 2. FPX
 - 3. GPY
 - 4. FOY

Question ID : 264330155764

Option 1 ID : 264330610462

Option 2 ID : 264330610461

Option 3 ID : 264330610460

Option 4 ID : 264330610459

Status : Answered

Chosen Option : 3

Q.8 एक निश्चित कूट भाषा में, 'NAME' को '2473' लिखा जाता है और 'MEND' को '7642' लिखा जाता है। उसी कूट भाषा में 'D' को कैसे लिखा जाएगा?

- Ans**
- 1. 4
 - 2. 7
 - 3. 2
 - 4. 6

Question ID : 264330151707

Option 1 ID : 264330594458

Option 2 ID : 264330594456

Option 3 ID : 264330594455

Option 4 ID : 264330594457

Status : Answered

Chosen Option : 4

Q.9 उस समुच्चय को चुनिए जिसमें संख्याएँ ठीक उसी प्रकार संबंधित हैं जिस प्रकार निम्नलिखित समुच्चयों की संख्याएँ संबंधित हैं।

(ध्यान दें: संख्याओं को उनके घटक अंकों में अलग-अलग किए बिना, पूर्ण संख्याओं पर संक्रियाएँ की जानी चाहिए। उदा. 13 - संख्या 13 पर संक्रियाएँ जैसे 13 को जोड़ना/घटाना/गुणा करना आदि किया जा सकता है। 13 को 1 और 3 में अलग-अलग करने की और फिर 1 और 3 पर गणितीय संक्रियाएँ करने की अनुमति नहीं है।)

(8, 720, 9)

(16, 800, 5)

- Ans**
- 1. 7, 125, 8
 - 2. 18, 1260, 7
 - 3. 13, 169, 5
 - 4. 14, 238, 5

Question ID : 264330151611

Option 1 ID : 264330594071

Option 2 ID : 264330594073

Option 3 ID : 264330594072

Option 4 ID : 264330594074

Status : Answered

Chosen Option : 2

Q.10 एक निश्चित कूट भाषा में, 'CHORAL' को 'OHCLAR' लिखा जाता है और 'FOREGO' को 'ROFOGE' लिखा जाता है। उस कूट भाषा में 'GALLEY' को कैसे लिखा जाएगा?

- Ans**
- 1. YELLAG
 - 2. GYALLE
 - 3. ELLAGY
 - 4. LAGYEL

Question ID : 264330155809

Option 1 ID : 264330610640

Option 2 ID : 264330610641

Option 3 ID : 264330610642

Option 4 ID : 264330610639

Status : Answered

Chosen Option : 4

Q.11 अंग्रेजी वर्णमाला क्रम के आधार पर LCNT, NEPV से एक निश्चित प्रकार से संबंधित है। उसी प्रकार, HBER, JDGT से संबंधित है। समान तर्क का अनुसरण करते हुए, OSCF निम्नलिखित में से किससे संबंधित है?

- Ans 1. QUEH
 2. PUDJ
 3. RVEH
 4. QVEI

Question ID : 264330151682
Option 1 ID : 264330594358
Option 2 ID : 264330594357
Option 3 ID : 264330594355
Option 4 ID : 264330594356
Status : Answered
Chosen Option : 1

Q.12 दी गई श्रृंखला में प्रश्न चिन्ह '?' के स्थान पर क्या आना चाहिए?

24 103 498 2473 12348 ?

- Ans 1. 60983
 2. 61723
 3. 63487
 4. 62457

Question ID : 264330151455
Option 1 ID : 264330593447
Option 2 ID : 264330593448
Option 3 ID : 264330593450
Option 4 ID : 264330593449
Status : Answered
Chosen Option : 2

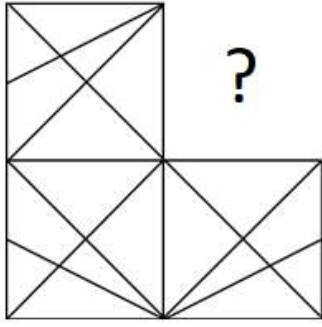
Q.13 अंग्रेजी वर्णमाला क्रम के आधार पर दी गई श्रृंखला में प्रश्न चिह्न (?) के स्थान पर क्या आना चाहिए?

TOY, UQB, VSE, WUH, ?

- Ans 1. YVJ
 2. ZWI
 3. XWK
 4. YUI

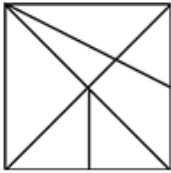
Question ID : 264330155774
Option 1 ID : 264330610499
Option 2 ID : 264330610502
Option 3 ID : 264330610500
Option 4 ID : 264330610501
Status : Answered
Chosen Option : 3

Q.14 पैटर्न को पूरा करने वाली आकृति को पहचानिए (घूर्णन की अनुमति नहीं है)।

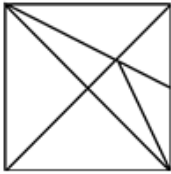


Ans

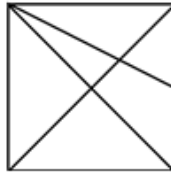
✗ 1.



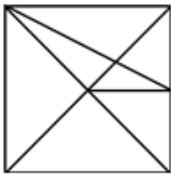
✗ 2.



✓ 3.



✗ 4.



Question ID : 264330154517

Option 1 ID : 264330605532

Option 2 ID : 264330605534

Option 3 ID : 264330605531

Option 4 ID : 264330605533

Status : Answered

Chosen Option : 3

Q.15 अंग्रेजी वर्णमाला क्रम के आधार पर दी गई श्रृंखला में प्रश्न चिह्न (?) के स्थान पर क्या आना चाहिए?

LPA, PSY, TVW, XYU, ?

Ans ✗ 1. CDS

✓ 2. BBS

✗ 3. DCR

✗ 4. CBR

Question ID : 264330155801

Option 1 ID : 264330610609

Option 2 ID : 264330610607

Option 3 ID : 264330610610

Option 4 ID : 264330610608

Status : Answered

Chosen Option : 2

Q.16 यदि T का अर्थ +, J का अर्थ ×, R का अर्थ - और L का अर्थ ÷ है, तो निम्नलिखित समीकरण में प्रश्न चिन्ह (?) के स्थान पर क्या आएगा?
105 L (72 K 9) I 43 L (9 J 4) = ?

- Ans
- 1. 114
 - 2. 106
 - 3. 126
 - 4. 104

Question ID : 264330151798
Option 1 ID : 264330594820
Option 2 ID : 264330594819
Option 3 ID : 264330594821
Option 4 ID : 264330594822
Status : Answered
Chosen Option : 4

Q.17 दी गई श्रृंखला में प्रश्न चिन्ह '?' के स्थान पर क्या आना चाहिए?

77 754 ? 75224 752224 7522224 75222224

- Ans
- 1. 7544
 - 2. 7524
 - 3. 7425
 - 4. 7254

Question ID : 264330151443
Option 1 ID : 264330593400
Option 2 ID : 264330593399
Option 3 ID : 264330593402
Option 4 ID : 264330593401
Status : Answered
Chosen Option : 2

Q.18 दी गई श्रृंखला में प्रश्न चिह्न '?' के स्थान पर क्या आना चाहिए?

64 61 55 46 34 ?

- Ans
- 1. 21
 - 2. 15
 - 3. 19
 - 4. 24

Question ID : 264330151722
Option 1 ID : 264330594515
Option 2 ID : 264330594518
Option 3 ID : 264330594517
Option 4 ID : 264330594516
Status : Answered
Chosen Option : 3

Q.19 यदि '+' और '-' को आपस में बदल दिया जाए तथा 'x' और '÷' को आपस में बदल दिया जाए तो निम्नलिखित समीकरण में (?) के स्थान पर क्या आएगा?
 $111 \times 3 - 13 \div 3 + 26 = ?$

- Ans 1. 50
 2. 70
 3. 40
 4. 60

Question ID : 264330155674

Option 1 ID : 264330610101

Option 2 ID : 264330610102

Option 3 ID : 264330610100

Option 4 ID : 264330610099

Status : Answered

Chosen Option : 1

Q.20 यदि निम्नलिखित आकृति श्रृंखला को जारी रखना हो तो कौन-सी आकृति प्रश्न चिन्ह (?) के स्थान पर आनी चाहिए?

6	☆	☆	B	U	H	H	B	
U	B	H	□	6	U	☆	B	Z
Z	□	H	Z	6	□	Z	6	?

Ans

1.

6	Z
☆	B
U	H
2.

6	Z
☆	H
B	U
3.

6	☆
B	H
□	U
4.

☆	Z
H	B
U	□

Question ID : 264330154740

Option 1 ID : 264330606426

Option 2 ID : 264330606425

Option 3 ID : 264330606423

Option 4 ID : 264330606424

Status : Answered

Chosen Option : 1

Q.1 किस वर्ष पाकिस्तान ने कबड्डी (सर्कल स्टाइल) विश्व कप जीता था?

Ans 1. 2020

2. 2016

3. 2014

4. 2013

Question ID : 264330158235

Option 1 ID : 264330620302

Option 2 ID : 264330620301

Option 3 ID : 264330620300

Option 4 ID : 264330620299

Status : Answered

Chosen Option : 2

Q.2 मार्च 2023 में मुंबई इंडियंस ने किस टीम को हराकर महिला प्रीमियर लीग (Women's Premier League) जीती?

Ans 1. रॉयल चैलेंजर्स

2. दिल्ली कैपिटल्स

3. यूपी वारियर्स

4. गुजरात जायंट्स

Question ID : 264330158352

Option 1 ID : 264330620768

Option 2 ID : 264330620769

Option 3 ID : 264330620770

Option 4 ID : 264330620767

Status : Answered

Chosen Option : 2

Q.3 _____ का सोंगी मुखवटे नृत्य (Songi Mukhawate dance) असत्य पर सत्य की जीत का जश्न मनाता है। इस नृत्य का नाम दो नृत्य कलाकारों द्वारा पहने जाने वाले दो शेर के मुखौटों से लिया गया है जो भगवान विष्णु के एक पहलू, नरसिम्हा को दर्शाता है।

Ans 1. गुजरात

2. मध्यप्रदेश

3. महाराष्ट्र

4. झारखंड

Question ID : 264330160802

Option 1 ID : 264330630540

Option 2 ID : 264330630541

Option 3 ID : 264330630539

Option 4 ID : 264330630542

Status : Answered

Chosen Option : 2

Q.4 मुंबई से गोवा के बीच भारत के पश्चिमी तट के विस्तार को _____ के रूप में जाना जाता है।

- Ans
- 1. कोरोमंडल तट
 - 2. कन्नड़ मैदान
 - 3. मालाबार तट
 - 4. कोंकण तट

Question ID : 264330161495
Option 1 ID : 264330633310
Option 2 ID : 264330633307
Option 3 ID : 264330633308
Option 4 ID : 264330633309
Status : Answered
Chosen Option : 3

Q.5 उत्तर-दक्षिण गलियारा, जो स्वर्णिम चतुर्भुज महा राजमार्ग का एक हिस्सा है, वह भारत के निम्नलिखित किन दो शहरों को जोड़ता है?

- Ans
- 1. श्रीनगर और कन्याकुमारी
 - 2. जम्मू और कन्याकुमारी
 - 3. लेह और चेन्नई
 - 4. दिल्ली और चेन्नई

Question ID : 264330161489
Option 1 ID : 264330633285
Option 2 ID : 264330633286
Option 3 ID : 264330633283
Option 4 ID : 264330633284
Status : Answered
Chosen Option : 4

Q.6 उत्तरप्रदेश सरकार द्वारा दूध उत्पादन को बढ़ावा देने के लिए शुरू की गई योजना का नाम क्या है?

- Ans
- 1. गोकुल दुग्ध मिशन
 - 2. कृष्ण बलराम दुग्ध मिशन
 - 3. गुआ रास मिशन
 - 4. नंद बाबा दुग्ध मिशन

Question ID : 264330158329
Option 1 ID : 264330620678
Option 2 ID : 264330620675
Option 3 ID : 264330620676
Option 4 ID : 264330620677
Status : Answered
Chosen Option : 4

Q.7 सामाजिक-धार्मिक सुधारों के उद्देश्य से रस्त गोफतार (Rast Gofatar) नामक पत्रिका किस समुदाय के लिए शुरू की गई थी?

- Ans
- 1. मुसलमान
 - 2. हिंदू
 - 3. सिख
 - 4. पारसी

Question ID : 264330160892
Option 1 ID : 264330630901
Option 2 ID : 264330630902
Option 3 ID : 264330630900
Option 4 ID : 264330630899
Status : Answered
Chosen Option : 4

Q.8 मानव विकास रिपोर्ट 2021-22 के अनुसार 191 देशों में भारत का कौन-सा स्थान है?

- Ans 1. 117
 2. 148
 3. 132
 4. 180

Question ID : 264330160167
Option 1 ID : 264330628010
Option 2 ID : 264330628008
Option 3 ID : 264330628009
Option 4 ID : 264330628007
Status : Answered
Chosen Option : 3

Q.9 परमाणु संख्या 35 वाले किस रासायनिक तत्व में तीक्ष्ण गंध (burning pungent odour) वाला गहरा लाल-भूरा तरल होता है?

- Ans 1. ऐस्टैटीन
 2. क्लोरीन
 3. ब्रोमीन
 4. टेनिसीन

Question ID : 264330161061
Option 1 ID : 264330631577
Option 2 ID : 264330631575
Option 3 ID : 264330631576
Option 4 ID : 264330631578
Status : Answered
Chosen Option : 3

Q.10 निम्नलिखित में से कौन-सी आत्मकथा संबंधित क्रिकेटर से सही ढंग से मेल नहीं खाती है?

- Ans 1. स्ट्रेट फ्रॉम द हार्ट - कपिल देव
 2. द टेस्ट ऑफ माई लाइफ: फ्रॉम क्रिकेट टू कैसर एंड बैक - युवराज सिंह
 3. प्लेइंग इट माई वे - वी. वी. एस. लक्ष्मण
 4. क्रिकेट डिलाइटफुल - मुश्ताक अली

Question ID : 264330161753
Option 1 ID : 264330634339
Option 2 ID : 264330634342
Option 3 ID : 264330634341
Option 4 ID : 264330634340
Status : Answered
Chosen Option : 3

Q.11 1928 में हिंदुस्तान सोशलिस्ट रिपब्लिकन एसोसिएशन की स्थापना कहां हुई थी?

- Ans 1. कानपुर
 2. दिल्ली
 3. अमृतसर
 4. लखनऊ

Question ID : 264330162324
Option 1 ID : 264330636625
Option 2 ID : 264330636626
Option 3 ID : 264330636624
Option 4 ID : 264330636623
Status : Answered
Chosen Option : 2

Q.12 निम्नलिखित में से किसे यूरोपीय नाट्य तकनीकों को भारतीय शास्त्रीय नृत्य में अपनाकर नृत्य की एक मिश्रित शैली बनाने के लिए जाना जाता है?

- Ans 1. उदय शंकर
 2. यामिनी कृष्णमूर्ति
 3. सोनल मानसिंह
 4. गोपी कृष्ण

Question ID : 264330155522
Option 1 ID : 264330609492
Option 2 ID : 264330609494
Option 3 ID : 264330609493
Option 4 ID : 264330609491
Status : Answered
Chosen Option : 1

Q.13 भारत के संविधान का कौन-सा अनुच्छेद राष्ट्रपति के कार्यों के निष्पादन में राष्ट्रपति को सहायता और सलाह देने के लिए प्रधान मंत्री की अध्यक्षता में मंत्रिपरिषद का प्रावधान करता है?

- Ans 1. अनुच्छेद 74
 2. अनुच्छेद 77
 3. अनुच्छेद 71
 4. अनुच्छेद 72

Question ID : 264330161288
Option 1 ID : 264330632481
Option 2 ID : 264330632482
Option 3 ID : 264330632479
Option 4 ID : 264330632480
Status : Answered
Chosen Option : 2

Q.14 निम्नलिखित में से कौन-सा भारत में सूक्ष्म वित्त संस्थानों का एक प्रमुख उद्देश्य है?

- Ans 1. वित्तीय समायोजन को बढ़ावा देना और निर्धनता निवारण
 2. विशेष रूप से महिला उद्यमियों को ऋण उपलब्ध कराना
 3. शेयरधारकों के मुनाफे को बढ़ाना
 4. बड़े पैमाने पर औद्योगीकरण को प्रोत्साहित करना

Question ID : 264330157288
Option 1 ID : 264330616516
Option 2 ID : 264330616517
Option 3 ID : 264330616515
Option 4 ID : 264330616518
Status : Answered
Chosen Option : 1

Q.15 अगस्त 2021 तक, भारत में कितनी शास्त्रीय नृत्य शैलियां संगीत नाटक अकादमी द्वारा आधिकारिक तौर मान्यता प्राप्त थी?

Ans 1. 8

2. 6

3. 9

4. 7

Question ID : 264330160786

Option 1 ID : 264330630477

Option 2 ID : 264330630475

Option 3 ID : 264330630478

Option 4 ID : 264330630476

Status : Answered

Chosen Option : 4

Q.16 किस प्रक्रिया को कभी-कभी "न्यूनीकरण विभाजन (reduction division)" कहा जाता है क्योंकि यह शुक्राणु और अंडे बनाने के लिए गुणसूत्रों की संख्या को सामान्य संख्या से आधा कर देता है?

Ans 1. अस्त्री विभाजन (Amitosis)

2. कोशिका द्रव्य विभाजन (Cytokinesis)

3. केंद्रक विभाजन (Karyokinesis)

4. अर्धसूत्री विभाजन (Meiosis)

Question ID : 264330161089

Option 1 ID : 264330631689

Option 2 ID : 264330631687

Option 3 ID : 264330631688

Option 4 ID : 264330631690

Status : Answered

Chosen Option : 4

Q.17 त्रिमुखी, पंचमुखी, सप्तमुखी और नवमुखी जैसे तालों की रचना करने का श्रेय किस भारतीय संगीत दिग्गज को दिया जाता है?

Ans 1. बड़े गुलाम अली खान (Bade Ghulam Ali Khan)

2. के.जे. येसुदास (KJ Yesudas)

3. पंडित जसराज (Pandit Jasraj)

4. एम. बालामुरलीकृष्ण (M Balamuralikrishna)

Question ID : 264330155464

Option 1 ID : 264330609261

Option 2 ID : 264330609262

Option 3 ID : 264330609259

Option 4 ID : 264330609260

Status : Answered

Chosen Option : 1

Q.18 एल नीनो का तात्पर्य क्या है?

- Ans
- 1. उच्च वायुदाब
 - 2. कम वायुदाब
 - 3. गर्म जल धारा
 - 4. दाब जल धारा

Question ID : 264330161310

Option 1 ID : 264330632570

Option 2 ID : 264330632569

Option 3 ID : 264330632567

Option 4 ID : 264330632568

Status : Answered

Chosen Option : 3

Q.19 _____ गुवाहाटी के कामाख्या मंदिर (Kamakhya temple) के सबसे महत्वपूर्ण त्योहारों में से एक है। यह हर साल मानसून (मध्य जून) के मौसम में आयोजित किया जाता है, जब मंदिर तांत्रिक अनुष्ठानों के लिए तीन दिनों के लिए बंद रहता है।

- Ans
- 1. अंबुबाची (Ambubachi)
 - 2. बैशागू (Baishagu)
 - 3. मी-दम-मी-फी (Me-Dum-Me-Phi)
 - 4. बिहु (Bihu)

Question ID : 264330160821

Option 1 ID : 264330630617

Option 2 ID : 264330630616

Option 3 ID : 264330630618

Option 4 ID : 264330630615

Status : Answered

Chosen Option : 1

Q.20 कामाख्या मंदिर (Kamakhya temple) किस शहर में स्थित है?

- Ans
- 1. देहरादून
 - 2. गुवाहाटी
 - 3. भोपाल
 - 4. इंदौर

Question ID : 264330160779

Option 1 ID : 264330630450

Option 2 ID : 264330630448

Option 3 ID : 264330630447

Option 4 ID : 264330630449

Status : Answered

Chosen Option : 2

Q.21 निम्नलिखित में से कौन-सा कथन सूक्ष्म वित्त संस्थान (MFI) को सबसे अच्छी तरह परिभाषित करता है?

- Ans
- 1. सूक्ष्म वित्त संगठन (MFIs) निवेश कंपनियां हैं जो विशेष रूप से बहुत अधिक नेट-वर्थ वाले व्यक्तियों को सेवाएं प्रदान करती हैं।
 - 2. सूक्ष्म वित्त संगठन (MFIs) सरकारी एजेंसियां हैं जो सूक्ष्म वित्त क्षेत्र को विनियमित करती हैं।
 - 3. सूक्ष्म वित्त संगठन (MFIs) ऐसे बैंक हैं जो केवल बड़े निगमों को ऋण प्रदान करते हैं।
 - 4. सूक्ष्म वित्त संगठन (MFIs) गैर-लाभकारी संगठन हैं जो कम आय वाले व्यक्तियों और छोटे व्यवसायों को वित्तीय सेवाएं प्रदान करते हैं।

Question ID : 264330157284

Option 1 ID : 264330616502

Option 2 ID : 264330616501

Option 3 ID : 264330616499

Option 4 ID : 264330616500

Status : Answered

Chosen Option : 4

Q.22 राज्य के नीति निर्देशक सिद्धांतों का स्रोत क्या है?

- Ans
- 1. भारत सरकार अधिनियम 1935 से निर्देशों का साधन (The instrument of instructions from GOI Act 1935)
 - 2. भारत सरकार अधिनियम 1909 से निर्देशों का साधन (The instrument of instructions from GOI Act 1909)
 - 3. भारत सरकार अधिनियम 1919 से निर्देशों का साधन (The instrument of instructions from GOI Act 1919)
 - 4. भारत सरकार अधिनियम 1947 से निर्देशों का साधन (The instrument of instructions from GOI Act 1947)

Question ID : 264330161397

Option 1 ID : 264330632917

Option 2 ID : 264330632915

Option 3 ID : 264330632916

Option 4 ID : 264330632918

Status : Answered

Chosen Option : 1

Q.23 26 जनवरी को संविधान के उद्घाटन की तारीख के रूप में चुना गया था क्योंकि 1930 में इसी तारीख को, भारतीय राष्ट्रीय कांग्रेस ने _____ का खुलासा किया था।

- Ans
- 1. भारत छोड़ो आंदोलन
 - 2. पूर्ण स्वराज आंदोलन
 - 3. खिलाफत आंदोलन
 - 4. नमक सत्याग्रह

Question ID : 264330161346

Option 1 ID : 264330632712

Option 2 ID : 264330632711

Option 3 ID : 264330632714

Option 4 ID : 264330632713

Status : Answered

Chosen Option : 2

Q.24 द गाइड 1958 में भारतीय लेखक _____ द्वारा अंग्रेजी में लिखा गया एक उपन्यास है।

- Ans
- 1. नीरद चौधरी
 - 2. आर.के. नारायण
 - 3. खुशवंत सिंह
 - 4. मुल्कराज आनंद

Question ID : 264330155452
Option 1 ID : 264330609214
Option 2 ID : 264330609213
Option 3 ID : 264330609212
Option 4 ID : 264330609211
Status : Answered
Chosen Option : 1

Q.25 13वीं हॉकी इंडिया सीनियर महिला राष्ट्रीय हॉकी चैम्पियनशिप कहां आयोजित की गई?

- Ans
- 1. आंध्र प्रदेश
 - 2. कर्नाटक
 - 3. नई दिल्ली
 - 4. पंजाब

Question ID : 264330161155
Option 1 ID : 264330631951
Option 2 ID : 264330631954
Option 3 ID : 264330631953
Option 4 ID : 264330631952
Status : Answered
Chosen Option : 3

Section : English Language and Comprehension

Q.1 Select the most appropriate meaning of the given idiom.

Bigger fish to fry

- Ans
- 1. To barely get something done
 - 2. Having something more important to take care of
 - 3. Having work more than one's capacity
 - 4. To be similar to one's parents in some way

Question ID : 264330153013
Option 1 ID : 264330599626
Option 2 ID : 264330599624
Option 3 ID : 264330599623
Option 4 ID : 264330599625
Status : Answered
Chosen Option : 3

Q.2 There is a spelling error in the given sentence. Select the option that contains the **INCORRECTLY** spelt word.

The hungry goblin scratched the grammar book with a feather.

- Ans
- 1. feather
 - 2. scratched
 - 3. grammar
 - 4. hungry

Question ID : 264330152836
Option 1 ID : 264330598938
Option 2 ID : 264330598936
Option 3 ID : 264330598937
Option 4 ID : 264330598935
Status : Answered
Chosen Option : 4

Q.3 Select the most appropriate option to fill in the blank.
The rusty door made a _____ screeching noise.

- Ans
- 1. smooth
 - 2. harsh
 - 3. low
 - 4. soft

Question ID : 264330152638
Option 1 ID : 264330598155
Option 2 ID : 264330598156
Option 3 ID : 264330598157
Option 4 ID : 264330598158
Status : Answered
Chosen Option : 2

Q.4 Select the most appropriate **ANTONYM** of the given word.
Enormous

- Ans
- 1. Inapposite
 - 2. Tiny
 - 3. Irrelevant
 - 4. Gigantic

Question ID : 264330151876
Option 1 ID : 264330595126
Option 2 ID : 264330595124
Option 3 ID : 264330595125
Option 4 ID : 264330595123
Status : Answered
Chosen Option : 2

Q.5 There is a spelling error in the given sentence. Select the option that contains the **INCORRECTLY** spelt word.

The questionnaire appeared to be misrably designed.

- Ans 1. questionnaire
 2. misrably
 3. appeared
 4. designed

Question ID : 264330152839
Option 1 ID : 264330598947
Option 2 ID : 264330598949
Option 3 ID : 264330598948
Option 4 ID : 264330598950
Status : Answered
Chosen Option : 2

Q.6 The following sentence has been split into four segments. Identify the segment that contains a grammatical error.

This is the first time / I ate such / a tasty cake.

- Ans 1. I ate such
 2. This is the first time
 3. a tasty cake
 4. No error

Question ID : 264330153616
Option 1 ID : 264330601948
Option 2 ID : 264330601947
Option 3 ID : 264330601949
Option 4 ID : 264330601950
Status : Answered
Chosen Option : 1

Q.7 Select the most appropriate synonym of the given word.
Cordial

- Ans 1. Aromatic
 2. Friendly
 3. Brave
 4. Unfriendly

Question ID : 264330151918
Option 1 ID : 264330595289
Option 2 ID : 264330595288
Option 3 ID : 264330595290
Option 4 ID : 264330595287
Status : Answered
Chosen Option : 2

Q.8 Four words of the following sentence have been underlined and given as options. Select the option that contains a spelling error.

All life depends on a healthy planet, but the interwoven systems of atmosphere, oceans, watercourses, land, ice cover and biosphere, which form the natural environment, are threatned by human activities.

- Ans
- 1. watercourses
 - 2. threatned
 - 3. interwoven
 - 4. biosphere

Question ID : 264330151928
Option 1 ID : 264330595328
Option 2 ID : 264330595330
Option 3 ID : 264330595327
Option 4 ID : 264330595329
Status : Answered
Chosen Option : 1

Q.9 Select the most appropriate option to fill in the blank.

The tone of his voice seemed to _____ that he knew more than he was letting on.

- Ans
- 1. intent
 - 2. incise
 - 3. inculcate
 - 4. imply

Question ID : 264330151864
Option 1 ID : 264330595078
Option 2 ID : 264330595077
Option 3 ID : 264330595075
Option 4 ID : 264330595076
Status : Answered
Chosen Option : 2

Q.10 Select the most appropriate option to fill in the blank.

Varun has to _____ his studies for the sake of his ill father.

- Ans
- 1. applaud
 - 2. reverse
 - 3. sacrifice
 - 4. imitate

Question ID : 264330153551
Option 1 ID : 264330601706
Option 2 ID : 264330601704
Option 3 ID : 264330601703
Option 4 ID : 264330601705
Status : Answered
Chosen Option : 3

Q.11 Select the most appropriate option to fill in the blank.
COVID-19 _____ structural weaknesses in health systems worldwide and negatively impacted individuals, societies, and economies.

- Ans 1. concealed
 2. hit
 3. laid
 4. revealed

Question ID : 264330151903
Option 1 ID : 264330595227
Option 2 ID : 264330595229
Option 3 ID : 264330595228
Option 4 ID : 264330595230
Status : Answered
Chosen Option : 4

Q.12 Select the most appropriate option to fill in the blank.
Tom waited until _____ to start working on his term paper but managed to finish it just in time.

- Ans 1. the eleventh hour
 2. the twelfth hour
 3. the tenth hour
 4. the thirteenth hour

Question ID : 264330151885
Option 1 ID : 264330595159
Option 2 ID : 264330595161
Option 3 ID : 264330595160
Option 4 ID : 264330595162
Status : Answered
Chosen Option : 1

Q.13 Select the most appropriate meaning of the underlined idiom.

The Indian team had its back against the wall, but managed to fight back.

- Ans 1. Forced to indulge in propaganda
 2. In extreme joy or exhilaration
 3. Stuck in a difficult circumstance with no escape
 4. Throwing the opposition off guard

Question ID : 264330153142
Option 1 ID : 264330600128
Option 2 ID : 264330600127
Option 3 ID : 264330600129
Option 4 ID : 264330600130
Status : Answered
Chosen Option : 3

Q.14 Select the most appropriate option that can substitute the underlined segment in the given sentence.

She will handling the baby as tenderly as possible.

- Ans
- 1. will handled
 - 2. shall handles
 - 3. wills handle
 - 4. will handle

Question ID : 264330153483
Option 1 ID : 264330601448
Option 2 ID : 264330601447
Option 3 ID : 264330601450
Option 4 ID : 264330601449
Status : Answered
Chosen Option : 4

Q.15 Parts of the following sentence have been given as options. Select the option that contains an error.
Vikram is very stronger than I am.

- Ans
- 1. than
 - 2. I am
 - 3. Vikram is
 - 4. very stronger

Question ID : 264330152798
Option 1 ID : 264330598785
Option 2 ID : 264330598786
Option 3 ID : 264330598783
Option 4 ID : 264330598784
Status : Answered
Chosen Option : 4

Q.16 Select the option that can be used as a one-word substitute for the given group of words.

A lover of books

- Ans
- 1. Teacher
 - 2. Bibliophile
 - 3. Philosopher
 - 4. Librarian

Question ID : 264330152737
Option 1 ID : 264330598547
Option 2 ID : 264330598550
Option 3 ID : 264330598549
Option 4 ID : 264330598548
Status : Answered
Chosen Option : 2

Q.17 Select the most appropriate ANTONYM of the given word.
Annoy

- Ans 1. Irritate
 2. Gratify
 3. Thrill
 4. Vex

Question ID : 264330152593
Option 1 ID : 264330597975
Option 2 ID : 264330597977
Option 3 ID : 264330597978
Option 4 ID : 264330597976
Status : Answered
Chosen Option : 3

Q.18 Parts of the following sentence have been given as options. Select the option that contains an error.

A old woman suddenly laughed, sounding just like an amused hen.

- Ans 1. suddenly laughed
 2. A old woman
 3. like an amused hen
 4. sounding just

Question ID : 264330153606
Option 1 ID : 264330601908
Option 2 ID : 264330601907
Option 3 ID : 264330601910
Option 4 ID : 264330601909
Status : Answered
Chosen Option : 2

Q.19 Select the most appropriate meaning of the given idiom.
A storm in a teacup

- Ans 1. Suffering in silence
 2. Much excitement over something trivial
 3. Easy money
 4. A signal for upcoming storm

Question ID : 264330156386
Option 1 ID : 264330612944
Option 2 ID : 264330612945
Option 3 ID : 264330612946
Option 4 ID : 264330612943
Status : Answered
Chosen Option : 2

Q.20 Select the most appropriate option that can substitute the underlined segment in the given sentence.

You are always try with jump over the wall.

- Ans 1. trying in jumping
 2. trying to jump
 3. try to jump
 4. tried with jump

Question ID : 264330153475

Option 1 ID : 264330601415

Option 2 ID : 264330601418

Option 3 ID : 264330601416

Option 4 ID : 264330601417

Status : Answered

Chosen Option : 2

Comprehension:

In the following passage, some words have been deleted. Read the passage carefully and select the most appropriate option to fill in the blanks.

Kasturi went to the garden looking for her mother. Her dog Rex was waiting (1)____ her. Kasturi picked up a stick and threw it. Rex (2)_____ the stick and brought it back. Kasturi ran (3)___ the house. Rex chased her. Kasturi ran through the garden and Rex (4)____ her. Mother yelled at both of them. She told them to stay (5)_____ of the garden and play somewhere else. Kasturi apologised to her mother. She went for a bike ride while Rex ran next to the bike.

SubQuestion No : 21

Q.21 Select the most appropriate option to fill in blank number 1.

- Ans 1. by
 2. for
 3. to
 4. with

Question ID : 264330152950

Option 1 ID : 264330599378

Option 2 ID : 264330599376

Option 3 ID : 264330599377

Option 4 ID : 264330599375

Status : Answered

Chosen Option : 2

Comprehension:

In the following passage, some words have been deleted. Read the passage carefully and select the most appropriate option to fill in the blanks.

Kasturi went to the garden looking for her mother. Her dog Rex was waiting (1)____ her. Kasturi picked up a stick and threw it. Rex (2)_____ the stick and brought it back. Kasturi ran (3)___ the house. Rex chased her. Kasturi ran through the garden and Rex (4)____ her. Mother yelled at both of them. She told them to stay (5)_____ of the garden and play somewhere else. Kasturi apologised to her mother. She went for a bike ride while Rex ran next to the bike.

SubQuestion No : 22

Q.22 Select the most appropriate option to fill in blank number 2.

- Ans 1. throws
 2. chases
 3. threw
 4. chased

Question ID : 264330152951

Option 1 ID : 264330599382

Option 2 ID : 264330599380

Option 3 ID : 264330599379

Option 4 ID : 264330599381

Status : Answered

Chosen Option : 4

Comprehension:

In the following passage, some words have been deleted. Read the passage carefully and select the most appropriate option to fill in the blanks.

Kasturi went to the garden looking for her mother. Her dog Rex was waiting (1)____ her. Kasturi picked up a stick and threw it. Rex (2)_____ the stick and brought it back. Kasturi ran (3)___ the house. Rex chased her. Kasturi ran through the garden and Rex (4)____ her. Mother yelled at both of them. She told them to stay (5)_____ of the garden and play somewhere else. Kasturi apologised to her mother. She went for a bike ride while Rex ran next to the bike.

SubQuestion No : 23

Q.23 Select the most appropriate option to fill in blank number 3.

- Ans 1. in
 2. around
 3. round
 4. about

Question ID : 264330152952

Option 1 ID : 264330599386

Option 2 ID : 264330599384

Option 3 ID : 264330599383

Option 4 ID : 264330599385

Status : Answered

Chosen Option : 2

Comprehension:

In the following passage, some words have been deleted. Read the passage carefully and select the most appropriate option to fill in the blanks.

Kasturi went to the garden looking for her mother. Her dog Rex was waiting (1)____ her. Kasturi picked up a stick and threw it. Rex (2)_____ the stick and brought it back. Kasturi ran (3)___ the house. Rex chased her. Kasturi ran through the garden and Rex (4)____ her. Mother yelled at both of them. She told them to stay (5)_____ of the garden and play somewhere else. Kasturi apologised to her mother. She went for a bike ride while Rex ran next to the bike.

SubQuestion No : 24**Q.24** Select the most appropriate option to fill in blank number 4.

- Ans 1. listen
 2. followed
 3. obey
 4. came

Question ID : **264330152953**Option 1 ID : **264330599387**Option 2 ID : **264330599388**Option 3 ID : **264330599390**Option 4 ID : **264330599389**Status : **Answered**Chosen Option : **2****Comprehension:**

In the following passage, some words have been deleted. Read the passage carefully and select the most appropriate option to fill in the blanks.

Kasturi went to the garden looking for her mother. Her dog Rex was waiting (1)____ her. Kasturi picked up a stick and threw it. Rex (2)_____ the stick and brought it back. Kasturi ran (3)___ the house. Rex chased her. Kasturi ran through the garden and Rex (4)____ her. Mother yelled at both of them. She told them to stay (5)_____ of the garden and play somewhere else. Kasturi apologised to her mother. She went for a bike ride while Rex ran next to the bike.

SubQuestion No : 25**Q.25** Select the most appropriate option to fill in blank number 5.

- Ans 1. in
 2. of
 3. out
 4. from

Question ID : **264330152954**Option 1 ID : **264330599392**Option 2 ID : **264330599394**Option 3 ID : **264330599391**Option 4 ID : **264330599393**Status : **Answered**Chosen Option : **3**